


PROGRAM LINEAR



Altien J. Rindengan
Yohanes A.R. Langi



Penerbit
CV. PATRA MEDIA GRAFINDO
BANDUNG

PROGRAM LINEAR

Altien J. Rindengan

Yohanes A.R. Langi

Jurusan Matematika

Fakultas Matematika dan Ilmu Pengetahuan Alam

Universitas Sam Ratulangi Manado



Penerbit

CV. PATRA MEDIA GRAFINDO BANDUNG

2018

Penulis:

Altien J. Rindengan
Yohanes A.R. Langi.

Hak Cipta @ pada Penulis Dilindungi (All right reserved)

Hak cipta dilindungi undang-undang. Dilarang memperbanyak buku ini sebagian atau seluruhnya, dalam bentuk dan dengan cara apapun juga, baik secara mekanis maupun elektronis, termasuk fotocopy, rekaman dan lain-lain tanpa izin tertulis dari penulis.



Penerbit
CV. PATRA MEDIA GRAFINDO
BANDUNG

Jl. Jend. Sudirman No. 736 - Bandung
Telp/Fax. 022-6040938 HP. 081214466604
e-mail: Patramedia@gmail.com
website: www.patramedia.com

Anggota IKAPI

Cetakan pertama, November, 2018

Perpustakaan Nasional : Katalog dalam Terbitan

ISBN 978-602-6529-48-0



KATA PENGANTAR

Puji dan syukur ke hadirat Tuhan Yang Maha Esa karena berkat dan karuniaNya sehingga buku ajar ini dapat diselesaikan dengan baik.

Buku Ajar Program Linear ini merupakan buku acuan yang digunakan mahasiswa di Jurusan Matematika, Fakultas Matematika dan Ilmu Pengetahuan Alam (FMIPA) Universitas Sam Ratulangi Manado. Buku Ajar ini terdiri dari 7 bab, yaitu : Model Program Linear, Metode Grafik, Metode Simpleks, Dualitas, Analisis Sensitivitas, Model Transportasi dan Pemrograman Bilangan Bulat.

Pada kesempatan ini, tim penulis mengucapkan terima kasih kepada Rektor UNSRAT melalui Lembaga Pembinaan dan Pengembangan Pendidikan (LP3) UNSRAT yang telah mempercayakan kami sebagai salah satu tim penulis dalam Proyek Penulisan Buku Ajar Tahun 2018.

Tim penulis yakin bahwa buku ajar ini masih banyak kekurangan, sehingga sangat diharapkan kritik dan saran dari para pembaca yang menggunakan buku ini. Semoga buku ajar ini bermanfaat bagi kita semua. Terima kasih.

Tim Penulis

DAFTAR ISI

BAB 1. MODEL PROGRAM LINEAR	1
1.1. Pendahuluan	1
1.2. Formulasi Model Program Linear	3
1.3. Bentuk Dasar Model Program Linear	7
Rangkuman	9
Pustaka	10
Soal Latihan	10
BAB 2. METODE GRAFIK	12
2.1. <i>Feasibility</i> dan <i>Optimality</i>	12
2.2. Solusi Model Program Linear	12
2.3. Solusi Khusus Model Program Linear	18
2.3.1. Solusi Optimum Berganda	18
2.3.2. Solusi tak Fisibel	20
2.3.3. Solusi Optimum Tak Terbatas	21
2.4. Metode Grafik dengan <i>Software QM for Windows</i>	23
Rangkuman	27
Pustaka	28
Soal Latihan	28
BAB 3. METODE SIMPLEKS	31
3.1. Tabel Simpleks	31
3.2. <i>Pivoting</i> dan Iterasi Perhitungan	32
3.3. Algoritma Simpleks	33
3.4. <i>Big M Method</i>	39
3.5. Kasus Khusus Metode Simpleks	44
3.5.1. Solusi Optimum Berganda	44
3.5.2. Degenerasi	46
3.6. Metode Simpleks dengan <i>Software QM for Windows</i>	49
Rangkuman	51
Pustaka	52
Soal Latihan	52
BAB 4. DUALITAS	55
4.1. Hubungan Masalah Primal dan Dual	55
4.2. Hubungan Solusi Optimal Primal dan Dual	59

4.3. Dualitas dengan <i>Software QM for Windows</i>	63
Rangkuman	65
Pustaka	65
Soal Latihan	65
BAB 5. ANALISIS SENSITIVITAS	67
5.1. Perubahan Koefisien Variabel Non Basis pada Fungsi Tujuan	68
5.2. Perubahan Koefisien Variabel Basis pada Fungsi Tujuan	71
5.3. Perubahan Konstan Sisi Kanan Kendala	74
5.4. Analisis Sensitivitas dengan <i>Software QM for Windows</i>	80
Rangkuman	82
Pustaka	82
Soal Latihan	83
BAB 6. MODEL TRANSPORTASI	85
6.1. Formulasi Program Linear dari Model Transportasi	85
6.2. Solusi Awal Fisibel Model Transportasi	87
6.2.1. Metode <i>North West Corner</i>	87
6.2.2. Metode <i>Least-Cost</i>	93
6.3. Solusi Optimal Model Transportasi	96
6.3.1. Metode <i>Stepping Stone</i>	96
6.3.2. Metode <i>Modified Distribution (MODI)</i>	104
6.4. Model Penugasan	109
6.5. Model Transportasi dengan <i>Software QM for Windows</i>	112
Rangkuman	118
Pustaka	118
Soal Latihan	119
BAB 7. PEMROGRAMAN BILANGAN BULAT	122
7.1. Pendekatan Pembulatan	123
7.2. Metode Grafik	126
7.3. Metode Gomory (<i>Cutting Plane Algorithm</i>)	127
7.4. Metode <i>Branch and Bound</i>	131
7.5. Pemrograman Bilangan Bulat dengan <i>Software QM for Windows</i>	136
Rangkuman	139
Pustaka	139
Soal Latihan	140

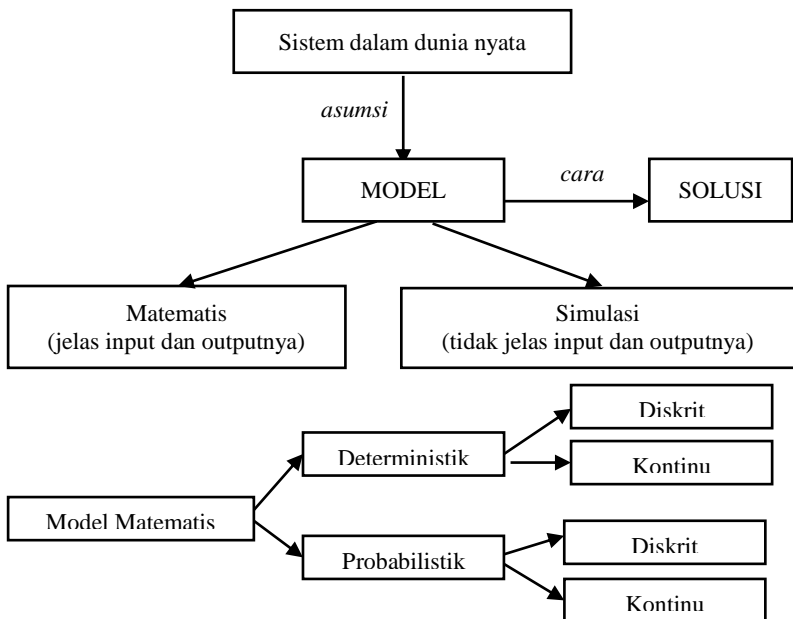
Model Program Linear



1.1. PENDAHULUAN

Program Linear adalah salah satu bagian penyelesaian dalam Riset Operasi untuk memecahkan masalah-masalah linear dan bagaimana kita mendapatkan keputusan-keputusan yang optimal. Keputusan-keputusan yang optimal itu dapat ditentukan melalui model-model perhitungan yang ada di dalamnya.

Model-model yang digunakan untuk perhitungan dapat dilakukan dengan pendekatan-pendekatan dengan menggunakan metode grafik dan metode simpleks.



Sistem dalam dunia nyata diinterpretasikan ke dalam sebuah formulasi model dengan membuat asumsi. Formulasi model lalu dikembangkan ke dalam bentuk matematis atau simulasi. Setelah itu cara mengembangkan formulasi model dapat menggunakan solusi.

Tahap-tahap pemodelan :

1. Definisi Masalah:

- * Deskripsi tentang sasaran atau tujuan sistem. Maksudnya, adalah menggambarkan apa yang menjadi tujuan dari sistem tersebut.
- * Identifikasi keputusan dari sistem.
- * Batasan dan syarat sistem. Maksudnya apa yang menjadi kendala dalam sistem tersebut.

2. Pengembangan Model.

Tergantung dari definisi masalah. Entah matematis atau simulasi. Matematis memiliki input dan output yang pasti sedangkan simulasi memiliki input dan output yang tidak pasti.

3. Pemecahan/Solusi Model.

Biasanya disebut Linear Programming (Program Linier), dengan pemecahan yaitu Optimalisasi dan Analisis Sensitivitas atau *Post Optimality*.

4. Validasi Model.

Membandingkan data dan hasil yang baru didapat dengan data dan hasil yang sebelumnya, apa yang menjadi perbedaan dan apa artinya. Kemudian validasi model yang baru itu berlaku umum.

5. Implementasikan.

Tahap-tahap pemodelan yang telah dilakukan dari awal sampai akhir, diimplementasikan kedalam kehidupan yang nyata dalam hal ini yang menyangkut bidang ekonomi. Tujuannya, untuk melihat berhasil atau tidaknya pemodelan yang dibuat secara teori ke dalam prakteknya.

1.2. FORMULASI MODEL PROGRAM LINEAR

Setelah mengidentifikasi masalah dan tujuan maka :

1. Tentukan variabel keputusannya yang dinyatakan dalam simbol matematik.
2. Menentukan fungsi tujuannya dalam bentuk linier dengan variable keputusan. Fungsi tujuan ini berupa masalah maksimisasi maupun minimisasi. Tergantung pada jenis tujuan yang ingin dicapai.
3. Tentukan batasan/ syarat/ kendala dalam bentuk linier dengan variabel keputusan.

Contoh 1.1 (Masalah Maksimisasi)

Suatu perusahaan makanan ingin menghasilkan roti dalam tiga bentuk yang berbeda-beda yaitu roti A, B, dan C. Bahan baku tepung terigu yang tersedia 300 kg dan waktu kerja buruh yang tersedia adalah 200 jam kerja. Jika untuk membuat 1 buah roti A diperlukan 3 jam buruh dan 0.4 kg tepung, untuk membuat 1 buah roti B diperlukan 5 jam buruh dan 0.8 kg tepung, serta 1 buah roti C diperlukan 4 jam buruh dan 0.6 kg tepung. Dan jika harga yang ditawarkan per buah roti A, B dan C adalah berturut-turut 2000, 5000, dan 3500, maka formulasikan masalah ini sebagai model menghitung pendapatan bagi perusahaan.

Penyelesaian :

1. Variabel Keputusan.

Masalah ini berisi tiga variable keputusan yang menunjukkan jumlah setiap bentuk roti.

x_1 = Jumlah roti A

x_2 = Jumlah roti B

x_3 = Jumlah roti C

2. Fungsi Tujuan.

Tujuan perusahaan makanan adalah memaksimumkan pendapatan dari produksi roti yang ditunjukkan sebagai :

$$\text{Max } Z = 2000x_1 + 5000x_2 + 3500x_3$$

3. Kendala/Batasan Model.

Bahan baku tepung terigu dan jam kerja buruh merupakan kendala.

Kendala bahan baku tepung terigu:

$$0,4x_1 + 0,8x_2 + 0,6x_3 \leq 300$$

Kendala jam kerja buruh:

$$3x_1 + 5x_2 + 4x_3 \leq 200$$

Kendala non negatif:

$$x_1, x_2, x_3 \geq 0$$

Untuk masalah-masalah besar seperti ini dapat dibuat tabel masalah:

Produk Sumberdaya	Roti A	Roti B	Roti C	Jumlah ketersediaan
Bahan baku (tepung terigu – kg)	0,4	0,8	0,6	300
Jumlah jam kerja buruh	3	5	4	200
Harga Produk (Rp)	2000	5000	3500	

Bentuk/Model program linear untuk masalah ini adalah:

$$\text{Max } Z = 2000x_1 + 5000x_2 + 3500x_3$$

Dengan Kendala, (*subject to* [s.t])

$$0,4x_1 + 0,8x_2 + 0,6x_3 \leq 300$$

$$3x_1 + 5x_2 + 4x_3 \leq 200$$

$$x_1, x_2, x_3 \geq 0$$

Contoh 1.2 (*Masalah Minimisasi*)

Jika seseorang ingin memenuhi kebutuhan minimum zat makanan perharinya dengan mengkonsumsi beberapa jenis makanan dengan data (tabel masalah) sebagai berikut:

Makanan Zat mkn	Sayur	Daging	Susu	Kebutuhan Minimum
Kalsium	5	1	0	8
Protein	2	2	1	10
Vitamin A	1	5	4	22
Harga	5	8	6	

Formulasikan masalah ini untuk menentukan kombinasi konsumsi makanan yang memenuhi kebutuhan minimum perhari dengan biaya terendah.

Penyelesaian

1. Variabel keputusan

x_1 = jumlah sayur yang dikonsumsi

x_2 = jumlah daging yang dikonsumsi

x_3 = jumlah susu yang dikonsumsi

2. Tujuan

Menentukan kombinasi konsumsi makanan yang memenuhi kebutuhan minimum per hari dengan biaya terendah.

Mis. fungsi biaya = Z

$$\text{Min } Z = 5x_1 + 8x_2 + 6x_3$$

3. Bentuk kendala

a. Kalsium $5x_1 + x_2 \geq 8$

b. Protein $2x_1 + 2x_2 + x_3 \geq 10$

c. Vitamin $x_1 + 5x_2 + 4x_3 \geq 22$

Nonnegatif : $x_1, x_2, x_3 \geq 0$

Secara lengkap masalah tersebut :

$$\text{Min } Z = 5x_1 + 8x_2 + 6x_3$$

$$\text{s.t. } 5x_1 + x_2 \geq 8$$

$$2x_1 + 2x_2 + x_3 \geq 10$$

$$x_1 + 5x_2 + 4x_3 \geq 22$$

$$x_1, x_2, x_3 \geq 0.$$

Contoh 1.3

Sebuah perusahaan kerajinan tangan memproduksi mangkok dan cangkir, dengan sumberdaya yang digunakan adalah tanah liat dan tenaga kerja. Jika untuk membentuk 1 unit mangkok diperlukan 1 jam tenaga kerja dan 400 gr tanah liat sedangkan 1 unit cangkir diperlukan 2 jam tenaga kerja dan 300 gr tanah liat dengan ketersediaan sumberdaya

adalah 40 jam tenaga kerja dan 12 kg tanah liat, dan harga per unit mangkok adalah Rp.4000,- dan harga perunit cangkir Rp.5000,-. Formulasikan masalah ini untuk menentukan kombinasi produk optimal yang akan diproduksi untuk memperoleh pendapatan yang maksimal.

Penyelesaian

Tabel masalah:

produk sumber daya	mangkok	cangkir	Ketersediaan sumber daya
tanah liat (gr)	400	300	12000
tenaga kerja (jam)	1	2	40
harga produk/unit	4000	5000	

Misalkan x_1 = jumlah mangkok yang diproduksi
 x_2 = jumlah cangkir yang diproduksi

Formulasi modelnya :

$$\begin{aligned} \text{Max } Z &= 4000x_1 + 5000x_2 \\ \text{s.t. } &400x_1 + 300x_2 \leq 12000 \\ &x_1 + 2x_2 \leq 40 \\ &x_1, x_2 \geq 0 \end{aligned}$$

Contoh 1.4

Seorang petani akan memupuk lahan pertaniannya dengan 2 jenis pupuk A dan B dengan memperhatikan kebutuhan minimum zat nitrogen sebesar 1.6 kg dan zat fosfat sebesar 2.4 kg. Jika setiap sak pupuk A mempunyai kandungan 0.2 kg nitrogen dan 0.4 kg fosfat dan setiap sak pupuk B mempunyai kandungan 0.4 kg nitrogen dan 0.3 kg fosfat sedangkan harga per sak pupuk A adalah Rp.60000,- dan pupuk B adalah Rp.30000,-, tentukan berapa sak pupuk A dan B yang harus dibeli agar kebutuhan minimum nitrogen dan fosfat pada lahannya terpenuhi tapi dengan biaya terkecil.

Penyelesaian

Tabel masalah:

pupuk	A	B	kebutuhan
-------	---	---	-----------

zat			minimum zat
nitrogen (kg)	0.2	0.4	1.6
fosfat (kg)	0.4	0.3	2.4
harga produk/unit	60000	30000	

Misalkan x_1 = jumlah pupuk A yang akan dibeli

x_2 = jumlah pupuk B yang akan dibeli

Formulasi modelnya :

$$\text{Min } Z = 60000x_1 + 30000x_2$$

$$\text{s.t.} \quad 0.2x_1 + 0.4x_2 \geq 1.6$$

$$0.4x_1 + 0.3x_2 \geq 2.4$$

$$x_1, x_2 \geq 0.$$

1.3 BENTUK DASAR MODEL PROGRAM LINEAR

1. Maksimisasi

$$\text{Max } Z = c_1x_1 + c_2x_2 + \dots + c_nx_n$$

$$\text{s.t} \quad a_{11}x_1 + a_{12}x_2 + \dots + a_{1n}x_n \leq b_1$$

$$a_{21}x_1 + a_{22}x_2 + \dots + a_{2n}x_n \leq b_2$$

$$\vdots \qquad \qquad \qquad \vdots \qquad \vdots$$

$$a_{m1}x_1 + a_{m2}x_2 + \dots + a_{mn}x_n \leq b_m$$

$$x_1, x_2, \dots, x_n \geq 0$$

Bentuk matriksnya

$$\text{Max} \quad Z = [c_1 \quad c_2 \quad \dots \quad c_n] \begin{bmatrix} x_1 \\ x_2 \\ \vdots \\ x_n \end{bmatrix}$$

$$\text{s.t} \quad \begin{bmatrix} a_{11} & a_{12} & \cdots & a_{1n} \\ a_{21} & a_{22} & \cdots & a_{2n} \\ \vdots & & & \vdots \\ a_{m1} & a_{m2} & \cdots & a_{mn} \end{bmatrix} \begin{bmatrix} x_1 \\ x_2 \\ \vdots \\ x_n \end{bmatrix} \leq \begin{bmatrix} b_1 \\ b_2 \\ \vdots \\ b_m \end{bmatrix}$$

$$x_1, x_2, \dots, x_n \geq 0$$

atau

$$\text{Max } Z = C \cdot X^T$$

$$\text{s.t} \quad A \cdot X^T \leq B$$

$$X_i \geq 0 \quad , i = 1, 2, \dots, n$$

2. Minimisasi

$$\text{Max } Z = c_1x_1 + c_2x_2 + \dots + c_nx_n$$

$$\text{s.t} \quad a_{11}x_1 + a_{12}x_2 + \dots + a_{1n}x_n \geq b_1$$

$$a_{21}x_1 + a_{22}x_2 + \dots + a_{2n}x_n \geq b_2$$

$$\vdots \qquad \qquad \qquad \vdots \qquad \qquad \vdots$$

$$a_{m1}x_1 + a_{m2}x_2 + \dots + a_{mn}x_n \geq b_m$$

$$x_1, x_2, \dots, x_n \geq 0$$

Bentuk matriks

$$\text{Max} \quad Z = [c_1 \quad c_2 \quad \cdots \quad c_n] \begin{bmatrix} x_1 \\ x_2 \\ \vdots \\ x_n \end{bmatrix}$$

$$\text{s.t} \quad \begin{bmatrix} a_{11} & a_{12} & \cdots & a_{1n} \\ a_{21} & a_{22} & \cdots & a_{2n} \\ \vdots & & & \vdots \\ a_{m1} & a_{m2} & \cdots & a_{mn} \end{bmatrix} \begin{bmatrix} x_1 \\ x_2 \\ \vdots \\ x_n \end{bmatrix} \geq \begin{bmatrix} b_1 \\ b_2 \\ \vdots \\ b_m \end{bmatrix}$$

$$x_1, x_2, \dots, x_n \geq 0$$

atau

$$\text{Max } Z = C \cdot X^T$$

$$\text{s.t } A \cdot X^T \geq B$$

$$X_i \geq 0 \quad , i = 1, 2, \dots, n$$

Jika diperhatikan, kendala maksimisasi adalah pertidaksamaan berbentuk lebih kecil sama dengan, sedangkan kendala minimisasi adalah pertidaksamaan berbentuk lebih besar sama dengan. Ini hanya merupakan model dasarnya, pada kenyataannya kendalanya sembarang.

RANGKUMAN

Model program linear berasal dari sistem dalam dunia nyata yang dimodelkan dengan asumsi-asumsi yang dibuat. Secara umum, model dapat berbentuk model matematis atau simulasi. Untuk model matematis dapat berbentuk deterministik atau probabilistik. Model program linear adalah model matematis yang deterministik.

Tahap-tahap pemodelan program linear mengikuti tahap pemodelan secara umum yaitu, mendefinisikan masalah, mengembangkan/membentuk model yang matematis deterministik, solusi model yaitu optimalisasi dan *post optimality*, validasi model, dan implementasi model.

Formulasi model program linear mengikuti langkah-langkah sebagai berikut:

1. Tentukan variabel keputusannya yang dinyatakan dalam simbol matematik.
2. Menentukan fungsi tujuannya dalam bentuk linier dengan variable keputusan. Fungsi tujuan ini berupa masalah maksimisasi maupun minimisasi. Tergantung pada jenis tujuan yang ingin dicapai.
3. Tentukan batasan/ syarat/ kendala dalam bentuk linier dengan variabel keputusan.

Model maksimisasi dan minimisasi mempunyai bentuk dasar: kendala maksimisasi adalah pertidaksamaan berbentuk lebih kecil sama dengan, sedangkan kendala minimisasi adalah pertidaksamaan berbentuk lebih besar sama dengan.

PUSTAKA

1. Luenberger, D.G. and Y. Ye. 2016. *Linear and Nonlinear Programming*, 4^{ed}. Springer Int. Pub. Switzerland.
2. Taha, H.A. 2007. *Operations Research: An Introduction*, 8^{ed}. Prentice Hall, New Jersey.
3. Winston, W.L. 2008. *Operations Research. Applications and Algorithms*, 4^{ed}. Brooks/Cole, New York.

SOAL LATIHAN

1. Sebuah perusahaan memproduksi 2 produk melalui dua proses perakitan. Proses perakitan 1 memiliki kapasitas 100 jam dan perakitan 2 memiliki kapasitas 42 jam. Pada proses perakitan 1, tiap produk memerlukan 10 jam, sedangkan pada proses perakitan 2, produk 1 membutuhkan 7 jam dan produk 2 membutuhkan 3 jam. Laba per unit untuk produk 1 adalah \$6 dan produk 2 adalah \$4. Formulasikan model linier untuk masalah ini.
2. Sebuah perusahaan makanan membuat sereal dengan memperhatikan 2 bahan makanan yaitu gandum dan beras yang merupakan sumber vit. A dan B. Perusahaan ini ingin mengetahui berapa ons gandum dan beras yang harus dicakup dalam sereal ini untuk dapat memberikan kandungan 48 mg vit.A dan 12 mg vit.B sekaligus meminimalkan biaya. Satu ons gandum mengandung 8 mg vit.A dan 1 mg vit B, sedangkan satu ons beras mengandung 6 mg vit.A dan 2 mg vit.B. Jika harga satu ons gandum \$0.05 dan satu ons beras \$0.03, formulasikan model linear untuk masalah ini.

3. Suatu perusahaan penghasil pupuk menggunakan 2 bahan kimia (I dan II). Pupuk ini akan mengandung nitrogen, fosfat dan potasium. Satu ons bahan kimia I mengandung 10 ons nitrogen dan 6 ons fosfat, sedangkan bahan kimia II mengandung 2 ons nitrogen, 6 ons fosfat, dan 1 ons potasium. Harga bahan kimia I adalah \$3 per pound, dan bahan kimia II adalah \$5 per pound. Perusahaan ingin menentukan berapa pound bahan kimia I dan II yang dimasukkan ke dalam satu karung pupuk yang harus mengandung 20 ons nitrogen, 36 ons fosfat, dan 2ons potasium sekaligus meminialkan biaya. Formulasikan model linear untuk masalah ini.
4. Suatu perusahaan furnitur memproduksi kursi dan meja dari 2 sumber daya (tenaga kerja dan kayu). Tiap hari tersedia 80 jam tenaga kerja dan 36 pon kayu untuk digunakan. Permintaan kursi tiap hari hanya 6 unit. Untuk memproduksi 1 unit kursi dibutuhkan 8 jam kerja dan 2 pon kayu, sedangkan 1 unit meja dibutuhkan 10 jam kerja dan 6 pon kayu. Laba per unit kursi \$400 dan meja \$100. perusahaan ingin menentukan jumlah kursi dan meja yang harus diproduksi untuk memaksimalkan laba. Formulasikan model linear untuk masalah ini.
5. Seorang manager investasi mempertimbangkan investasinya dalam portofolio yang mencakup saham dan obligasi. Ia memiliki uang sebesar \$ 720.000,-. Ia tidak ingin saham dalam portofolionya mencakup lebih dari 65 %. Tingkat pengembalian tahunan dari saham adalah 18% dan dari obligasi adalah 6%. Ia memperkirakan bahwa kerugian tertinggi dari saham adalah 22% dan obligasi adalah 5%. Untuk mengurangi resiko, ia membatasi kemungkinan potensi ruginya sebesar \$ 100.000,-.Formulasikan masalah ini sebagai model program linear untuk mencari kombinasi portofolio optimal yang memberikan keuntungan maksimum.

2.1. FEASIBILITY DAN OPTIMALITY

Jika semua bentuk kendala dituliskan dalam

$$g_i(x) \leq 0, \quad i = 1, 2, \dots, m$$

maka,

- Titik solusi fisibel adalah titik yang memenuhi $g_i(x) \leq 0, \forall i$.
- Daerah solusi fisibel (S) adalah himpunan / kumpulan titik solusi fisibel yang merupakan daerah yang dibatasi oleh pertidaksamaan kendala.
- Calon titik solusi optimal adalah titik-titik perpotongan persamaan kendalanya dalam S .

Jika fungsi tujuan / fungsi objektif model program linear

$$f(x) = c_1x_1 + c_2x_2 + \dots + c_nx_n$$

maka $f(x^*)$ disebut titik solusi optimal, jika

$$f(x^*) \leq f(x), \quad \forall x \in S \Rightarrow \text{minimisasi}$$

$$f(x^*) \geq f(x), \quad \forall x \in S \Rightarrow \text{maksimisasi.}$$

2.2. SOLUSI MODEL PROGRAM LINEAR

Langkah-langkah menentukan solusi model program linear dengan metode grafik :

1. Gambarkan semua bentuk kendala dalam koordinat Cartesius.

2. Tentukan daerah perpotongannya, yang merupakan daerah solusi fisibel model dan titik-titik perpotongan kendala yang berada pada daerah solusi fisibel, sebagai calon titik solusi optimal.
3. Gunakan *garis selidik* yang merupakan persamaan fungsi tujuannya dengan mengambil sembarang nilai Z , untuk menentukan titik solusi optimalnya dengan mengeser garis selidik tersebut sampai diperoleh titik yang paling maksimal/minimal.

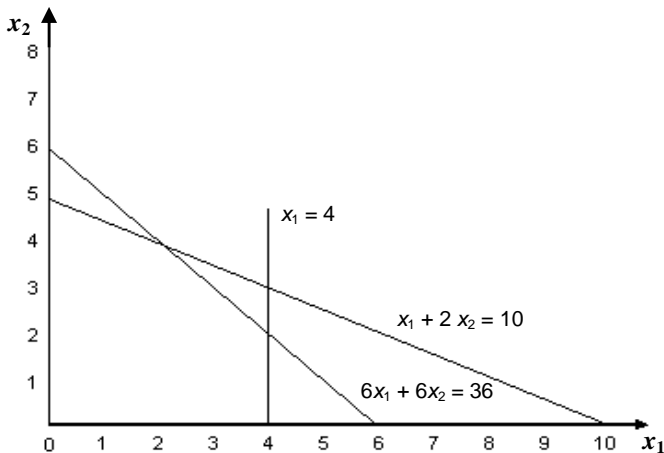
Contoh 2.1

Tentukan solusi optimal masalah program linear berikut :

$$\begin{aligned} \text{Max } Z &= 4x_1 + 5x_2 \\ \text{s.t } &x_1 + 2x_2 \leq 10 \\ &6x_1 + 6x_2 \leq 36 \\ &x_1 \leq 4 \\ &x_1, x_2 \geq 0 \end{aligned}$$

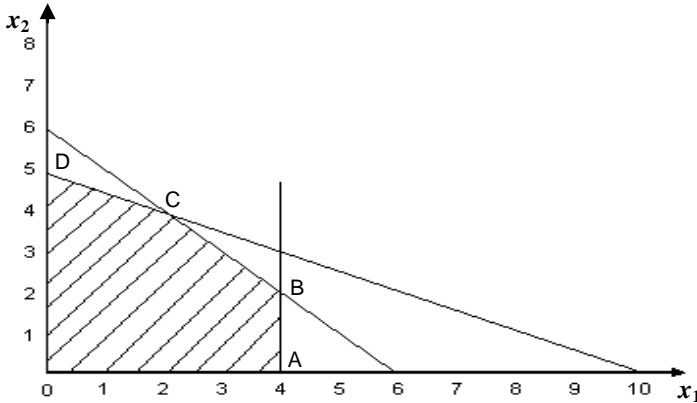
Penyelesaian

Langkah 1: Gambarkan garis batasan persamaan kendala.



Langkah 2: Menentukan daerah solusi fisibel dan titik-titik calon solusi optimal.

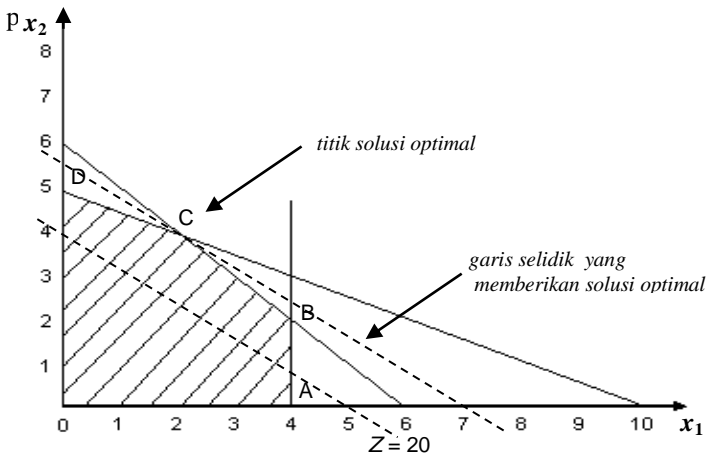
Daerah solusi fisibel ditentukan dari penentuan daerah yang memenuhi ketiga kondisi pertidaksamaan kendala.



Titik A, B, C, D sebagai perpotongan tiap pasangan persamaan kendala adalah calon-calon titik solusi optimal.

Langkah 3: Menentukan solusi optimal dengan menggunakan garis selidik.

Jika dipilih nilai $Z = 20$, maka perpotongan persamaan garis selidiknya yaitu $4x_1 + 5x_2 = 20$ pada sumbu x_1 di titik (5,0) dan sumbu x_2 di titik (0,4). Garis selidik ini digeser sampai pada titik terakhir (paling maksimal) yang masih berpotongan dengan daerah solusi fisibel yaitu



Titik solusi optimal adalah titik C yang merupakan perpotongan garis $x_1 + 2x_2 = 10$ dan $6x_1 + 6x_2 = 36$, sehingga bisa dicari nilai x_1 dan x_2 -nya dengan eliminasi.

$$\begin{array}{r} x_1 + 2x_2 = 10 \quad | \quad (\times 3) \\ 6x_1 + 6x_2 = 36 \quad | \quad (\times 1) \end{array} \Rightarrow \begin{array}{r} 3x_1 + 6x_2 = 30 \\ \underline{6x_1 + 6x_2 = 36} \\ -3x_1 \quad = -6 \\ x_1 = 2. \end{array}$$

Nilai x_2 dicari dengan mensubstitusi nilai x_1 ke salah satu persamaan,

$$\begin{aligned} x_1 + 2x_2 &= 10 \\ 2 + 2x_2 &= 10 \text{ atau } x_2 = 4. \end{aligned}$$

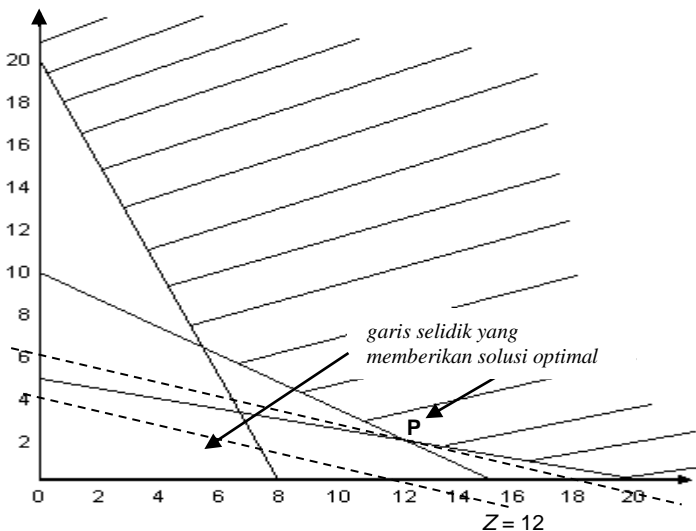
Dan nilai Z maksimum adalah : $Z = 4x_1 + 5x_2 = 4(2) + 5(4) = 8 + 20 = 28$.

Contoh 2.2

Tentukan solusi optimal masalah program linear berikut :

$$\begin{aligned} \text{Min } Z &= x_1 + 3x_2 \\ \text{s.t } 2x_1 + 3x_2 &\geq 30 \\ x_1 + 4x_2 &\geq 20 \\ 5x_1 + 2x_2 &\geq 40 \\ x_1, x_2 &\geq 0. \end{aligned}$$

Penyelesaian



Misalkan $Z = 12$, maka garis selidikanya adalah $x_1 + 3x_2 = 12$ dengan titik potong pada sumbu x_1 adalah $(12,0)$ dan sumbu x_2 adalah $(0,4)$.

Titik solusi optimal adalah titik P yang merupakan perpotongan garis $2x_1+3x_2=30$ dan $x_1 + 4x_2 \geq 20$, sehingga bisa dicari nilai x_1 dan x_2 -nya dengan eliminasi.

$$\begin{array}{r} 2x_1 + 3x_2 = 30 \quad | \quad (\times 1) \\ x_1 + 4x_2 = 20 \quad | \quad (\times 2) \end{array} \quad \Rightarrow \quad \begin{array}{r} 2x_1 + 3x_2 = 30 \\ \underline{2x_1 + 8x_2 = 40} \quad - \\ -5x_2 = -10 \\ x_2 = 2. \end{array}$$

Nilai x_2 dicari dengan mensubstitusi nilai x_1 ke salah satu persamaan,

$$\begin{aligned} x_1 + 4x_2 &= 20 \\ x_1 + 4(2) &= 20 \\ x_1 &= 20 - 8 \\ x_1 &= 12. \end{aligned}$$

Dan nilai Z minimum adalah :

$$\begin{aligned} Z &= x_1 + 3x_2 \\ &= 12 + 3(2) \\ &= 12 + 6 \\ &= 18. \end{aligned}$$

Contoh 2.3

PT Auto Sound Stream memproduksi dua jenis subwofer, yaitu picasso dan tarantula. Untuk dapat meraih konsumen berpenghasilan tinggi. Perusahaan ini memutuskan untuk melakukan promosi dalam dua macam acara TV, yaitu pada acara hiburan dan acara olah raga. Promosi pada acara hiburan akan disaksikan oleh 8 juta pemirsa wanita dan 4 juta pemirsa pria. Promosi pada acara olah raga akan disaksikan oleh 4 juta pemirsa wanita dan 12 juta pemirsa pria. Biaya promosi pada acara hiburan adalah 4 juta rupiah/menit, sedangkan pada acara olah raga biayanya adalah 8 juta/menit. Jika perusahaan menginginkan promosinya disaksikan sedikitnya oleh 32 juta pemirsa wanita dan sedikitnya oleh 24 juta pemirsa pria, bagaimanakah strategi promosi itu sebaiknya?

Penyelesaian

Tabel masalahnya adalah :

	Acara hiburan	Acara olahraga	Disaksikan
Wanita	8	4	32
Pria	4	12	24
Biaya	4	8	

Variable Keputusan:

 x_1 = lamanya promosi dalam acara hiburan. x_2 = lamanya promosi dalam acara olah raga.

Formulasikan persoalan:

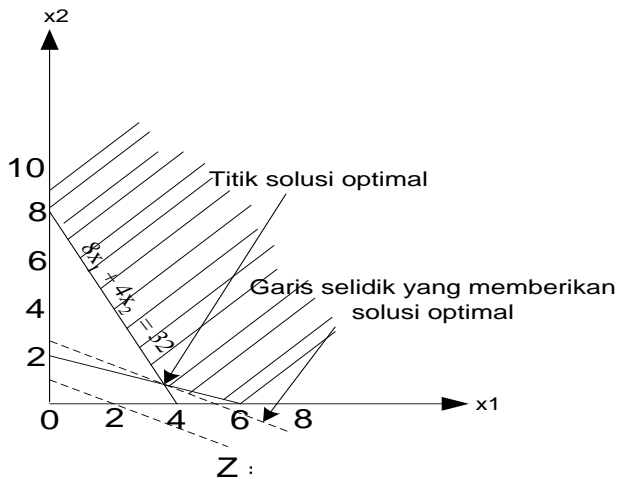
$$\text{Min } Z = 4x_1 + 8x_2$$

$$\text{s.t } 8x_1 + 4x_2 \geq 32$$

$$4x_1 + 12x_2 \geq 24$$

$$x_1, x_2 \geq 0$$

Grafiknya adalah



Misalkan $Z = 8$, maka garis selidikunya adalah $4x_1 + 8x_2 = 8$ dengan titik potong pada sumbu x_1 adalah $(2,0)$ dan sumbu x_2 adalah $(0,1)$.

Titik solusi optimal adalah titik P yang merupakan perpotongan garis $8x_1 + 4x_2 = 32$ dan $4x_1 + 12x_2 = 24$, sehingga bisa dicari nilai x_1 dan x_2 dengan eliminasi.

$$\begin{array}{r|l} 8x_1 + 4x_2 = 32 & (x\ 3) \\ 4x_1 + 12x_2 = 24 & (x\ 1) \end{array} \quad \Rightarrow \quad \begin{array}{r} 24x_1 + 12x_2 = 96 \\ \underline{4x_1 + 12x_2 = 24} \quad - \\ \hline 20x_1 = 72 \\ x_1 = 3,6. \end{array}$$

Nilai x_2 dicari dengan mensubstitusi nilai x_1 ke salah satu persamaan,

$$\begin{aligned} 8x_1 + 4x_2 &= 32 \\ 8(3,6) + 4x_2 &= 32 \\ 28,8 + 4x_2 &= 32 \\ x_2 &= 0,8. \end{aligned}$$

dan nilai Z minimum adalah: $Z = 4x_1 + 8x_2$

$$\begin{aligned} &= 4(3,6) + 8(0,8) \\ &= 14,4 + 6,4 \\ &= 20,8. \end{aligned}$$

2.3. SOLUSI KHUSUS MODEL PROGRAM LINEAR

2.3.1. Solusi Optimum Berganda

Terjadi karena kemiringan persamaan tujuan sama dengan kemiringan salah satu persamaan kendala.

Misalnya ada 2 persamaan : $ax + by = c$ dan $dx + ey = f$ mempunyai kemiripan yang sama jika $a/d = b/e$ atau $a/b = d/e$.

Solusinya berupa kumpulan titik-titik yang berbentuk ruas garis solusi.

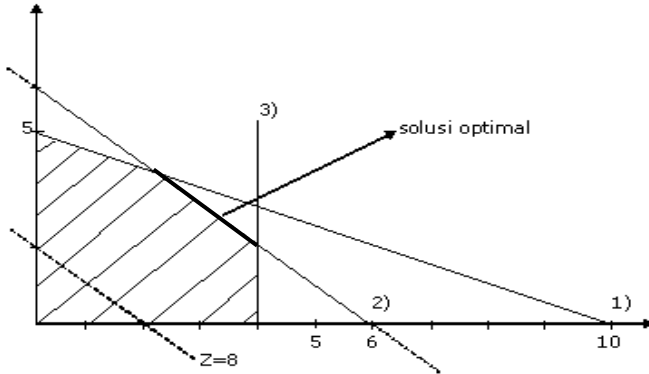
Contoh 2.4

Tentukan solusi model LP berikut:

$$\begin{array}{ll} \text{Max } Z = 4x + 4y & \\ \text{s.t} & x + 2y \leq 10 \quad \text{persamaan (1)} \\ & 6x + 6y \leq 36 \quad \text{persamaan (2)} \end{array}$$

$$\begin{aligned} x &\leq 4 && \text{persamaan (3)} \\ x, y &\geq 0 \end{aligned}$$

Penyelesaian



Memberikan solusi optimum berganda yang ditunjukkan dalam bentuk ruas garis solusi optimal, tidak hanya titik solusi optimal.

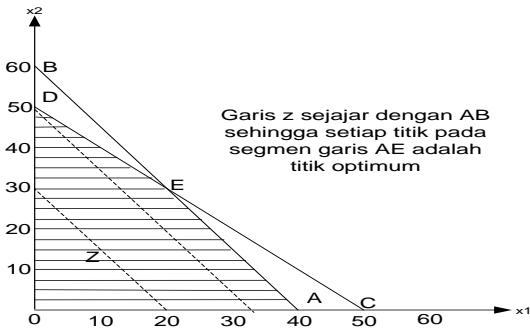
Contoh 2.5

Tentukan solusi model LP berikut

$$\begin{aligned} \text{Max } Z &= 3x_1 + 2x_2 \\ \text{s.t } 40x_1 + 60x_2 &\leq 1 \\ 50x_1 + 50x_2 &\leq 1 \\ x_1, x_2 &\geq 0 \end{aligned}$$

Penyelesaian

Grafiknya adalah



Memberikan solusi optimum berganda.

2.3.2 Solusi Tak Fisibel (Tak Layak)

Terjadi karena tidak ada daerah solusi fisibel. Artinya tidak ada daerah yang merupakan perpotongan setiap pertidaksamaan/persamaan kendala.

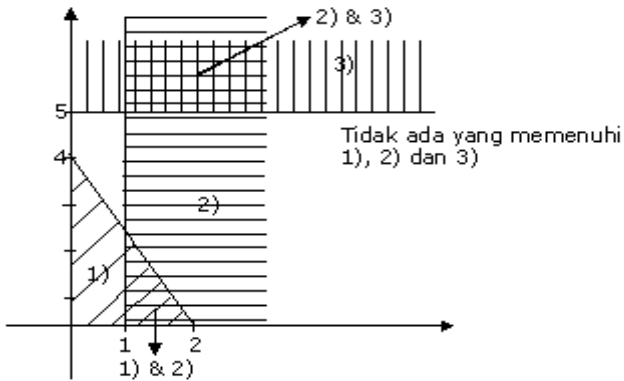
Contoh 2.6

Tentukan solusi optimal model LP berikut:

$$\begin{aligned} \text{Max } Z &= 5x + 3y \\ \text{s.t } 4x + 2y &\leq 8 \\ x &\geq 1 \\ y &\geq 5 \\ x, y &\geq 0 \end{aligned}$$

Penyelesaian

Grafiknya adalah :

Contoh 2.7

Tentukan solusi model LP berikut

$$\text{Max } Z = 5x_1 + 4x_2$$

$$\text{s.t } 30x_1 + 50x_2 \leq 1$$

$$40x_1 + 40x_2 \leq 1$$

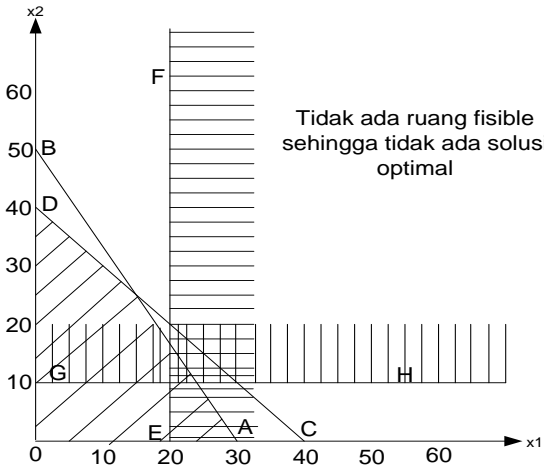
$$x_1 \geq 20$$

$$x_2 \geq 10$$

$$x_1, x_2 \geq 0$$

Penyelesaian

Grafiknya adalah



Memberikan solusi tak fisibel.

2.3.3. Solusi Optimum Tak Terbatas

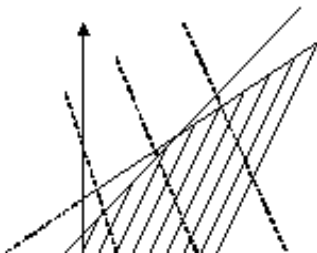
Artinya, daerah fisibel yang tak terbatas menyebabkan nilai Z meningkat tak terbatas juga, akibatnya tidak pernah mencapai nilai yang paling optimum.

Contoh 2.8

Tentukan solusi optimal model LP berikut:

$$\begin{aligned} \text{Max } Z &= 4x_1 + 2x_2 \\ \text{s.t } & -x_1 + 2x_2 \leq 6 \\ & -x_1 + x_2 \leq 2 \\ & x_1, x_2 \geq 0 \end{aligned}$$

Penyelesaian



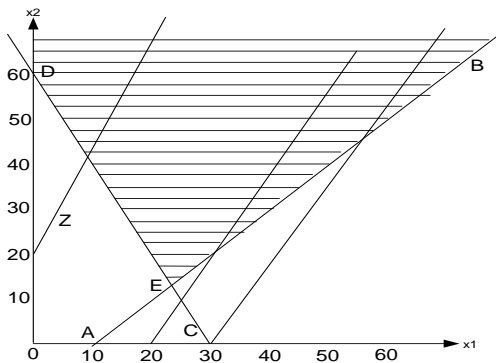
catatan : Tidak selalu daerah solusi fisibel tak terbatas maka Z tak terbatas.

Contoh 2.9

Tentukan solusi model LP berikut

$$\begin{aligned} \text{Max } Z &= 2x_1 - x_2 \\ \text{s.t. } \quad &x_1 - x_2 \leq 1 \\ &2x_1 + x_2 \geq 6 \\ &x_1, x_2 \geq 0 \end{aligned}$$

Penyelesaian



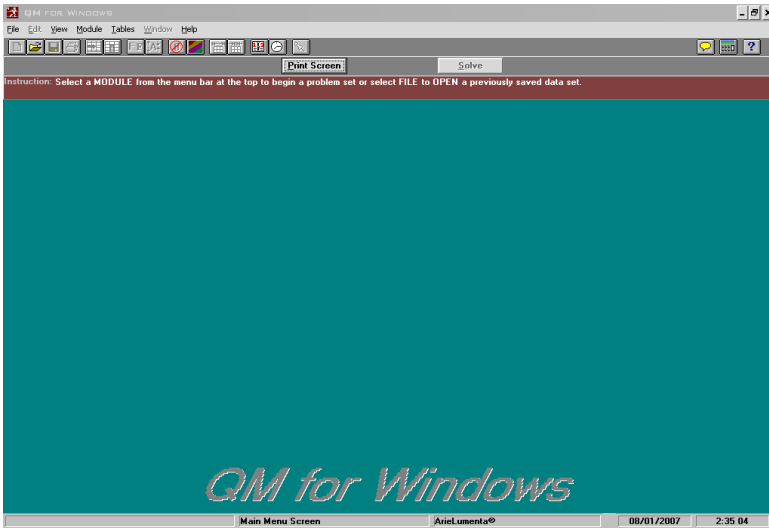
Memberikan solusi tak terbatas

2.4. METODE GRAFIK DENGAN SOFTWARE *QM for Windows*

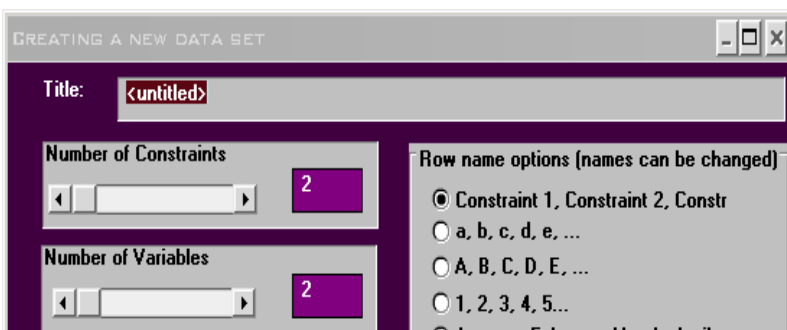
Program *QM (Quantitative Method) for Windows* adalah salah satu *software* yang digunakan dalam menyelesaikan model program linear. Tidak hanya untuk metode grafik, tapi secara umum dengan metode simpleks yang akan dibahas setelah bab ini. Untuk metode grafik (grafik yang dapat disajikan) dengan *QM* hanya untuk masalah dengan dua variabel keputusan (grafik 2 dimensi).

Berikut ini akan disajikan penuntun penggunaan *QM*.

Untuk membuka program *QM* ada dua cara yaitu dengan melakukan *double click* pada *icon QM* yang ada di *desktop* atau dapat dimulai melalui “*Start*→*Program*→*QM for Windows*”. Setelah itu akan muncul *form login* seperti berikut ini:



Kemudian kita memilih jenis modul yang akan kita gunakan. Setelah itu klik “*file*” kemudian “*new*” setelah itu akan muncul *form creating a new data set* :



Di *form* ini kita harus mengisi judul pada kolom "***Title***", jumlah kendala pada "***Number of constraints***", jumlah variabel keputusan pada "***Number of variables***", dan fungsi objektifnya pada "***Objective***", yang dipilih sesuai dengan masalah yaitu **maksimisasi** atau **minimisasi**". Nama kendala bisa kita pilih pada "***Row name options***". Kemudian klik tombol "***Ok***".

Setelah itu kita mengisi table yang ada dengan permasalahan yang akan kita selesaikan. Kemudian klik tombol "***Solve***".

Selanjutnya kita dapat mengklik menu "***Windows***" pada menu ini kita dapat melihat *ranging*, *solution list*, *iteration*, *graph*. Hasil dengan metode grafik dapat kita lihat pada pilihan *graph*.

Contoh 2.10

Sebuah perusahaan elektronik memproduksi tape recorder dan amplifier yang prosesnya dilakukan di dua stasiun kerja, yaitu perakitan dan pengetesan. Setiap unit tape recorder memerlukan 1 jam perakitan dan 4 jam pengetesan, sedangkan setiap unit amplifier memerlukan 2 jam perakitan dan 2 jam pengetesan. Waktu yang tersedia di departement perakitan adalah 50 jam/minggu sedangkan di departement pengetesan adalah 100 jam/minggu. Kontribusi profit dari tape recorder adalah 50/unit, dan dari setiap unit amplifier adalah 60/unit. Bagaimanakah

formulasi persoalan diatas agar dapat ditentukan strategi produksi terbaik yang memberikan kontribusi profit maksimum?


Penyelesaian :

Jika x_1 = jumlah tape recorder diproduksi
 x_2 = jumlah amplifier diproduksi

maka model LP-nya adalah

$$\begin{aligned} \text{Max } Z &= 50x_1 + 60x_2 \\ \text{s.t } &x_1 + 2x_2 \leq 50 \\ &4x_1 + 2x_2 \leq 100 \\ &x_1, x_2 \geq 0 \end{aligned}$$

Dengan langkah penyelesaian :



Titik solusi optimal adalah titik B yang merupakan perpotongan garis $x_1 + 2x_2 = 50$ dan $4x_1 + 2x_2 = 100$, sehingga bisa dicari nilai x_1 dan x_2 dengan eliminasi.

$$\begin{array}{r} x_1 + 2x_2 = 50 \\ 4x_1 + 2x_2 = 100 \quad - \\ \hline \end{array}$$

$$-3x_1 = -50$$

$$x_1 = 16,67.$$

Nilai x_2 dicari dengan mensubstitusi nilai x_1 ke salah satu persamaan,

$$x_1 + 2x_2 = 50$$

$$16,67 + 2x_2 = 50$$

$$2x_2 = 33,33$$

$$x_2 = 16,67.$$

Dan nilai Z maksimum adalah: $Z = 50x_1 + 60x_2$

$$= 50(16,67) + 60(16,67)$$

$$= 833,5 + 1000,2$$

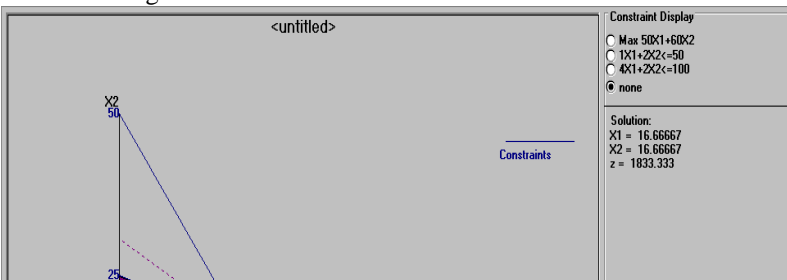
$$= 1833,7.$$

Dengan *QM*

Setelah kita masuk pada *creating a new data set* di program *QM* dengan memilih “*Number of constraints*” = 2, “*Number of variables*” = 2, dan fungsi objektifnya pada “*Objective*” = *maximize*, kemudian *OK*. Selanjutnya memasukkan data ke tabel masalah dan klik *Solve*, akan muncul solusi seperti gambar dibawah ini.

Objective						
<input checked="" type="radio"/> Maximize <input type="radio"/> Minimize						
LINEAR PROGRAMMING RESULTS						
<untitled> Solution						
		X1	X2		RHS	Dual
Maximize		50,	60,			
Constraint 1		1,	2,	<=	50,	23,3333
Constraint 2		4,	2,	<=	100,	6,6667
Solution->		16,6667	16,6667		\$1.833,33	

Kemudian untuk melihat bentuk grafiknya klik *Windows* dan *Graph*, akan muncul gambar berikut



Memberikan solusi sebesar $x_1 = 16.6667$, $x_2 = 16.6667$, dan $Z = 1833.3333$

RANGKUMAN

Metode grafik adalah salah satu metode mencari solusi optimal model linear. Metode ini hanya bisa digunakan untuk model dengan 2 variabel keputusan untuk memberikan grafik 2 dimensi. Langkah-langkah menentukan solusi model program linear dengan metode grafik :

1. Gambarkan semua bentuk kendala dalam koordinat Cartesius.
2. Tentukan daerah perpotongannya, yang merupakan daerah solusi fisibel model dan titik-titik perpotongan kendala yang berada pada daerah solusi fisibel, sebagai calon titik solusi optimal.
3. Gunakan *garis selidik* yang merupakan persamaan fungsi tujuannya dengan mengambil sembarang nilai Z , untuk menentukan titik solusi optimalnya dengan mengeser garis selidik tersebut sampai diperoleh titik yang paling maksimal/minimal.

Kasus khusus model linear, dengan metode grafik dapat ditunjukkan dengan :

1. salah satu bentuk kendala mempunyai kemiringan garis yang sama dengan fungsi tujuan untuk solusi optimal berganda.
 2. tidak terdapat daerah solusi fisibel untuk solusi tak layak.
 3. daerah solusi fisibel tak terbatas untuk solusi optimal tak terbatas.
- Solusi optimal dengan metode grafik dapat diperoleh dengan bantuan *software QM for Win*.

PUSTAKA

1. Luenberger, D.G. and Y. Ye. 2016. *Linear and Nonlinear Programming, 4^{ed}*. Springer Int. Pub. Switzerland.
2. Taha, H.A. 2007. *Operations Research: An Introduction, 8^{ed}*. Prentice Hall, New Jersey.
3. Taylor, B.W. 2013. *Introduction to Management Science, 11^{ed}*. Prentice Hall, New Jersey.
4. Winston, W.L. 2008. *Operations Research. Applications and Algorithms, 4^{ed}*. Brooks/Cole, New York.

SOAL LATIHAN

1. Sebuah perusahaan mebel menghasilkan produk meja dan lemari dengan bahan/biaya produksi yang diperhatikan adalah papan, cat dan buruh (tenaga kerja). Ketersediaan sumberdaya tersebut masing masing adalah : 24 m² papan, 12 kg cat dan 15 hari kerja buruh. Untuk membuat 1 unit meja diperlukan 3 m² papan, 2 kg cat dan 1 hari kerja buruh dan untuk membuat 1 unit lemari diperlukan 4 m² papan, 1 kg cat dan 3 hari kerja buruh. Jika harga per unit meja adalah Rp. 400.000 dan lemari Rp. 800.000, formulasikan masalah ini dalam model *Linear Programming* (LP) untuk menentukan kombinasi optimal produk yang harus dihasilkan yang memberikan pendapatan maksimal bagi perusahaan, dan tentukan solusi optimalnya dengan metode grafik.
2. Sebuah perusahaan mebel menghasilkan produk meja dan kursi dengan bahan/biaya produksi yang diperhatikan adalah papan, cat

dan buruh (tenaga kerja). Ketersediaan sumberdaya tersebut masing masing adalah : 30 m^2 papan, 24 kg cat dan 48 jam kerja buruh. Untuk membuat 1 unit meja diperlukan 2 m^2 papan, 4 kg cat dan 6 jam kerja buruh dan untuk membuat 1 unit kursi diperlukan 6 m^2 papan, 2 kg cat dan 8 jam kerja buruh. Jika harga per unit meja adalah Rp. 2 (ratus ribu) dan kursi 4(ratus ribu). Formulasikan masalah ini dalam model *Linear Programming* (LP) untuk menentukan kombinasi optimal produk yang harus dihasilkan yang memberikan pendapatan maksimal bagi perusahaan. Tentukan solusi optimalnya dengan metode grafik.

3. Universal Claims Processor memproses klaim asuransi untuk perusahaan asuransi berskala nasional. Sebagian besar proses klaim dilakukan melalui operator komputer yang merupakan karyawan permanen dan temporer. Operator permanen dapat memproses 16 klaim perhari dengan tingkat kesalahan 0.5 klaim, sedangkan operator temporer dapat memproses 12 klaim perhari dengan tingkat kesalahan 1.4 klaim. Perusahaan ingin membatasi kesalahan sampai hanya 25 klaim perhari. Perusahaan memiliki 40 terminal komputer. Operator permanen dibayar \$54 perhari dan operator temporer \$42 perhari. Formulasikan masalah ini sebagai model program linear untuk mencari kombinasi operator optimal yang memberikan biaya minimum dan selesaikan dengan metode grafik.
4. Tentukan solusi optimal dari masalah model LP berikut dengan metode grafik.

$$\begin{array}{ll} \text{Min} & Z = 3x_1 + 5x_2 \\ \text{s.t.} & x_1 + 2x_2 \geq 8 \\ & 5x_1 + x_2 \geq 10 \\ & 3x_1 + 2x_2 \geq 12 \\ & x_1, x_2 \geq 0. \end{array}$$

5. Tentukan solusi optimal dari masalah model LP berikut dengan metode grafik

$$\text{Max} \quad Z = 3x_1 + 2x_2$$

$$\begin{aligned} \text{s.t} \quad & 2x_1 + x_2 \leq 2 \\ & 3x_1 + 4x_2 \geq 12 \\ & x_1, x_2 \geq 0. \end{aligned}$$

6. Tentukan solusi optimal dengan metode grafik dari masalah model LP soal latihan nomor 1 pada bab I.
7. Tentukan solusi optimal dengan metode grafik dari masalah model LP soal latihan nomor 2 pada bab I.
8. Tentukan solusi optimal dengan metode grafik dari masalah model LP soal latihan nomor 3 pada bab I.
9. Tentukan solusi optimal dengan metode grafik dari masalah model LP soal latihan nomor 4 pada bab I.
10. Tentukan solusi optimal dengan metode grafik dari masalah model LP soal latihan nomor 5 pada bab I.

Metode Simpleks



Metode simpleks adalah metode untuk mencari solusi optimal suatu model program linear dengan prinsip iterasi. Iterasi (pengulangan) perhitungan dilakukan sampai diperoleh solusi optimal. Pada setiap langkah iterasi diperoleh solusi yang fisibel, yang jika dihubungkan pada metode grafik, solusi tersebut merupakan titik-titik solusi perpotongan persamaan kendala pada daerah solusi fisibel tapi yang bukan solusi optimal. Solusi optimal diperoleh pada akhir iterasinya.

Beberapa syarat yang harus diperhatikan pada metode ini adalah :

1. Bentuk kendala berupa pertidaksamaan atau persamaan dengan sisi kanan harus non negatif.
2. Ada penambahan variabel pada masalah awalnya dengan tanda (+)/(-). Variabel tersebut adalah :
 - a. *Slack variable* untuk bentuk kendala \leq ,
 - b. *Excess variable* dan *artificial variable* untuk bentuk kendala \geq , dan
 - c. *Artificial variable* untuk bentuk kendala =.

3.1. TABEL SIMPLEKS

Jika suatu model LP berbentuk :

$$\begin{aligned} \text{Max } Z &= c_1x_1 + c_2x_2 + c_3x_3 \\ \text{s.t } & a_{11}x_1 + a_{12}x_2 + a_{13}x_3 \leq b_1 \\ & a_{21}x_1 + a_{22}x_2 + a_{23}x_3 \leq b_2 \\ & a_{31}x_1 + a_{32}x_2 + a_{33}x_3 \leq b_3 \\ & x_1, x_2, x_3 \geq 0 \end{aligned}$$

Tambahkan *slack variable* untuk masalah maksimisasi, misalnya: x_4, x_5, x_6 maka masalahnya menjadi ,

$$\begin{aligned} \text{Max } Z &= c_1x_1 + c_2x_2 + c_3x_3 \\ \text{s.t } & a_{11}x_1 + a_{12}x_2 + a_{13}x_3 + x_4 = b_1 \\ & a_{21}x_1 + a_{22}x_2 + a_{23}x_3 + x_5 = b_2 \\ & a_{31}x_1 + a_{32}x_2 + a_{33}x_3 + x_6 = b_3 \\ & x_1, \dots, x_6 \geq 0 \end{aligned}$$

Tabel Simpleks Awal

	x_1	x_2	x_3	x_4	x_5	x_6	rhs
Z	$-c_1$	$-c_2$	$-c_3$	0	0	0	0
x_4	a_{11}	a_{12}	a_{13}	1	0	0	b_1
x_5	a_{21}	a_{22}	a_{23}	0	1	0	b_2
x_6	a_{31}	a_{32}	a_{33}	0	0	1	b_3

Keterangan:

1. Variabel non basis yang akan dinaikkan (≥ 0) yang dapat memperbaiki (menaikkan atau menurunkan) nilai fungsi tujuan Z disebut variabel masuk (*entering variable: e.v*) menjadi variabel basis. Mis, x_2
2. Variabel basis yang harus menjadi variabel non basis (bernilai nol) disebut variabel keluar (*leaving variable: l.v*). Mis, x_5
3. Kolom pada *entering variable* disebut *entering column*.
4. Baris yang berhubungan dengan *leaving variable* disebut persamaan pivot atau *pivot equation*.
5. Elemen pada perpotongan antara *entering column* dan *pivot equation* disebut *pivot element*. Mis, a_{22} .

3.2. PIVOTING DAN ITERASI PERHITUNGAN

Jika pivot elemen adalah a_{rs} maka iterasi penghitungan akan menghasilkan elemen-elemen pada tabel baru dengan ketentuan sbb:

1. Pada *Pivot Equation*

$$a_{rj}^* = a_{rj}/a_{rs}$$

Elemen pada pivot equation tabel baru = Elemen pada pivot equation tabel lama dibagi elemen pivot

2. Pada Persamaan Lain

$$a_{ij}^* = a_{ij} - a_{is} \cdot a_{rj}^*$$

$$c_j^* = c_j - c_s \cdot a_{rj}^*$$

Elemen pada persamaan tabel baru = Elemen pada persamaan tabel lama dikurangi elemen pada entering column dikali elemen pada pivot equation tabel baru

x_s sebagai variabel non basis akan menjadi variabel basis dengan menggunakan (menggantikan) seluruh nilai variabel x_r (yang berhubungan dengan baris r).

Misalkan *pivot element*-nya adalah x_{22} maka tabel barunya berbentuk

	x_1	x_2	x_3	x_4	x_5	x_6	rhs
Z	$-c_1 + c_2 \frac{a_{21}}{a_{22}}$	0	$-c_3$	0	0	0	$c_2 \frac{b_2}{a_{22}}$
x_4	$a_{11} - a_{12} \frac{a_{21}}{a_{22}}$	0	$a_{13} - a_{12} \frac{a_{23}}{a_{22}}$	1	$-a_{12} \frac{a_{25}}{a_{22}}$	0	$b_1 - a_{12} \frac{b_2}{a_{22}}$
x_5	$\frac{a_{21}}{a_{22}}$	1	$\frac{a_{23}}{a_{22}}$	0	$\frac{1}{a_{22}}$	0	$\frac{b_2}{a_{22}}$
x_6	$a_{31} - a_{32} \frac{a_{21}}{a_{22}}$	0	a_{33}	0	0	1	$b_3 - a_{32} \frac{b_2}{a_{22}}$

Elemen-elemen pada *entering column* selain *pivot element* akan bernilai 0 pada tabel baru. Jika pada *pivot element* bernilai 0 maka nilainya tidak

berubah pada tabel baru. Jika pada entering column bernilai 0 maka secara baris elementnya tidak berubah pada tabel baru.

3.3. ALGORITMA SIMPLEKS

Langkah-langkah untuk menentukan solusi optimal model LP dengan algoritma simpleks adalah :

1. Pilih *entering variable* dengan nilai c_j pada Z negatif nominal terbesar untuk masalah maksimisasi, dan positif terbesar untuk masalah minimisasi.
2. Pilih *leaving variable* dengan nilai rasio b_j/a_{ij} non negatif terkecil. ($a_{ij} < 0$ tidak masuk dalam analisa).
3. Lakukan pivoting dan iterasi perhitungan untuk memperoleh tabel simpleks baru.
4. Jika c_j semua non negatif (max) atau non positif (min) maka solusi telah optimal jika tidak maka kembali ke awal.

Contoh 3.1 (Maksimisasi)

Tentukan solusi optimal dari model LP berikut.

$$\begin{aligned} \text{Max } Z &= 6x_1 + 4x_2 \\ \text{s.t} \quad & 2x_1 + 2x_2 \leq 30 \\ & x_1 + 2x_2 \leq 20 \\ & 4x_1 + 2x_2 \leq 56 \\ & x_1, x_2 \geq 0 \end{aligned}$$

Penyelesaian :

Tambahkan *slack variable* misalnya x_3, x_4, x_5 pada bentuk kendala sehingga masalahnya menjadi:

$$\begin{aligned} \text{Max } Z &= 6x_1 + 4x_2 \\ \text{s.t} \quad & 2x_1 + 2x_2 + x_3 = 30 \\ & x_1 + 2x_2 + x_4 = 20 \\ & 4x_1 + 2x_2 + x_5 = 56 \\ & x_1, \dots, x_5 \geq 0 \end{aligned}$$

Entering variable adalah x_1 karena koefisiennya pada baris Z sebesar -6 merupakan negatif nominal terbesar dan *leaving variable* adalah x_5 karena mempunyai nilai b_j/a_{ij} nonnegative terkecil sebesar $56/4 = 14$.

Tabel Simpleks Awal

	x_1	x_2	x_3	x_4	x_5	rhs
Z	-6	-4	0	0	0	0
x_3	2	2	1	0	0	30
x_4	1	2	0	1	0	20
x_5	4	2	0	0	1	56

Lakukan *pivoting* dan menghitung nilai-nilainya menjadi tabel iterasi 1

Iterasi 1

	x_1	x_2	x_3	x_4	x_5	rhs
Z	0	-1	0	0	3/2	84
x_3	0	1	1	0	-1/2	2
x_4	0	3/2	0	1	-1/4	6
x_1	1	1/2	0	0	1/4	14

Koefisien pada Z belum nonnegatif. Negatif nominal terbesar pada x_2 menjadi *entering variable*. *Leaving variable* adalah x_3 . Lakukan *pivoting* lagi sebagai iterasi 2

Iterasi 2

	x_1	x_2	x_3	x_4	x_5	rhs
Z	0	0	1	0	1	86
x_2	0	1	1	0	-1/2	2
x_4	0	0	-3/2	1	1/2	3
x_1	1	0	-1/2	0	1/2	13

Koefisien pada Z semuanya sudah non negatif.

Solusi Optimal

$$x_1=13, x_2=2, x_3=0, x_4=3, x_5=0, Z = 86$$

Contoh 3.2

Perusahaan sepatu “SENTOSA” membuat 2 macam sepatu . Macam pertama merek A1, dengan sol dari karet, dan macam kedua merek A2 dengan sol dari kulit. Untuk membuat sepatu-sepatu itu perusahaan memiliki 3 macam mesin. Mesin 1 khusus membuat sol dari karet, mesin 2 khusus membuat sol dari kulit, dan mesin 3 membuat bagian atas sepatu dan melakukan assembling bagian atas dengan sol. Setiap lusin sepatu merek A1 mula-mula dikerjakan dimesin 1 selama 2 jam, kemudian tanpa melalui mesin 2 terus dikerjakan dimesin 3 selama 6 jam. Sedangkan untuk sepatu merek A2 tidak diproses dimesin 1, tetapi pertama kali dikerjakan dimesin 2 selama 3 jam kemudian dimesin 3 selama 5 jam. Jam kerja maksimum setiap hari untuk mesin 1 = 8 jam, mesin 2 = 15 jam, dan mesin 3 = 30 jam. Sumbangan terhadap laba untuk setiap lusin sepatu merek A1 = Rp30.000,00 sedang merek A2 = Rp. 50.000,00. Tentukan berapa lusin sepatu merek A1 dan merek A2 yang dibuat agar bisa memaksimalkan laba.

Penyelesaian

Tabel masalahnya adalah

Mesin \ Merek	A1	A2	Kapasitas Maksimum
1	2	0	8
2	0	3	15
3	6	5	30
Sumbangan terhadap laba	30.000	50.000	

Formulasinya:

$$\begin{aligned}
 \text{Max } Z &= 3x_1 + 5x_2 \\
 \text{s.t } 2x_1 &\leq 8 \\
 3x_2 &\leq 15 \\
 6x_1 + 5x_2 &\leq 30 \\
 x_1, x_2 &\geq 0
 \end{aligned}$$

Tambahkan *slack variabel*: x_3 , x_4 , x_5 pada bentuk kendala sehingga menjadi:

$$\begin{aligned}
 \text{Max } Z &= 3x_1 + 5x_2 \\
 \text{s.t } &2x_1 + x_3 = 8 \\
 &3x_2 + x_4 = 15 \\
 &6x_1 + 5x_2 + x_5 = 30 \\
 &x_1, \dots, x_5 \geq 0
 \end{aligned}$$

Tabel simpleks awal :

	x_1	x_2	x_3	x_4	x_5	rhs
Z	-3	-5	0	0	0	0
x_3	2	0	1	0	0	8
x_4	0	3	0	1	0	15
x_5	6	5	0	0	1	30

Iterasi 1:

	x_1	x_2	x_3	x_4	x_5	rhs
Z	-3	0	0	5/3	0	25
x_3	2	0	1	0	0	8
x_2	0	1	0	1/3	0	5
x_5	6	0	0	-5/3	1	5

Iterasi 2 :

	x_1	x_2	x_3	x_4	x_5	rhs
Z	0	0	0	5/6	1/2	27 ¹ / ₂
x_3	0	0	1	5/9	-1/3	6 ¹ / ₃
x_2	0	1	0	1/3	0	5
x_1	1	0	0	-5/18	1/6	5/6

Karena semua $c_j \geq 0$, maka solusi telah optimal:

$$\begin{aligned}
 x_1 &= 5/6, & \text{sehingga A1} &= 5/6 \text{ lusin setiap hari.} \\
 x_2 &= 5, & \text{sehingga A2} &= 5 \text{ lusin setiap hari.} \\
 Z \text{ max} &= 27 \frac{1}{2}, & \text{artinya laba yang akan diperoleh} &= \\
 & & & \text{Rp. 275.000,00 setiap hari.}
 \end{aligned}$$

Contoh 3.3

Tentukan solusi model LP berikut

$$\begin{aligned} \text{Max} \quad & Z = 3x_1 + 5x_2 \\ \text{s.t} \quad & x_1 \leq 4 \\ & 2x_2 \leq 12 \\ & 3x_1 + 2x_2 \leq 18 \\ & x_1, x_2 \geq 0 \end{aligned}$$

Penyelesaian

Tambahkan *slack variabel*: x_3, x_4, x_5 pada bentuk kendala sehingga menjadi:

$$\begin{aligned} \text{Max} \quad & Z = 3x_1 + 5x_2 \\ \text{s.t} \quad & x_1 + x_3 = 4 \\ & 2x_2 + x_4 = 12 \\ & 3x_1 + 2x_2 + x_5 = 18 \\ & x_1, \dots, x_5 \geq 0 \end{aligned}$$

Tabel Simpleks awal

	x_1	x_2	x_3	x_4	x_5	x_6	rhs
Z	-3	-5	0	1	0	0	30
x_3	1	0	1	0	0	0	4
x_5	0	2	0	0	1	0	12
x_6	3	2	0	-1	0	1	18

Iterasi 1 :

	x_1	x_2	x_3	x_4	x_5	x_6	rhs
Z	-3	0	0	1	2	0	6
x_3	1	0	1	0	0	0	4
x_2	0	1	0	0	1/2	0	6
x_6	3	0	0	-1	-1	1	6

Iterasi 2 :

	x_1	x_2	x_3	x_4	x_5	x_6	rhs
Z	0	0	0	0	1	1	36
x_3	0	0	1	1/3	1/3	-1/3	2
x_2	0	1	0	0	1/2	0	6
x_1	1	0	0	-1/3	-1/3	1/3	2

Karena semua $c_j \geq 0$, maka solusi telah optimal:

$$x_1 = 2,$$

$$x_2 = 6,$$

$$x_3 = 2$$

$$Z = 36.$$

3.4. BIG M METHOD

Untuk masalah minimisasi menggunakan suatu metode yang disebut **Big M Method**. Aturan dalam metode ini adalah :

1. Penambahan artificial variable pada kendala yang tidak memiliki slack variable.
2. Artificial variable merupakan variabel basis pada kondisi awal.
3. Artificial variable akan bernilai nol pada solusi optimal.
4. Koefisien pada Z : M (MIN), $-M$ (MAX) dengan M adalah nilai positif yang sangat besar.
5. Persamaan tujuan (Z) pada tabel simpleks awal mengikuti *inner product rule* dengan rumus :

$$c_j^* = v \cdot v_j - c_j$$

dengan :

c_j^* = koefisien variabel j pada Z baru (tabel simpleks awal)

c_j = koefisien variabel j pada Z lama

v = vektor baris koefisien variabel basis pada Z

v_j = vektor kolom elemen dibawah variabel j pada bentuk kendala

Contoh 3.4

Tentukan solusi optimal dari model LP berikut.

$$\text{Min } Z = 4x_1 + 8x_2$$

$$\begin{aligned} \text{s.t} \quad & x_1 + x_2 \geq 4 \\ & x_1 + 3x_2 \geq 6 \\ & x_1, x_2 \geq 0 \end{aligned}$$

Penyelesaian

Kurangkan setiap kendala dengan excess variable misalnya x_3, x_4 , maka

$$\text{Min } Z = 4x_1 + 8x_2 + 0x_3 + 0x_4$$

$$\begin{aligned} \text{s.t} \quad & x_1 + x_2 - x_3 = 4 \\ & x_1 + 3x_2 - x_4 = 6 \\ & x_1, \dots, x_4 \geq 0 \end{aligned}$$

Menambahkan artificial variable misalnya a_1, a_2 menjadi

$$\text{Min } Z = 4x_1 + 8x_2 + 0x_3 + 0x_4 + Ma_1 + Ma_2$$

$$\begin{aligned} \text{s.t} \quad & x_1 + x_2 - x_3 + a_1 = 4 \\ & x_1 + 3x_2 - x_4 + a_2 = 6 \\ & x_1, \dots, x_4, a_1, a_2 \geq 0 \end{aligned}$$

dengan koefisien tiap variabel pada Z mengikuti *inner product rule*, maka

Tabel simpleks awal

	x_1	x_2	x_3	x_4	a_1	a_2	rhs
Z	$2M-4$	$4M-8$	$-M$	$-M$	0	0	$10M$
a_1	1	1	-1	0	1	0	4
a_2	1	3	0	-1	0	1	6

Entering variable : x_2 dan *leaving variable* : a_2

Iterasi 1

	x_1	x_2	x_3	x_4	a_1	a_2	rhs
Z	$\frac{2M-4}{3}$	0	$-M$	$\frac{M-8}{3}$	0	$\frac{-4M-8}{3}$	$2M+16$

a_1	2/3	0	-1	1/3	0	1/3	2
x_2	1/3	1	0	-1/3	0	1/3	2

Entering variable : x_1 dan leaving variable : a_1

Iterasi 2

	x_1	x_2	x_3	x_4	a_1	a_2	rhs
Z	0	0	-2	-2	$-M-2$	$-M+2$	20
x_1	1	0	-3/2	1/2	3/2	-1/2	3
x_2	0	1	1/2	-1/2	-1/2	1/2	1

Koefisien pada Z senuamya sudah nonpositif

Solusi optimal

$Z=20, x_1=3, x_2=1.$

Contoh 3.5

Tentukan solusi model LP berikut

$$\begin{aligned} \text{Min} \quad & Z = 3x_1 + 5x_2 \\ \text{s.t} \quad & x_1 \leq 4 \\ & 2x_2 = 12 \\ & 3x_1 + 2x_2 \geq 18 \\ & x_1, x_2 \geq 0 \end{aligned}$$

Penyelesaian

Tambahkan slack variable: x_3 , excess variable: x_4 , dan artificial variable: a_1, a_2 , sehingga menjadi

$$\begin{aligned} \text{Min} \quad & Z = 3x_1 + 5x_2 + 0x_3 + 0x_4 + M a_1 + M a_2 \\ \text{s.t} \quad & x_1 + x_3 = 4 \\ & 2x_2 + a_1 = 12 \\ & 3x_1 + 2x_2 - x_4 + a_2 = 18 \\ & x_1, \dots, x_4, a_1, a_2 \geq 0 \end{aligned}$$

Tabel Simpleks awal

Z	x_1	x_2	x_3	x_4	a_1	a_2	rhs
	$(3M-3)$	$(4M-5)$	0	$-M$	0	0	$30M$
x_3	1	0	1	0	0	0	4

a_1	0	2	0	0	1	0	12
a_2	3	2	0	-1	0	1	18

Entering variable : x_2 dan leaving variable : a_1

Iterasi 1 :

	x_1	x_2	x_3	x_4	a_1	a_2	rhs
Z	$(3M-3)$	0	0	$-M$	$(-2M+5/2)$	0	$6M+30$
x_3	1	0	1	0	0	0	4
x_2	0	1	0	0	1/2	0	6
a_2	3	0	0	-1	-1	1	6

Entering variable : x_1 dan leaving variable : a_2

Iterasi 2 :

	x_1	x_2	x_3	x_4	a_1	a_2	rhs
Z	0	0	0	-1	$(-M+3/2)$	$(-M+1)$	36
x_3	0	0	1	1/3	1/3	-1/3	2
x_2	0	1	0	0	1/2	0	6
x_1	1	0	0	-1/3	-1/3	1/3	2

Karena semua $c_j \leq 0$, maka solusi telah optimal:

$$x_1 = 2,$$

$$x_2 = 6,$$

$$x_3 = 2$$

$$Z = 36.$$

Metode Dual Simplex

Untuk menghindari penambahan artificial variabel pada kendala \geq , dapat dilakukan dengan membuat kendala tersebut menjadi \leq dengan mengalikan sisi kiri dan kanannya dengan -1. Agar penyelesaiannya hanya menambahkan dengan slack variabel. Tetapi kasus ini akan melanggar batasan model LP karena sisi kanan menjadi negatif. Untuk menyelesaikan model ini dikenal dengan metode dual simplex.

Langkah-langkah metode dual simplex :

- Buat bentuk kendala " \geq " menjadi " \leq ", agar tidak ada penambahan artificial variabel

- Diawali solusi tak fisibel (sisi kanan negatif)
- Pilih *Leaving Variable* : variabel basis yang memiliki nilai pada sisi kanan negatif terbesar (jika semua variabel basis nonnegatif maka proses berakhir dan solusi fisibel telah optimum)
- Pilih *Entering Variable* : (dari variabel nonbasis), rasio koefisien pada Z dengan koefisien pada pivot equation (abaikan penyebut ≥ 0) absolut terkecil. Jika semua penyebut ≥ 0 , solusi tak fisibel.
- Lakukan perhitungan seperti pada pivoting metode simpleks.

Contoh 3.6 :

Tentukan solusi optimal masalah berikut dengan metode dual simpleks.

$$\begin{aligned} \text{Min } Z &= 4x_1 + 2x_2 \\ \text{s.t } & 3x_1 + x_2 \geq 27 \\ & x_1 + x_2 \geq 21 \\ & x_1 + 2x_2 \geq 30 \\ & x_1, x_2 \geq 0. \end{aligned}$$

Penyelesaian

Buat bentuk kendala “ \geq ” menjadi “ \leq ”:

$$\begin{aligned} \text{Min } Z &= 4x_1 + 2x_2 \\ \text{s.t } & -3x_1 - x_2 \leq -27 \\ & -x_1 - x_2 \leq -21 \\ & -x_1 - 2x_2 \leq -30 \\ & x_1, x_2 \geq 0 \end{aligned}$$

Tambah slack variabel : x_3, x_4, x_5

$$\begin{aligned} \text{Min } Z &= 4x_1 + 2x_2 \\ \text{s.t } & -3x_1 - x_2 + x_3 = -27 \\ & -x_1 - x_2 + x_4 = -21 \\ & -x_1 - 2x_2 + x_5 = -30 \\ & x_1, \dots, x_5 \geq 0 \end{aligned}$$

Tabel simpleks awal

	x_1	x_2	x_3	x_4	x_5	rhs
Z	-4	-2	0	0	0	0

x_3	-3	-1	1	0	0	-27
x_4	-1	-1	0	1	0	-21
x_5	-1	-2	0	0	1	-30

Iterasi 1

	x_1	x_2	x_3	x_4	x_5	rhs
Z	-3	0	0	0	-1	30
x_3	-5/2	0	1	0	-1/2	-12
x_4	-1/2	0	0	1	-1/2	-6
x_2	1/2	1	0	0	-1/2	15

Iterasi 2

	x_1	x_2	x_3	x_4	x_5	rhs
Z	0	0	-6/5	0	-2/5	222/5
x_1	1	0	-2/5	0	1/5	24/5
x_4	0	0	-1/5	1	-2/5	-18/5
x_2	0	1	1/5	0	-3/5	63/5

Iterasi 3

	x_1	x_2	x_3	x_4	x_5	rhs
Z	0	0	-1	-1	0	48
x_1	1	0	-1/2	-1/2	0	3
x_5	0	0	1/2	-5/2	1	9
x_2	0	1	1/2	-3/2	0	18

Solusi optimal : $Z= 48, x_1= 3, x_2= 18, x_5= 9, x_3= x_4= 0$

3.5. KASUS KHUSUS METODE SIMPLEKS

3.5.1. Solusi Optimum Berganda

Terjadi karena kemiringan salah satu bentuk kendala sama dengan fungsi tujuannya. Jika pemilihan *leaving variable* pada kendala yang

kemiringannya sama dengan fungsi tujuan maka koefisien pada Z untuk variabel yang bukan *entering variable* akan bernilai nol hasil iterasi. Variabel ini bisa dipilih sebagai *entering variable* untuk iterasi berikutnya. Selanjutnya akan diperoleh solusi optimum alternatif yang tidak merubah nilai Z-nya, hanya variabel basis dan nilainya yang berubah.

Contoh 3.7

$$\begin{aligned} \text{Max } Z &= 2x_1 + 4x_2 \\ \text{s.t } & x_1 + 2x_2 \leq 5 \\ & x_1 + x_2 \leq 4 \\ & x_1, x_2 \geq 0 \end{aligned}$$

Penyelesaian

Jika ditambah *slack variable*, misal : x_3, x_4 , menjadi

$$\begin{aligned} \text{Max } Z &= 2x_1 + 4x_2 \\ \text{s.t } & x_1 + 2x_2 + x_3 = 5 \\ & x_1 + x_2 + x_4 = 4 \\ & x_1, \dots, x_4 \geq 0 \end{aligned}$$

Tabel simpleks awal

	x_1	x_2	x_3	x_4	rhs
Z	-2	-4	0	0	0
x_3	1	2	1	0	5
x_4	1	1	0	1	4

Tabel simpleks iterasi 1

	x_1	x_2	x_3	x_4	rhs
Z	0	0	2	0	10
x_2	1/2	1	1/2	0	5/2
x_4	1/2	0	-1/2	1	3/2

Solusi telah optimal dengan $Z=10, x_2=5/2, x_4=3/2, x_1=x_3=0$.

Tapi solusi alternatif bisa diperoleh dengan memilih x_1 (koefisien nol pada Z) sebagai *entering variable*.

Tabel simpleks iterasi 2

	x_1	x_2	x_3	x_4	rhs
Z	0	0	2	0	0
x_2	0	1	1	-1	1
x_1	1	0	-1	2	3

Ini adalah solusi optimal alternatif dengan $Z=10$, $x_1=3$, $x_2=1$, $x_3=x_4=0$.

3.5.2. Degenerasi

Pada proses pemilihan *leaving variable* terdapat rasio terkecil sama (kembar). Jika ini terjadi maka pemilihan *leaving variable* dilakukan sembarang. Akan mengakibatkan satu atau lebih variabel basis bernilai nol. Variabel basis bernilai nol disebut *solusi degenerasi*. Pada iterasi selanjutnya, pemilihan *leaving variable* memperhitungkan rasio bernilai 0 tersebut tapi tetap pada $a_{ij}>0$.

Contoh 3.8

$$\begin{aligned} \text{Max } Z &= 3x_1 + 9x_2 \\ \text{s.t } & x_1 + 2x_2 \leq 4 \\ & x_1 + 4x_2 \leq 8 \\ & x_1, x_2 \geq 0 \end{aligned}$$

Penyelesaian

Jika ditambah *slack variable*, misal : x_3, x_4 , menjadi

$$\begin{aligned} \text{Max } Z &= 3x_1 + 9x_2 \\ \text{s.t } & x_1 + 2x_2 + x_3 = 5 \\ & x_1 + 4x_2 + x_4 = 4 \\ & x_1, \dots, x_4 \geq 0 \end{aligned}$$

Tabel simpleks awal

	x_1	x_2	x_3	x_4	rhs
Z	-3	-9	0	0	0
x_3	1	2	1	0	4
x_4	1	4	0	1	8

Terdapat rasio minimum kembar yaitu : pada x_3 yaitu $4/2 = 2$ dan x_4 yaitu $8/4=2$.

Misalnya pilih x_3 sebagai *leaving variable*

Iterasi 1

	x_1	x_2	x_3	x_4	rhs
Z	$3/2$	0	$9/2$	0	13
x_2	$1/2$	1	$1/2$	0	2
x_4	-1	0	-2	1	0

Solusi Optimal Z=18, X2=4, X4=0, dan X1=X3=0

Misalnya pilih x_4 sebagai *leaving variable*

Iterasi 1

	x_1	x_2	x_3	x_4	rhs
Z	$-3/4$	0	0	$9/4$	18
x_3	$1/2$	0	1	$-1/2$	0
x_2	$1/4$	1	0	$1/4$	2

Iterasi 2

	x_1	x_2	x_3	x_4	rhs
Z	0	0	$3/2$	$3/2$	18
x_1	1	0	2	-1	0
x_2	0	1	$-1/2$	$1/2$	2

Solusi Optimal Z = 18, $x_1=0$, $x_2=2$, dan $x_3=x_4=0$

Pemilihan *leaving variable* sembarang membuat terjadi degenerasi solusi optimal sama nilai Z dan variabel yang mungkin beda adalah iterasi.

Contoh 3.9

Tentukan solusi model LP berikut

$$\text{Max } Z = 3x_1 + 2x_2$$

$$\begin{aligned}
 \text{s.t} \quad & 4x_1 + 3x_2 \leq 12 \\
 & 4x_1 + x_2 \leq 8 \\
 & 4x_1 - x_2 \leq 30 \\
 & x_1, x_2 \geq 0
 \end{aligned}$$

Penyelesaian

Tambahkan *slack variabel*: x_3, x_4, x_5 pada bentuk kendala sehingga menjadi:

$$\begin{aligned}
 \text{Max} \quad & Z = 3x_1 + 2x_2 \\
 \text{s.t} \quad & 4x_1 + 3x_2 + x_3 = 12 \\
 & 4x_1 + x_2 + x_4 = 8 \\
 & 4x_1 - x_2 + x_5 = 8 \\
 & x_1, \dots, x_5 \geq 0
 \end{aligned}$$

Tabel Simpleks awal

	x_1	x_2	x_3	x_4	x_5	rhs
Z	-3	-2	0	0	0	0
x_3	4	3	1	0	0	12
x_4	4	1	0	1	0	8
x_5	4	-1	0	0	1	8

Iterasi 1

	x_1	x_2	x_3	x_4	x_5	rhs
Z	0	-5/4	0	3/4	0	6
x_3	0	2	1	1	0	4
x_1	1	1/4	0	1/4	0	2
x_5	0	-2	0	-1	1	0

Terbentuk solusi degenerasi yang ditunjukkan oleh $x_5=0$

Iterasi 2

	x_1	x_2	x_3	x_4	x_5	rhs
Z	0	0	5/8	1/8	0	17/2
x_2	0	1	1/2	-1/2	0	2

x_1	1	0	-1/8	3/8	0	3/2
x_5	0	0	1	-2	1	4

Dari hasil diatas diperoleh :

$$x_1 = 3/2, x_2 = 2, x_3 = 0, x_4 = 0, x_5 = 4, Z = 17/2.$$

3.6. METODE SIMPLEKS DENGAN SOFTWARE QM for Windows

Langkah memasukkan data untuk metode simpleks pada *QMWin*, sama pada metode grafik. Yang penting untuk ditampilkan disini, selain solusi akhirnya, adalah iterasi perhitungannya.

Contoh 3.10

$$\begin{aligned} \text{Max} \quad & Z = 60x_1 + 30x_2 + 20x_3 \\ \text{s.t} \quad & 8x_1 + 6x_2 + x_3 \leq 48 \\ & 4x_1 + 2x_2 + 3/2x_3 \leq 20 \\ & 2x_1 + 3/2x_2 + 1/2x_3 \leq 8 \\ & x_2 \leq 5 \\ & x_1, x_2, x_3 \geq 0 \end{aligned}$$

Penyelesaian

Tambahkan *slack variable* : x_4, x_5, x_6, x_7 menjadi

$$\begin{aligned} \text{Max} \quad & Z = 60x_1 + 30x_2 + 20x_3 \\ \text{s.t} \quad & 8x_1 + 6x_2 + x_3 + x_4 = 48 \\ & 4x_1 + 2x_2 + 3/2x_3 + x_5 = 20 \\ & 2x_1 + 3/2x_2 + 1/2x_3 + x_6 = 8 \\ & x_2 + x_7 = 5 \\ & x_1, \dots, x_7 \geq 0 \end{aligned}$$

Tabel simpleks awal :

	x_1	x_2	x_3	x_4	x_5	x_6	x_7	rhs
Z	-60	-30	-20	0	0	0	0	0

x_4	8	6	1	1	0	0	0	48
x_5	4	2	3/2	0	1	0	0	20
x_6	2	3/2	1/2	0	0	1	0	8
x_7	0	1	0	0	0	0	1	5

Iterasi 1 :

	x_1	x_2	x_3	x_4	x_5	x_6	x_7	rhs
Z	0	15	-5	0	0	30	0	240
x_4	0	0	-1	1	0	-4	0	16
x_5	0	-1	1/2	0	1	-2	0	4
x_1	1	3/4	1/4	0	0	1/4	0	4
x_7	0	1	0	0	0	1	1	5

Iterasi 2 :

	x_1	x_2	x_3	x_4	x_5	x_6	x_7	rhs
Z	0	5	0	0	10	0	0	280
x_4	0	-2	0	1	2	-8	0	24
x_3	0	-2	1	0	2	-4	0	8
x_1	1	5/4	0	0	-1/2	3/2	0	2
x_7	0	1	0	0	0	1	1	5

Dari hasil diatas, diperoleh Solusi Optimal

$$\begin{aligned}
 x_1 &= 2 & x_2 &= 0 \\
 x_3 &= 8 & x_4 &= 24 \\
 x_5 &= 0 & x_6 &= 0 \\
 x_7 &= 5 & Z &= 280
 \end{aligned}$$

Analisis dengan menggunakan OM for Windows

- Untuk melihat iterasi perhitungannya pilih *windows iterations*

Iterations									
2 Solution									
Cj	Basic Variables	60 X1	30 X2	20 X3	0 slack 1	0 slack 2	0 slack 3	0 slack 4	Quantity
Iteration 1									
	cj-zj	60.	30.	20.	0.	0.	0.	0.	
0	slack 1	8.	6.	1.	1.	0.	0.	0.	48.
0	slack 2	4.	2.	1.5	0.	1.	0.	0.	20.
0	slack 3	2.	1.5	0.5	0.	0.	1.	0.	8.
0	slack 4	0.	1.	0.	0.	0.	0.	1.	5.
Iteration 2									
	cj-zj	0.	-15.	5.	0.	0.	-30.	0.	
0	slack 1	0.	0.	-1.	1.	0.	-4.	0.	16.
0	slack 2	0.	-1.	0.5	0.	1.	-2.	0.	4.
60	X1	1.	0.75	0.25	0.	0.	0.5	0.	4.
0	slack 4	0.	1.	0.	0.	0.	0.	1.	5.
Iteration 3									
	cj-zj	0.	-5.	0.	0.	-10.	-10.	0.	
0	slack 1	0.	-2.	0.	1.	2.	-8.	0.	24.
20	X3	0.	-2.	1.	0.	2.	-4.	0.	8.
60	X1	1.	0.75	0.25	0.	0.	0.5	0.	4.
0	slack 4	0.	1.	0.	0.	0.	0.	1.	5.

- Untuk melihat hasilnya pilih *windows linear programming results*

2 Solution						
	X1	X2	X3		RHS	Dual
Maximize	60.	30.	20.			
Constraint 1	8.	6.	1.	<=	48.	0.
Constraint 2	4.	2.	1.5	<=	20.	10.
Constraint 3	2.	1.5	0.5	<=	8.	10.
Constraint 4	0.	1.	0.	<=	5.	0.
Solution->	2.	0.	8.		280.	

- Untuk melihat list solusinya pilih *windows solution list*

2 Solution		
Variable	Status	Value
X1	Basic	2.
X2	NONbasic	0.
X3	Basic	8.
slack 1	Basic	24.
slack 2	NONbasic	0.
slack 3	NONbasic	0.
slack 4	Basic	5.
Optimal Value (Z)		280.

RANGKUMAN

Metode simpleks adalah cara berhitung dengan prinsip iterasi. Model LP dibuat dengan menambahkan *slack variable* pada kendala " \leq ", *excess variable* dan *artificial variable* pada kendala " \geq ", dan *artificial variable* pada kendala " $=$ ". Iterasi dalam perhitungan dilakukan dengan *pivoting*

pada *entering variable* dan *leaving variable* sampai diperoleh solusi optimal dengan algoritma simpleks, yaitu :

1. Pilih *entering variable* dengan nilai c_j pada Z negatif terbesar untuk masalah maksimisasi, dan positif terbesar untuk masalah minimisasi.
2. Pilih *leaving variable* dengan nilai rasio b_j/a_{ij} non negatif terkecil. ($a_{ij} < 0$ tidak masuk dalam analisa)
3. Lakukan pivoting dan iterasi perhitungan untuk memperoleh tabel simpleks baru.
4. Jika c_j semua non negatif (max) atau non positif (min) maka solusi telah optimal jika tidak maka kembali ke awal.

Untuk model LP yang mempunyai kendala " \geq " dan " $=$ " diselesaikan dengan *Big M Method* dengan koefisien *artificial variable* pada Z awal adalah M (min) dan $-M$ (max) dengan M adalah bilangan positif yang sangat besar.

Kasus khusus pada metode simpleks yang dibahas adalah solusi optimum berganda seperti pada metode grafik dan solusi degenerasi yaitu terdapat solusi variabel basis bernilai nol.

PUSTAKA

1. Luenberger, D.G. and Y. Ye. 2016. *Linear and Nonlinear Programming, 4^{ed}*. Springer Int. Pub. Switzerland.
2. Ravindran, A.R. 2008. *Operations Research and Management Science Handbook*. CRC Press Taylor & Francis Group.
3. Taha, H.A. 2007. *Operations Research: An Introduction, 8^{ed}*. Prentice Hall, New Jersey.
4. Taylor, B.W. 2013. *Introduction to Management Science, 11^{ed}*. Prentice Hall, New Jersey.
5. Winston, W.L. 2008. *Operations Research. Applications and Algorithms, 4^{ed}*. Brooks/Cole, New York.

SOAL LATIHAN

1. Tentukan solusi optimal model LP berikut dengan metode simpleks.

$$\text{Max } Z = 2x_1 + 3x_2$$

$$\text{s.t } x_1 + 3x_2 \leq 6$$

$$3x_1 + 2x_2 \leq 6$$

$$x_1, x_2 \geq 0.$$

2. Tentukan solusi optimal model LP berikut dengan metode simpleks.

$$\text{Max } Z = 16x_1 + 15x_2$$

$$\text{s.t } 40x_1 + 31x_2 \leq 124$$

$$-x_1 + x_2 \leq 1$$

$$x_1 \leq 3$$

$$x_1, x_2 \geq 0.$$

3. Tentukan solusi optimal model LP berikut dengan *Big M Method*.

$$\text{Min } Z = 5x_1 + 6x_2$$

$$\text{s.t } x_1 + x_2 \geq 2$$

$$4x_1 + x_2 \geq 4$$

$$x_1, x_2 \geq 0.$$

4. Tentukan solusi optimal model LP berikut dengan *Big M Method*.

$$\text{Min } Z = 2x_1 + 3x_2$$

$$\text{s.t } 2x_1 + 2x_2 \leq 30$$

$$x_1 + 2x_2 \geq 10$$

$$x_1, x_2 \geq 0.$$

5. Tentukan solusi optimal model berikut dengan metode dual simplex.

$$\text{Max } Z = x_1 + x_2$$

$$\text{s.t } x_1 + 2x_2 \leq 6$$

$$2x_1 + x_2 \geq 9$$

$$x_1, x_2 \geq 0.$$

6. Tentukan solusi optimal model LP berikut.

$$\text{Max } Z = 2x_1 + 3x_2 + 5x_3$$

$$\begin{aligned}
 \text{s.t} \quad & x_1 + x_2 - x_3 \geq -5 \\
 & -6x_1 + 7x_2 - 9x_3 \leq 4 \\
 & x_1 + x_2 + 4x_3 = 10 \\
 & x_1, x_2, x_3 \geq 0.
 \end{aligned}$$

7. Seperti soal no. 6 jika fungsi tujuan diganti dengan:

$$\text{Min } Z = 2x_1 + 3x_2 + 5x_3.$$

8. Seperti soal no. 6 jika kendala pertama diganti dengan:

$$x_1 + x_2 - x_3 \leq -5.$$

9. Jika model LP adalah sebagai berikut.

$$\text{Max } Z = x_1 + 2x_2 + 3x_3$$

$$\begin{aligned}
 \text{s.t} \quad & x_1 + 2x_2 + 3x_3 \leq 10 \\
 & x_1 + x_2 \leq 5 \\
 & x_1 \leq 10 \\
 & x_1, x_2, x_3 \geq 0,
 \end{aligned}$$

tentukan solusi optimalnya sebagai solusi optimal berganda.

10. Jika model LP adalah sebagai berikut.

$$\text{Max } Z = 3x_1 + x_2$$

$$\begin{aligned}
 \text{s.t} \quad & x_1 + 2x_2 \leq 10 \\
 & x_1 + x_2 - x_3 \leq 5 \\
 & 7x_1 + 3x_2 - 5x_3 \leq 20 \\
 & x_1, x_2, x_3 \geq 0,
 \end{aligned}$$

tunjukkan bahwa terdapat solusi degenerasi dan solusi optimal berganda.

Dualitas

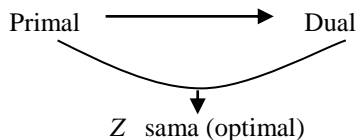


4.1. HUBUNGAN MASALAH PRIMAL DAN DUAL

Masalah model LP mempunyai 2 bentuk masalah :

1. Masalah Primal (awal)
2. Masalah Dual

>>> Mencari solusi (maximum/minimum) fungsi tujuan



Contoh Masalah :

Suatu masalah minimisasi yang disajikan dalam tabel masalah berikut :

	Jenis Makanan		Kebutuhan Minimum
	A	B	
Daging	2	4	40
Telur	3	2	50
Harga per Unit	3	2.5	

- Masalah kebutuhan minimum (daging dan telur) yang harus dipenuhi dengan mengkonsumsi makanan A & B.
- Minimisasi (Masalah Primal)

Masalah:

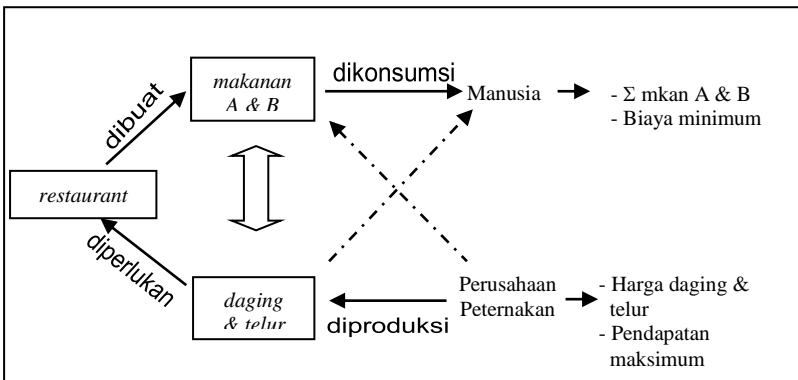
Menentukan biaya pembelian jenis makanan A & B yang paling rendah agar kebutuhan minimum daging dan telur terpenuhi.

Jika $x_1 =$ Jumlah makanan A
 $x_2 =$ Jumlah makanan B

Maka masalahnya : $\text{Min } Z = 3x_1 + 2,5x_2$
 s.t $2x_1 + 4x_2 \geq 40$
 $3x_1 + 2x_2 \geq 50$
 $x_1, x_2 \geq 0$

Pandang masalah yang berbeda :

Jika masalah A & B dibuat oleh sebuah restaurant dimana bahan baku daging dan telur per unit yang maksimum sedemikian sehingga menghasilkan harga makanan A & B tidak melebihi harga pasar yang berlaku.



Jika $y_1 =$ harga per unit daging
 $y_2 =$ harga per unit telur

Maka masalahnya menjadi :

$\text{Max } W = 40y_1 + 50y_2$
 s.t $2y_1 + 3y_2 \leq 3$ (makanan A)
 $4y_1 + 2y_2 \leq 2,5$ (makanan B)
 $y_1, y_2 \geq 0$

Bentuk dual masalah LP :

1. Misalkan sebuah variable dual (non negatif) untuk setiap kendala primal.
2. Vektor baris koefisien variable keputusan pada fungsi tujuan primal diubah menjadi vektor kolom sisi kanan bentuk dual.
3. Vektor kolom sisi kanan primal diubah menjadi vektor baris koefisien variable keputusan pada fungsi tujuan dual.
4. Transpose matriks koefisien kendala primal menjadi matriks koefisien kendala dual.
5. Balik arah pertidaksamaan kendala ($\leq \rightarrow \geq / \geq \rightarrow \leq$)
6. Balik arah optimisasi fungsi tujuan ($\min \rightarrow \max / \max \rightarrow \min$)

Mis : Masalah primal

$$\begin{aligned} \text{Min } Z &= c_1x_1 + c_2x_2 + \dots + c_nx_n \\ \text{s.t } & a_{11}x_1 + a_{12}x_2 + \dots + a_{1n}x_n \geq b_1 \\ & a_{21}x_1 + a_{22}x_2 + \dots + a_{2n}x_n \geq b_2 \\ & \vdots \\ & a_{m1}x_1 + a_{m2}x_2 + \dots + a_{mn}x_n \geq b_m \\ & x_1, \dots, x_n \geq 0 \end{aligned}$$

*n variabel
m kendala*

Masalah dual

$$\begin{aligned} \text{Max } W &= b_1y_1 + b_2y_2 + \dots + b_my_m \\ \text{s.t } & a_{11}y_1 + a_{21}y_2 + \dots + a_{m1}y_m \leq c_1 \\ & a_{12}y_1 + a_{22}y_2 + \dots + a_{m2}y_m \leq c_2 \\ & \vdots \\ & a_{1m}y_1 + a_{2m}y_2 + \dots + a_{mm}y_m \leq c_n \\ & y_1, \dots, y_m \geq 0 \end{aligned}$$

*m variabel
n kendala*

Teorema (Main Duality Theorem)

Jika masalah primal maupun masalah dual adalah fisibel maka keduanya mempunyai solusi sedemikian sehingga nilai optimal fungsi tujuannya sama.

Contoh 4.1

Tentukan solusi optimal primal dan dual dari contoh masalah diatas.

Penyelesaian

Masalah Primal

Jika ditambahkan *excess var.*, misal : x_3, x_4 dan *artificial var.*, misal : a_1 dan a_2

masalahnya menjadi,

$$\begin{aligned} \text{Min } Z &= 3x_1 + 2,5x_2 + 0x_3 + 0x_4 + Ma_1 + Ma_2 \\ \text{s.t } 2x_1 + 4x_2 - x_3 + a_1 &= 40 \\ 3x_1 + 2x_2 - x_4 + a_2 &= 50 \\ x_1, \dots, x_4, a_1, a_2 &\geq 0 \end{aligned}$$

dan dengan menggunakan *inner product rule* untuk Z, maka

Table Simpleks Awal

	x_1	x_2	x_3	x_4	a_1	a_2	rhs
Z	5M-3	6M-2,5	-M	-M	0	0	90M
a_1	2	4	-1	0	1	0	40
a_2	3	2	0	-1	0	-1	50

Table Simpleks Iterasi 1

	x_1	x_2	x_3	x_4	a_1	a_2	rhs
Z	$\frac{4M-3,5}{2}$	0	$\frac{2M-2,5}{4}$	-M	$\frac{-6M+2,5}{4}$	0	30M+25
x_2	1/2	1	-1/4	0	1/4	0	10
a_2	2	0	1/2	-1	-1/2	1	30

Table Simpleks Iterasi 2

	x_1	x_2	x_3	x_4	a_1	a_2	rhs
Z	0	0	-3/16	-7/8	$\frac{-8M+1,5}{8}$	$\frac{-4M+3,5}{4}$	$\frac{205}{4}$
x_2	0	1	-3/8	1/4	3/8	-1/4	5/2
x_1	1	0	1/4	-1/2	-1/4	1/2	15

Solusi Optimal : $Z = 205/4, x_1 = 15, x_2 = 5/2.$

Masalah Dual

Jika ditambahkan *slack var.*, misal : y_3, y_4

Maka masalahnya menjadi,

$$\begin{aligned} \text{Max } W = & 40y_1 + 50y_2 + 0y_3 + 0y_4 \\ \text{s.t } & 2y_1 + 3y_2 + y_3 = 3 \\ & 4y_1 + 2y_2 + y_4 = 2,5 \\ & y_1, \dots, y_4 \geq 0 \end{aligned}$$

Table Simpleks Awal

	y_1	y_2	y_3	y_4	rhs
Z	-40	-50	0	0	0
y_3	2	3	1	0	3
y_4	4	2	0	1	2,5

Table Simpleks Iterasi 1

	y_1	y_2	y_3	y_4	rhs
Z	-20/3	0	50/3	0	50
y_2	2/3	1	1/3	0	1
y_4	8/3	0	-2/3	1	0,5

Table Simpleks Iterasi 2

	y_1	y_2	y_3	y_4	rhs
Z	0	0	15	5/2	205/4
y_2	0	1	1/2	1/4	7/8
y_1	1	0	-1/4	3/8	3/16

Solusi Optimal : $Z = 205/4, y_1 = 3/16, y_2 = 7/8$.

4.2. HUBUNGAN SOLUSI OPTIMAL PRIMAL DAN DUAL

Bila diperhatikan tabel solusi optimal masalah primal dan dualnya terlihat bahwa :

- ❖ Nilai Z pada primal dan dual sama yaitu 105/4.

- ❖ Nilai variabel basis (x_1 dan x_2) pada primal sama dengan koefisien positif *slack variable* (y_3 dan y_4) pada dual yaitu $x_1 = y_3 = 15$ dan $x_2 = y_4 = 5/2$
- ❖ Nilai variabel basis (y_1 dan y_2) pada dual sama dengan koefisien positif *excess variable* (x_3 dan x_4) pada primal yaitu $y_1 = x_3 = 3/16$ dan $y_2 = x_4 = 7/8$

Atau dapat dibuat hubungan solusi akhir primal-dual adalah sebagai berikut

Primal		Dual
Nilai fungsi tujuan z	=	Nilai fungsi tujuan w
Nilai variabel basis	=	Koefisien (+) <i>slack/ excess variable</i>
Koefisien (+) <i>slack/excess variable</i>	=	fungsi tujuan
ungsi tujuan		Nilai variabel basis

Contoh 4.2

Buatlah masalah dual dari masalah primal berikut dan tentukan solusi primalnya berdasarkan tabel optimal solusi dual.

$$\begin{aligned}
 \text{Min } Z &= 16x_1 + 22x_2 \\
 \text{s.t } &12x_1 + 6x_2 \geq 6 \\
 &24x_1 + 3x_2 \geq 8 \\
 &18x_1 + 2x_2 \geq 4 \\
 &x_1, x_2 \geq 0
 \end{aligned}$$

Penyelesaian

Bentuk dualnya adalah :

$$\begin{aligned}
 \text{Max } W &= 6y_1 + 8y_2 + 4y_3 \\
 \text{s.t } &12y_1 + 24y_2 + 18y_3 \leq 16 \\
 &6y_1 + 3y_2 + 2y_3 \leq 22 \\
 &y_1, y_2, y_3 \geq 0
 \end{aligned}$$

Tambahkan *slack variable*: y_4, y_5 pada bentuk kendala menjadi

$$\begin{aligned}
 \text{Max } W &= 6y_1 + 8y_2 + 4y_3 \\
 \text{s.t } 12y_1 + 24y_2 + 18y_3 + y_4 &= 16 \\
 6y_1 + 3y_2 + 2y_3 + y_5 &= 22 \\
 y_1, \dots, y_5 &\geq 0
 \end{aligned}$$

Tabel simpleks awal

	y_1	y_2	y_3	y_4	y_5	rhs
Z	-6	-8	-4	0	0	0
y_4	12	24	18	1	0	16
y_5	6	3	2	0	1	22

Tabel simpleks iterasi 1

	y_1	y_2	y_3	y_4	y_5	rhs
Z	-2	0	2	-1/3	0	16/3
y_2	1/2	1	3/4	1/24	0	2/3
y_5	9/2	0	-1/4	-1/8	1	20

Tabel simpleks iterasi 2

	y_1	y_2	y_3	y_4	y_5	rhs
Z	0	4	5	-1/2	0	8
y_1	1	2	3/2	1/12	0	4/3
y_5	0	-9	-7	-1/2	1	14

Jadi solusi optimal Dual adalah : $Z = 8$, $y_1 = 4/3$, $y_5 = 14$

Dan untuk solusi Primalnya yaitu (lihat nilai koef. *slack variabel*) :

$$x_1 = y_4 = 1/2$$

$$x_2 = y_5 = 0$$

$$Z = 8.$$

Contoh 4.3

Buatlah masalah dual dari masalah primal berikut dan tentukan solusi primalnya berdasarkan tabel optimal solusi dual.

$$\begin{aligned}
 \text{Min } Z &= 5x_1 + 10x_2 \\
 \text{s.t } 8x_1 + 16x_2 &\geq 20 \\
 7x_1 + 8x_2 &\geq 40 \\
 x_1, x_2 &\geq 0
 \end{aligned}$$

Penyelesaian

Bentuk dualnya

$$\begin{aligned} \text{Max } W &= 20y_1 + 40y_2 \\ \text{s.t } & 8y_1 + 7y_2 \leq 5 \\ & 16y_1 + 8y_2 \leq 10 \\ & y_1, y_2 \geq 0 \end{aligned}$$

Tambahkan *slack variable*: y_3, y_4 pada bentuk kendala menjadi

$$\begin{aligned} \text{Max } W &= 20y_1 + 40y_2 \\ \text{s.t } & 8y_1 + 7y_2 + y_3 = 5 \\ & 16y_1 + 8y_2 + y_4 = 10 \\ & y_1, \dots, y_4 \geq 0 \end{aligned}$$

Tabel simpleks awal

	y_1	y_2	y_3	y_4	rhs
Z	-20	-40	0	0	0
y_3	8	7	1	0	5
y_4	16	8	0	1	10

Tabel simpleks iterasi 1

	y_1	y_2	y_3	y_4	rhs
Z	180/7	0	40/7	0	200/7
y_2	8/7	1	1/7	0	5/7
y_4	48/7	0	0	-8/7	30/7

Jadi solusi optimal Dual adalah : $Z = 200/7$, $y_2 = 5/7$, $y_4 = 30/7$

Dan untuk solusi Primalnya yaitu (lihat nilai koef. *slack variabel*) :

$$\begin{aligned} x_1 &= y_3 = 40/7 \\ x_2 &= y_4 = 0 \\ Z &= 200/7. \end{aligned}$$

4.3. DUALITAS DENGAN SOFTWARE *QM for Windows*

Dari solusi optimal dengan *QM*, perhatikan kolom terakhir pada windows “*Linear Programming Result*” dan “*Iteration*”-nya yang akan menunjukkan solusi dualnya.

Contoh 4.4

Tentukan solusi dual dari masalah primal berikut.

$$\begin{aligned} \text{Max } W &= 6y_1 + 8y_2 + 4y_3 \\ \text{s.t. } & 12y_1 + 24y_2 + 18y_3 \leq 16 \\ & 6y_1 + 3y_2 + 2y_3 \leq 22 \\ & y_1, y_2, y_3 \geq 0 \end{aligned}$$

Penyelesaian :

Dengan menambahkan *slack variable*, mis y_4, y_5 maka tabel simpleks awalnya menjadi

Tabel simpleks awal

	y_1	y_2	y_3	y_4	y_5	rhs
Z	-6	-8	-4	0	0	0
y_4	12	24	18	1	0	16
y_5	6	3	2	0	1	22

Tabel simpleks iterasi 1

	y_1	y_2	y_3	y_4	y_5	rhs
Z	-2	0	2	-1/3	0	16/3
y_2	1/2	1	3/4	1/24	0	2/3
y_5	9/2	0	-1/4	1/8	1	20

Tabel simpleks iterasi 2

	y_1	y_2	y_3	y_4	y_5	rhs
Z	0	4	5	1/2	0	8
y_4	1	2	3/2	1/12	0	4/3
y_5	0	-9	-7	-1/2	1	14

Jadi solusi optimal primal adalah : $Z = 8$, $y_1 = 4/3$, $y_5 = 14$
 dan untuk solusi dualnya yaitu :

$$Z = 8 , x_1 = 1/2, x_2 = 0$$

Analisa dengan *QM for Win*

Linear Programming Results						
<untitled> solution						
	X1	X2	X3		RHS	Dual
Maximize	6.	8.	4.			
Constraint 1	12.	24.	18.	<=	16.	0.5
Constraint 2	6.	3.	2.	<=	22.	0.
Solution->	1.3333	0.	0.		8.	

Iterations							
<untitled> solution							
Cj	Basic Variables	6 X1	8 X2	4 X3	0 slack 1	0 slack 2	Quantity
Iteration 1							
	cj-zj	6.	8.	4.	0.	0.	
0	slack 1	12.	24.	18.	1.	0.	16.
0	slack 2	6.	3.	2.	0.	1.	22.
Iteration 2							
	cj-zj	2.	0.	-2.	-0.3333	0.	
8	X2	0.5	1.	0.75	0.0417	0.	0.6667
0	slack 2	4.5	0.	-0.25	-0.125	1.	20.
Iteration 3							
	cj-zj	0.	-4.	-5.	-0.5	0.	
6	X1	1.	2.	1.5	0.0833	0.	1.3333
0	slack 2	0.	-9.	-7.	-0.5	1.	14.

RANGKUMAN

Teori dualitas membahas tentang suatu masalah (dual) yang berhubungan dengan masalah awal (primal) dalam hubungan max-min atau min-max. Demikian juga dari sisi solusi optimal akan ditunjukkan bahwa solusi fungsi tujuannya akan bernilai sama untuk masalah primal dan dual. Nilai optimal setiap variabel dapat dilihat dari tabel solusi optimal primal untuk dual maupun sebaliknya.

PUSTAKA

1. Luenberger, D.G. and Y. Ye. 2016. *Linear and Nonlinear Programming, 4^{ed}*. Springer Int. Pub. Switzerland.
2. Taha, H.A. 2007. *Operations Research: An Introduction, 8^{ed}*. Prentice Hall, New Jersey.
3. Winston, W.L. 2008. *Operations Research. Applications and Algorithms, 4^{ed}*. Brooks/Cole, New York.

SOAL LATIHAN

1. Buatlah masalah dual dari masalah primal berikut.

$$\begin{aligned} \text{Min } Z &= 6x_1 + 3x_2 \\ \text{s.t} \quad &6x_1 - 3x_2 \geq 2 \\ &3x_1 + 4x_2 \geq 5 \\ &x_1, x_2 \geq 0. \end{aligned}$$

2. Buatlah masalah dual dari masalah primal berikut.

$$\begin{aligned} \text{Max } Z &= 5x_1 + 2x_2 \\ \text{s.t} \quad &x_1 + x_2 \leq 2 \\ &2x_1 + 3x_2 \leq 5 \\ &x_1, x_2 \geq 0. \end{aligned}$$

3. Buatlah masalah dual dari masalah primal berikut.

$$\begin{aligned} \text{Max } Z &= 5x_1 + 6x_2 \\ \text{s.t} \quad & x_1 + 2x_2 = 2 \\ & -x_1 + 5x_2 \geq 3 \\ & x_1, x_2 \geq 0. \end{aligned}$$

4. Buatlah masalah dual dari masalah primal berikut.

$$\begin{aligned} \text{Min } Z &= 5x_1 + 6x_2 + x_3 \\ \text{s.t} \quad & 2x_1 + 3x_2 + 2x_3 \geq 5 \\ & 5x_1 - x_2 + 6x_3 \geq 4 \\ & x_1, x_2, x_3 \geq 0. \end{aligned}$$

5. Buatlah masalah dual dari masalah primal berikut.

$$\begin{aligned} \text{Max } Z &= 3x_1 + 2x_2 + 5x_3 \\ \text{s.t} \quad & x_1 + 2x_2 + x_3 \leq 500 \\ & 3x_1 + 2x_3 \leq 460 \\ & x_1 + 4x_2 \leq 420 \\ & x_1, x_2, x_3 \geq 0. \end{aligned}$$

6. Tentukan solusi optimal masalah primal soal no.1 berdasar tabel solusi optimal masalah dualnya.
7. Tentukan solusi optimal masalah dual soal no.2 berdasar tabel solusi optimal masalah primalnya.
8. Tentukan masing-masing solusi optimal masalah primal dan dual soal no.3 dan tunjukkan nilai-nilai yang saling berhubungan untuk solusi optimal masing-masing.
9. Tentukan solusi optimal masalah primal soal no.4 berdasar tabel solusi optimal masalah dualnya.
10. Tentukan solusi optimal masalah dual soal no.5 berdasar tabel solusi optimal masalah primalnya.

Analisis Sensitivitas

5

Menganalisa solusi LP jika terdapat perubahan pada “parameter” masalah: c_j , b_i (tidak bisa dikontrol). Jika c_j, b_i berubah, apakah bisa mendapatkan solusi optimal ?

Analisis Sensitivitas :

Perubahan diskret parameter untuk melihat besar perubahan yang dapat ditolerir sebelum solusi optimal model LP mulai kehilangan optimalitasnya.

Contoh 5.1

Jika

- Produksi barang I (x_1)
- Produksi barang II (x_2)
- Produksi barang III (x_3)

Dengan model LP :

$$\begin{aligned} \text{Max } Z &= 2x_1 + 3x_2 + x_3 \\ \text{s.t } &1/3x_1 + 1/3x_2 + 1/3x_3 \leq 1 \quad (\text{kendala buruh}) \\ &1/3x_1 + 4/3x_2 + 7/3x_3 \leq 3 \quad (\text{kendala bahan baku}) \\ &x_1, x_2, x_3 \geq 0 \end{aligned}$$

Penyelesaian :

Dengan penambahan *slack variable*, mis : x_4, x_5 maka :

$$\begin{aligned} \text{Max } Z &= 2x_1 + 3x_2 + x_3 \\ \text{s.t } &1/3x_1 + 1/3x_2 + 1/3x_3 + x_4 = 1 \\ &1/3x_1 + 4/3x_2 + 7/3x_3 + x_5 = 3 \\ &x_1, \dots, x_5 \geq 0 \end{aligned}$$

Table Simpleks awal

	x_1	x_2	x_3	x_4	x_5	rhs
Z	-2	-3	-1	0	0	0
x_4	1/3	1/3	1/3	1	0	1
x_5	1/3	4/3	7/3	0	1	3

Table Simpleks Iterasi 1

	x_1	x_2	x_3	x_4	x_5	rhs
Z	-5/4	0	12/4	0	9/4	27/4
x_4	1/4	0	-1/4	1	-1/4	1/4
x_2	1/4	1	7/4	0	3/4	9/4

Table Simpleks Iterasi 2

	x_1	x_2	x_3	x_4	x_5	rhs
Z	0	0	3	5	1	8
x_1	1	0	-1	4	-1	1
x_2	0	1	2	-1	1	2

Solusi Optimal : $Z = 8$

$$x_1=1$$

$$x_2=2$$

$$x_3=0.$$

5.1. PERUBAHAN KOEFISIEN VARIABLE NON BASIS PADA FUNGSI TUJUAN

Pada masalah contoh 5.1, variabel x_3 adalah non basis pada solusi optimal. Jika c_3 berubah, bagaimana solusi optimalnya ?.

Akan dicari interval nilai c_3 yang membuat kondisi optimal tidak berubah. Jika diluar interval tersebut artinya akan diperoleh solusi optimal yang lain.

Penentuan c_3 yang baru menggunakan rumus :

$$c_j^* = C_B \cdot v_j - c_j \quad (\text{untuk variabel non basis})$$

Ket: c_B = vector koefisien variabel basis solusi optimal pada Z awal
 v_j = vector kolom dibawah var- j pada solusi optimal
 c_j = koefisien var- j yang akan berubah

Jika : $c_j^* \geq 0$, maka solusi tetap optimal (untuk masalah maksimisasi)
 $c_j^* < 0$, maka solusi tidak optimal.

Contoh 5.2

Tentukan selang perubahan koefisien variabel x_3 pada Z yang tetap mempertahankan kondisi optimal pada contoh 5.1.

Penyelesaian

$$c_3^* = [2 \quad 3] \begin{bmatrix} -1 \\ 2 \end{bmatrix} - c_3$$

$$= -2 + 6 - c_3$$

$$= 4 - c_3$$

maka $4 - c_3 \geq 0$

$$c_3 \leq 4 \quad (\text{solusi tetap optimal})$$

Jika perubahan c_3 , mis : $c_3 = 2 \rightarrow$ solusi tetap optimal
 $c_3 = 3 \rightarrow$ solusi tetap optimal
 $c_3 = 6 \rightarrow$ diluar selang $c_3 \leq 4$

maka solusi tidak optimal lagi

Untuk $c_3 = 6$ maka $c_3^* = 4 - 6 = -2$, harus dilakukan iterasi lagi dari table optimal awal tadi.

Untuk iterasi selanjutnya :

	x_1	x_2	x_3	x_4	x_5	rhs
Z	0	0	-2	5	1	8
x_1	1	0	-1	4	-1	1
x_2	0	1	2	-1	1	2

Dan iterasi lagi

	x_1	x_2	x_3	x_4	x_5	rhs
Z	0	1	0	4	2	10
x_1	1	1/2	0	7/2	-1/2	2
x_3	0	1/2	1	-1/2	1/2	1

Untuk c_3 yang berubah ($c_3=6$)

Solusi Optimalnya : $Z = 10, x_1 = 2, x_2 = 0, x_3 = 1.$

Atau dianggap sebagai masalah baru dengan koefisien $c_3 = 6$, seperti bentuk dibawah ini :

$$\begin{aligned} \text{Max } Z &= 2x_1 + 3x_2 + 6x_3 \\ \text{s.t } 1/3x_1 + 1/3x_2 + 1/3x_3 &\leq 1 && \text{(kendala buruh)} \\ 1/3x_1 + 4/3x_2 + 7/3x_3 &\leq 3 && \text{(kendala bahan baku)} \\ x_1, x_2, x_3 &\geq 0 \end{aligned}$$

Tabel Simpleks Awal

	x_1	x_2	x_3	x_4	x_5	rhs
Z	-2	-3	-6	0	0	0
x_4	1/3	1/3	1/3	1	0	1
x_5	1/3	4/3	7/3	0	1	3

Tabel Simpleks Iterasi 1

	x_1	x_2	x_3	x_4	x_5	rhs
Z	-8/1	3/7	0	0	18/7	54/7
x_4	2/7	1/7	0	1	-1/7	4/7
x_5	1/7	4/7	1	0	3/7	9/7

Tabel Simpleks Iterasi 2

	x_1	x_2	x_3	x_4	x_5	rhs
Z	0	1	0	4	2	10
X_4	1	1/2	0	7/2	-1/2	2
x_5	0	1/2	1	-1/2	1/2	1

Solusi Optimalnya :

$$\begin{aligned} Z &= 10 \\ x_1 &= 2 \\ x_2 &= 0 \\ x_3 &= 1. \end{aligned}$$

Sama dengan solusi diatas yang melanjutkan dari solusi optimal masalah awal.

5.2. PERUBAHAN KOEFISIEN VARIABLE BASIS PADA FUNGSI TUJUAN

Pada masalah contoh 5.1 tadi, variabel x_1 adalah basis pada solusi optimal, jika c_1 berubah, bagaimana solusi optimalnya ?

Akan dicari selang nilai c_1 yang tetap mempertahankan kondisi optimalnya (variabel basis dan nilainya) dan Z berubah sesuai perubahan c_1 .

Contoh 5.3

Tentukan selang perubahan koefisien variabel x_1 pada Z yang tetap mempertahankan kondisi optimal pada contoh 5.1.

Penyelesaian

$$\begin{aligned} c_j^* &= c_B v_j - c_j \\ c_3^* &= [c_1 \quad 3] \begin{bmatrix} -1 \\ 2 \end{bmatrix} - 1 \\ &= -c_1 + 6 + 1 = -c_1 + 5 \\ c_4^* &= [c_1 \quad 3] \begin{bmatrix} 4 \\ -1 \end{bmatrix} - 0 \\ &= 4c_1 - 3 \\ c_5^* &= [c_1 \quad 3] \begin{bmatrix} -1 \\ 1 \end{bmatrix} - 0 = -c_1 + 3. \end{aligned}$$

Kondisi optimal dipertahankan jika : $C_j^* \geq 0$

$$-c_1 + 5 \geq 0 \quad \rightarrow c_1 \leq 5$$

$$4c_1 - 3 \geq 0 \quad \rightarrow c_1 \geq 3/4$$

$$-c_1 + 3 \geq 0 \quad \rightarrow c_1 \leq 3$$

maka : $3/4 \leq c_1 \leq 3$

Misal : $c_1 = 1$ (dalam $3/4 \leq c_1 \leq 3$)

Maka, bentuk optimalnya tetap : $x_1 = 1, x_2 = 2, x_3 = 0$

$$\begin{aligned} Z &= x_1 + 3x_2 + x_3 \\ &= 1 + 3 \cdot 2 + 0 \\ &= 1 + 6 = 7 \end{aligned}$$

Misal: $c_1 = 4$ (diluar $3/4 \leq c_1 \leq 3$)

Solusinya tidak optimal lagi :

$$c_3^* = -4 + 5 = 1 \geq 0$$

$$c_4^* = 4 \cdot 4 - 3 = 13 \geq 0$$

$$c_5^* = -4 + 3 = -1 < 0$$

(ada iterasi lanjutan)

Contoh 5.4

Jika masalah LP adalah sebagai berikut :

$$\begin{aligned} \text{Max } Z &= 2x_1 + 2x_2 + 3x_3 \\ \text{s.t } &2x_1 + x_2 + x_3 \leq 2 \\ &x_1 + x_2 + 3x_3 \leq 9 \\ &x_1, x_2, x_3 \geq 0 \end{aligned}$$

Tentukan selang perubahan nilai berikut yang tetap mempertahankan kondisi optimal:

- a. Koefisien pengali dengan x_1 pada Z (c_1)
- b. Koefisien pengali dengan x_2 pada Z (c_2)
- c. Koefisien pengali dengan x_3 pada Z (c_3)

Penyelesaian

Jika ditambahkan *slack variable* : x_4, x_5 pada bentuk kendala maka,

Table Simpleks Awal

	x_1	x_2	x_3	x_4	x_5	rhs
Z	-2	-2	-3	0	0	0
x_4	2	1	1	1	0	2
x_5	1	1	3	0	1	9

Table Simpleks Solusi Optimal

	x_1	x_2	x_3	x_4	x_5	rhs
Z	4	1	0	3	0	6
x_3	2	1	1	1	0	2
x_5	-5	-2	0	-3	1	3

Solusi Optimal : $Z = 6, x_1 = x_2 = 0, x_3 = 2$

$$a. \quad c_1^* = [3 \quad 0] \begin{bmatrix} 2 \\ -5 \end{bmatrix} - c_1 = 6 - c_1$$

maka $6 - c_1 \geq 0$ atau $c_1 \leq 6$

$$b. \quad c_2^* = [3 \quad 0] \begin{bmatrix} 1 \\ -2 \end{bmatrix} - c_2 = 3 - c_2$$

maka $3 - c_2 \geq 0$ atau $c_2 \leq 3$

$$c. \quad c_1^* = [c_3 \quad 0] \begin{bmatrix} 2 \\ -5 \end{bmatrix} - 2 = 2c_3 - 2$$

$$c_2^* = [c_3 \quad 0] \begin{bmatrix} 1 \\ -2 \end{bmatrix} - 2 = c_3 - 2$$

$$c_4^* = [c_3 \quad 0] \begin{bmatrix} 1 \\ -3 \end{bmatrix} - 0 = c_3$$

Bentuk optimal dipertahankan jika $c_j^* \geq 0$

$$2c_3 - 2 \geq 0 \rightarrow c_3 \geq 1$$

$$c_3 - 2 \geq 0 \rightarrow c_3 \geq 2$$

$$c_3 \geq 0$$

maka kesimpulannya $c_3 \geq 2$.

5.3. PERUBAHAN KONSTAN SISI KANAN KENDALA

Pada masalah contoh 5.1 tadi, jika b_1 (jumlah buruh yang tersedia) berubah, bagaimana solusi optimalnya ?

Misalnya terjadi tambahan 1 unit buruh ($b_1 = 2$)

Maka vector kolom konstan sisi kanan :

$$\begin{bmatrix} 1 \\ 3 \end{bmatrix} \xrightarrow{\text{menjadi}} \begin{bmatrix} 2 \\ 3 \end{bmatrix}$$

Akan digunakan analisis dengan matriks untuk menyelesaikan masalah ini.

Analisis Matriks

Setiap kolom pada table akhir (optimal) dapat diperoleh dengan mengalikan invers kolom basis dengan kolom yang bersangkutan.

Contoh 5.5

Tentukan selang perubahan konstan sisi kanan kendala pertama dan kedua (b_1 dan b_2 mempertahankan kondisi optimal pada contoh 5.1.

Penyelesaian

Tabel Simpleks Awal

	x_1	x_2	x_3	x_4	x_5	Rhs
Z	-2	-3	-1	0	0	0
x_4	1/3	1/3	1/3	1	0	1
x_5	1/3	4/3	7/3	0	1	3

Tabel Solusi Optimal

	x_1	x_2	x_3	x_4	x_5	rhs
Z	0	0	3	5	1	8
x_1	1	0	-1	4	-1	1
x_2	0	1	2	-1	1	2

Variable Basis x_1 dan x_2 , maka matriks basis $B = \begin{bmatrix} 1/3 & 1/3 \\ 1/3 & 4/3 \end{bmatrix}$

Karena variable basis awal adalah x_4 dan x_5 , maka kolom yang berhubungan dengan matriks basis B disebut **Invers Matriks Basis** (B^{-1})

$$B^{-1} = \begin{bmatrix} 4 & -1 \\ -1 & 1 \end{bmatrix}$$

- Untuk sisi kanan awal

$$\begin{bmatrix} 4 & -1 \\ -1 & 1 \end{bmatrix} \begin{bmatrix} 1 \\ 3 \end{bmatrix} = \begin{bmatrix} 4-3 \\ -1+3 \end{bmatrix} = \begin{bmatrix} 1 \\ 2 \end{bmatrix}$$

- Untuk sisi kanan (setelah terjadi perubahan)

$$\begin{bmatrix} 4 & -1 \\ -1 & 1 \end{bmatrix} \begin{bmatrix} 2 \\ 3 \end{bmatrix} = \begin{bmatrix} 8-3 \\ -2+3 \end{bmatrix} = \begin{bmatrix} 5 \\ 1 \end{bmatrix}$$

Solusinya :

$$\begin{aligned} x_1 &= 5 \\ x_2 &= 1 \\ x_3 &= 0 \\ Z &= 2x_1 + 3x_2 + x_3 \\ &= 2 \cdot 5 + 3 \cdot 1 + 0 \\ &= 10 + 3 = 13 \end{aligned}$$

Pertanyaan yang muncul :

Berapa besar selang nilai perubahan b_1 yang tetap mempertahankan kondisi optimal (variable basisnya tetap).

Misalkan terjadi perubahan pada b_1

vektor sisi kanan setelah perubahan b_1 :

$$b_0 = \begin{bmatrix} b_1 \\ 3 \end{bmatrix}$$

Perubahan variable basis (b^*)

$$b_1^* = B^{-1} \cdot b_0 \rightarrow \text{Kondisi optimalnya tetap, jika } b_j^* \geq 0.$$

Jika ada var. basis bernilai (-) maka solusi tidak fisibel.

Jadi :

$$b_1^* = \begin{bmatrix} 4 & -1 \\ -1 & 1 \end{bmatrix} \begin{bmatrix} b_1 \\ 3 \end{bmatrix} = \begin{bmatrix} 4b_1 - 3 \\ -b_1 + 3 \end{bmatrix}$$

Agar kondisi optimal tetap, maka :

$$\begin{array}{l} 4b_1 - 3 \geq 0 \quad \rightarrow b_1 \geq 3/4 \\ -b_1 + 3 \geq 0 \quad \rightarrow b_1 \leq 3 \end{array} \quad \left. \vphantom{\begin{array}{l} 4b_1 - 3 \geq 0 \\ -b_1 + 3 \geq 0 \end{array}} \right\} \quad 3/4 \leq b_1 \leq 3$$

Dengan solusi :

$$\begin{aligned} x_1 &= 4b_1 - 3 \\ x_2 &= -b_1 + 3 \\ x_3 &= 0 \\ Z &= 2(4b_1 - 3) + 3(-b_1 + 3) + 0 \\ &= 8b_1 - 6 + 9 - 3b_1 = 5b_1 + 3 \end{aligned}$$

Misal perubahan b_1 :

1.) $b_1 = 2$ (dalam selang $3/4 \leq b_1 \leq 3$), solusinya :

$$\begin{aligned} x_1 &= 4b_1 - 3 = 4 \cdot 2 - 3 = 8 - 3 = 5 \\ x_2 &= -b_1 + 3 = -2 + 3 = 1 \\ Z &= 2 \cdot 5 + 3 \cdot 1 + 0 = 13 \end{aligned}$$

2.) $b_1 = 4$ (diluar selang $3/4 \leq b_1 \leq 3$)

$$\begin{aligned} x_1 &= 4b_1 - 3 = 4 \cdot 4 - 3 = 16 - 3 = 13 \\ x_2 &= -b_1 + 3 = -4 + 3 = -1 \rightarrow \text{Solusinya tidak fisibel.} \end{aligned}$$

Pertanyaan :

Berapa besar selang nilai perubahan b_2 yang tetap mempertahankan kondisi optimal (variable basisnya tetap)

Misalkan terjadi perubahan pada b_2

vector sisi kanan setelah perubahan b_2 :

$$b_0 = \begin{bmatrix} 1 \\ b_2 \end{bmatrix}$$

Jadi :

$$b_2^* = \begin{bmatrix} 4 & -1 \\ -1 & 1 \end{bmatrix} \begin{bmatrix} 1 \\ b_2 \end{bmatrix} = \begin{bmatrix} 4 - b_2 \\ -1 + b_2 \end{bmatrix}$$

Agar kondisi optimal tetap, maka :

$$\left. \begin{array}{l} 4 - b_2 \geq 0 \quad \rightarrow b_2 \leq 4 \\ -1 + b_2 \geq 0 \quad \rightarrow b_2 \geq 1 \end{array} \right\} 1 \leq b_2 \leq 4$$

Dengan solusi :

$$\begin{aligned} x_1 &= 4 - b_2 \\ x_2 &= -1 + b_2 \\ x_3 &= 0 \\ Z &= 2(4 - b_2) + 3(-1 + b_2) + 0 \\ &= 8 - 2b_2 - 3 + 3b_2 = b_2 + 5 \end{aligned}$$

Misal perubahan b_2 :

1.) $b_2 = 2$ (dalam selang $1 \leq b_2 \leq 4$), solusinya :

$$\begin{aligned} x_1 &= 4 - 2 = 2 \\ x_2 &= -1 + 2 = 1 \\ Z &= 2 \cdot 2 + 3 \cdot 1 + 0 = 4 + 3 = 7 \end{aligned}$$

2.) $b_2 = 5$ (diluar selang $1 \leq b_2 \leq 4$)

$$x_1 = 4 - 5 = -1 \rightarrow \text{Solusinya tidak fisibel.}$$

c_j non basis berubah	→ solusi optimalnya tetap
c_j basis berubah	→ kondisi optimal tetap
	- var basis dan nilainya tetap
	- Z berubah karena perubahan c_j
b_i berubah	→ kondisi optimal tetap
	- var basis tetap tapi nilai var basis berubah karena perubahan b_i
	- Z berubah krn perubahan nilai var basis

Contoh 5.6

Jika masalah LP adalah sebagai berikut :

$$\begin{aligned} \text{Max } Z &= 4x_1 + 6x_2 + x_3 \\ \text{s.t } &1/6x_1 + 1/6x_2 + 1/6x_3 \leq 2 \\ &1/6x_1 + 4/6x_2 + 7/6x_3 \leq 6 \\ &x_1, x_2, x_3 \geq 0 \end{aligned}$$

Tentukan selang perubahan nilai berikut yang tetap mempertahankan kondisi optimal:

- a. Koefisien pengali dengan x_1 pada $Z (c_1)$
- b. Koefisien pengali dengan x_3 pada $Z (c_3)$
- c. Konstan sisi kanan kendala pertama (b_1)
- d. Konstan sisi kanan kendala pertama (b_2)

Penyelesaian

Jika ditambahkan *slack variable* : x_4, x_5 pada bentuk kendala maka, Tabel simpleks awal

	x_1	x_2	x_3	x_4	x_5	rhs
Z	-4	-6	-1	0	0	0
x_4	1/6	1/6	1/6	1	0	2
x_5	1/6	4/6	7/3	0	1	6

Tabel simpleks solusi optimal

	x_1	x_2	x_3	x_4	x_5	rhs
Z	0	0	7	20	4	64
x_1	1	0	-1	8	-2	4
x_2	0	1	2	-2	2	8

Solusi optimal : $Z = 64, x_1 = 4, x_2 = 8, x_3 = 0$

$$\begin{aligned} \text{a. } c_3^* &= (c_1 \quad 6) \begin{pmatrix} -1 \\ 2 \end{pmatrix} - 1 = -c_1 + 12 - 1 = -c_1 + 11 \\ c_4^* &= (c_1 \quad 6) \begin{pmatrix} 8 \\ 2 \end{pmatrix} - 0 = 8c_1 - 12 \end{aligned}$$

$$c_5^* = (c_1 \quad 6) \begin{pmatrix} -2 \\ 2 \end{pmatrix} - 0 = -2c_1 + 12$$

Kondisi optimal dipertahankan jika :

$$c_1^* \geq 0$$

$$-c_1 + 11 \geq 0 \rightarrow c_1 \leq 11$$

$$8c_1 - 12 \geq 0 \rightarrow c_1 \geq 3/2$$

$$-2c_1 + 12 \geq 0 \rightarrow c_1 \leq 6$$

maka $3/2 \leq c_1 \leq 6$

b.
$$c_3^* = (4 \quad 6) \begin{pmatrix} -1 \\ 2 \end{pmatrix} - c_3 = -4 + 12 - c_3 = 8 - c_3$$

agar kondisi optimal dipertahankan maka

$$8 - c_3 \geq 0 \text{ atau}$$

$$c_3 \leq 8.$$

c.
$$\begin{pmatrix} 8 & -2 \\ -2 & 2 \end{pmatrix} \begin{pmatrix} b_1 \\ 6 \end{pmatrix} = \begin{pmatrix} 8b_1 - 12 \\ -2b_1 + 12 \end{pmatrix}$$

agar kondisi optimal tetap, maka :

$$8b_1 - 12 \geq 0 \rightarrow b_1 \geq 3/2$$

$$-2b_1 + 12 \geq 0 \rightarrow b_1 \leq 6$$

$$\text{atau } 3/2 \leq b_1 \leq 6$$

d.
$$\begin{pmatrix} 8 & -2 \\ -2 & 2 \end{pmatrix} \begin{pmatrix} 2 \\ b_2 \end{pmatrix} = \begin{pmatrix} 16 - 2b_2 \\ -4 + 2b_2 \end{pmatrix}$$

agar kondisi optimal tetap, maka :

$$16 - 2b_2 \geq 0 \rightarrow b_2 \leq 8$$

$$-4 + 2b_2 \geq 0 \rightarrow b_2 \geq 2$$

$$\text{atau } 2 \leq b_2 \leq 8.$$

5.4. ANALISIS SENSITIVITAS DENGAN *SOFTWARE QM for Windows*

Pada solusi optimal dengan *QM Win* perhatikan pada *windows* “*Ranging*” yang akan menunjukkan solusi untuk analisis sensitivitas.

Contoh 5.7

Jika masalah LP adalah :

$$\begin{aligned} \text{Max } Z &= 4x_1 + 6x_2 + x_3 \\ \text{s.t } &1/6x_1 + 1/6x_2 + 1/6x_3 \leq 2 \\ &1/6x_1 + 4/6x_2 + 7/6x_3 \leq 6 \\ &x_1, x_2, x_3 \geq 0 \end{aligned}$$

Tentukan selang perubahan koefisien tiap variabel keputusan pada *Z* dan konstan sisi kanan tiap kendala yang mempertahankan kondisi optimal.

Penyelesaian

Linear Programming Results						
<untitled> solution						
	X1	X2	X3		RHS	Dual
Maximize	4.	6.	1.			
Constraint 1	0.1667	0.1667	0.1667	<=	2.	20.
Constraint 2	0.1667	0.6667	1.1667	<=	6.	4.
Solution->	4.	8.	0.		64.	

Solution list		
Variable	Status	Value
X1	Basic	4.
X2	Basic	8.
X3	NONBasic	0.
slack 1	NONBasic	0.
slack 2	NONBasic	0.
Optimal Value (Z)		64.

Iterations							
<untitled> solution							
Cj	Basic Variables	4 X1	6 X2	1 X3	0 slack 1	0 slack 2	Quantity
Iteration 1							
	cj-zj	4.	6.	1.	0.	0.	
0	slack 1	0.1667	0.1667	0.1667	1.	0.	2.
0	slack 2	0.1667	0.6667	1.1667	0.	1.	6.
Iteration 2							
	cj-zj	2.5	0.	-9.5	0.	-9.	
0	slack 1	0.125	0.	-0.125	1.	-0.25	0.5
6	X2	0.25	1.	1.75	0.	1.5	9.
Iteration 3							
	cj-zj	0.	0.	-7.	-20.	-4.	
4	X1	1.	0.	-1.	8.	-2.	4.
6	X2	0.	1.	2.	-2.	2.	8.

Ranging					
<untitled> solution					
Variable	Value	Reduced	Original Val	Lower Bound	Upper Bound
X1	4.	0.	4.	1.5	6.
X2	8.	0.	6.	4.	16.
X3	0.	7.	1.	-Infinity	8.
Constraint	Dual Value	Slack/Surplus	Original Val	Lower Bound	Upper Bound
Constraint 1	20.	0.	2.	1.5	6.
Constraint 2	4.	0.	6.	2.	8.

Dari hasil dengan *QM Win* pada *Ranging* ditunjukkan bahwa perubahan parameter yang mempertahankan kondisi optimal adalah:

1. $\frac{3}{2} \leq c_1 \leq 6$
2. $4 \leq c_2 \leq 16$
3. $c_3 \leq 8$
4. $\frac{3}{2} \leq b_1 \leq 6$
5. $2 \leq b_2 \leq 8.$

RANGKUMAN

Analisis sensitivitas adalah suatu analisis setelah diperoleh solusi optimalnya (*post optimality analysis*). Ini dilakukan agar solusi optimal yang akan terjadi akibat perubahan pada beberapa parameter tidak lagi dianalisa dari awal. Parameter yang dianalisa perubahannya adalah koefisien variabel keputusan (c_j) pada fungsi tujuan dan konstanta sisi kanan dari kendala (b_i). Pada koefisien variabel keputusan pada fungsi tujuan, dibedakan antara variabel yang merupakan variabel basis dan non basis pada solusi optimalnya.

Analisa yang dilakukan adalah memperhatikan selang dimana perubahan parameter tidak mempengaruhi kondisi optimal yang telah ada. Kondisi optimal yang dimaksud adalah solusi optimalnya tetap untuk perubahan c_j nonbasis, variabel basis dan nilainya tetap tapi Z berubah untuk perubahan c_j basis, dan variabel basis tetap dengan nilainya yang berubah dan Z yang berubah untuk perubahan b_i .

PUSTAKA

1. Ravindran, A.R. 2008. *Operations Research and Management Science Handbook*. CRC Press Taylor & Francis Group.
2. Taha, H.A. 2007. *Operations Research: An Introduction, 8^{ed}*. Prentice Hall, New Jersey.
3. Winston, W.L. 2008. *Operations Research. Applications and Algorithms, 4^{ed}*. Brooks/Cole, New York.

SOAL LATIHAN

1. Jika masalah LP adalah sebagai berikut.

$$\begin{aligned} \text{Max} \quad & Z = 2x_1 - 2x_2 + 3x_3 \\ \text{s.t.} \quad & -x_1 + x_2 + x_3 \leq 4 \\ & 2x_1 - x_2 + x_3 \leq 2 \\ & x_1 + x_2 + 3x_3 \leq 12 \\ & x_1, x_2, x_3 \geq 0 \end{aligned}$$

Tentukan selang perubahan koefisien variabel x_1 (c_1) pada Z yang mempertahankan kondisi optimalnya. Bagaimana solusi optimalnya jika nilai tersebut berubah menjadi 5.

2. Berdasar masalah pada soal no.1, tentukan selang perubahan koefisien variabel x_2 (c_2) pada Z yang mempertahankan kondisi optimalnya. Bagaimana solusi optimalnya jika nilai tersebut berubah menjadi 1.
3. Berdasar masalah pada soal no.1, tentukan selang perubahan koefisien variabel x_3 (c_3) pada Z yang mempertahankan kondisi optimalnya. Bagaimana solusi optimalnya jika nilai tersebut berubah menjadi 2.
4. Berdasar masalah pada soal no.1, tentukan selang perubahan konstan sisi kanan kendala pertama (b_1) pada Z yang mempertahankan kondisi optimalnya. Bagaimana solusi optimalnya jika nilai tersebut berubah menjadi 6.
5. Berdasar masalah pada soal no.1, tentukan selang perubahan konstan sisi kanan kendala kedua (b_2) pada Z yang mempertahankan kondisi optimalnya. Bagaimana solusi optimalnya jika nilai tersebut berubah menjadi 8.
6. Berdasar masalah pada soal no.1, tentukan selang perubahan konstan sisi kanan kendala ketiga (b_3) pada Z yang mempertahankan kondisi optimalnya. Bagaimana solusi optimalnya jika nilai tersebut berubah menjadi 5.

7. Jika masalah LP adalah sebagai berikut.

$$\begin{aligned} \text{Max} \quad & Z = 5x_1 + 2x_2 + 3x_3 \\ \text{s.t.} \quad & x_1 + 5x_2 + 2x_3 = 30 \\ & x_1 - 5x_2 - 6x_3 \leq 40 \\ & x_1, x_2, x_3 \geq 0 \end{aligned}$$

Tentukan selang perubahan koefisien variabel x_1 (c_1) pada Z yang mempertahankan kondisi optimalnya. Bagaimana solusi optimalnya jika nilai tersebut berubah menjadi -2.

8. Berdasar masalah pada soal no.1, tentukan selang perubahan koefisien variabel x_2 (c_2) pada Z yang mempertahankan kondisi optimalnya. Bagaimana solusi optimalnya jika nilai tersebut berubah menjadi 20.
9. Berdasar masalah pada soal no.1, tentukan selang perubahan koefisien variabel x_3 (c_3) pada Z yang mempertahankan kondisi optimalnya. Bagaimana solusi optimalnya jika nilai tersebut berubah menjadi -1.
10. Berdasar masalah pada soal no.1, tentukan selang perubahan konstan sisi kanan kendala $\begin{pmatrix} b_1 \\ b_2 \end{pmatrix}$ pada Z yang mempertahankan kondisi optimalnya. Bagaimana solusi optimalnya jika nilai tersebut berubah menjadi $\begin{pmatrix} 80 \\ 50 \end{pmatrix}$.

6.1. FORMULASI PROGRAM LINEAR DARI MODEL TRANSPORTASI

Model Transportasi adalah suatu model khusus dari model *Linear Programming* dalam bentuk minimisasi biaya. Model Transportasi yang akan dibahas adalah tentang distribusi suatu produk tunggal dari beberapa sumber dengan penawaran terbatas ke beberapa tujuan dengan permintaan tertentu dan dengan biaya transportasi minimum.

Asumsi Dasar : Biaya transportasi pada suatu rute tertentu proporsional dengan banyaknya unit produk yang dikirim.

Gambaran Masalah :

Jika terdapat : 3 Pabrik (sumber)

3 Pasar (tujuan)

Diketahui : Biaya transportasi per unit dari masing-masing pabrik ke masing-masing pasar.

Masalah : Menentukan kombinasi jumlah produk yang harus dikirim dari masing-masing pabrik ke masing-masing pasar dengan tujuan meminimumkan biaya transportasi.

Kendala : Permintaan tiap pasar harus tepat dipenuhi penawaran tiap pabrik harus habis didistribusi.

Misalnya :

c_{ij} = Biaya transportasi per unit produk dari sumber i ke tujuan j .

x_{ij} = Jumlah produk yang dikirim dari sumber i ke tujuan j .

S_i = Kapasitas produksi sumber i .

D_j = Jumlah permintaan tujuan j .

Supply	Sumber (Pabrik)	Jlh Produk x_{ij}	Tujuan (Pasar)	Demand
S_1	1		1	D_1
S_2	2		2	D_2
S_3	3		3	D_3

Masalahnya menjadi :

$$\text{Min } Z = c_{11}x_{11} + c_{12}x_{12} + c_{13}x_{13} + c_{21}x_{21} + c_{22}x_{22} + c_{23}x_{23} + c_{31}x_{31} + c_{32}x_{32} + c_{33}x_{33}$$

$$\text{s.t. } \begin{aligned} x_{11} + x_{12} + x_{13} &= S_1 \\ x_{21} + x_{22} + x_{23} &= S_2 \\ x_{31} + x_{32} + x_{33} &= S_3 \\ \\ x_{11} + x_{21} + x_{31} &= D_1 \\ x_{12} + x_{22} + x_{32} &= D_2 \\ x_{13} + x_{23} + x_{33} &= D_3 \\ x_{11}, \dots, x_{33} &\geq 0 \end{aligned}$$

$\left. \begin{aligned} & \\ & \\ & \end{aligned} \right\} \text{ penawaran}$
 $\left. \begin{aligned} & \\ & \\ & \end{aligned} \right\} \text{ permintaan}$

Jika diperhatikan dari masalah di atas, untuk masalah transportasi dengan 3 sumber dan 3 tujuan akan memberikan 9 variabel keputusan dan 6 bentuk kendala yang akan memberikan 6 tambahan *artificial variable*. Artinya dengan 15 variabel yang diperhatikan, akan terasa rumit untuk diselesaikan dengan metode simpleks.

Oleh karena masalah transportasi dibahas dengan metode khusus dengan menggunakan Tabel Transportasi seperti tabel simpleks awal pada metode simpleks. Kemudian dicari solusi awal fisibel dengan metode yang ada dan selanjutnya berdasarkan solusi awal fisibel tersebut dianalisa solusi optimalnya dengan metode tertentu pula.

Tabel transportasinya berbentuk sebagai berikut :

Ke		Tujuan					Supply	
		1	2	...	<i>j</i>	...		<i>n</i>
Sumber	1	c_{11}	c_{12}	...	c_{1j}	...	c_{1n}	S_1
		x_{11}	x_{12}	...	x_{1j}	...	x_{1n}	
	2	c_{21}	c_{22}	...	c_{2j}	...	c_{2n}	S_2
		x_{21}	x_{22}	...	x_{2j}	...	x_{2n}	
	⋮	⋮	⋮		⋮		⋮	⋮
	<i>i</i>	c_{i1}	c_{i2}	...	c_{ij}	...	c_{in}	S_i
	x_{i1}	x_{i2}	...	x_{ij}	...	x_{in}		
	⋮	⋮		⋮		⋮	⋮	
<i>m</i>	c_{m1}	c_{m2}	...	c_{mj}	...	c_{mn}	S_m	
	x_{m1}	x_{m2}	...	x_{mj}	...	x_{mn}		
Demand	D_1	D_2	...	D_j	...	D_n		

Yang akan dicari : $x_{11}, x_{12}, \dots, x_{mn}$

6.2. SOLUSI AWAL FISIBEL MODEL TRANSPORTASI

6.2.1. Metode *North West Corner*

Langkah-langkah

1. Mulai dari pojok barat laut tabel, alokasikan sebanyak mungkin pada x_{11} , tapi tidak melanggar kendala permintaan & penawaran, $x_{11} = \min \{S_1, D_1\}$.

Keterangan: Menyebabkan permintaan tujuan 1 terpenuhi atau menghabiskan penawaran sumber 1. Atau tidak ada lagi produk

yang dapat dialokasikan ke kolom atau baris yang telah dipenuhi. (Hilangkan baris atau kolom tersebut).

2. Alokasikan sebanyak mungkin ke kotak di dekatnya pada baris/kolom yang tidak dihilangkan. Jika baris dan kolom telah dihilangkan, pindah secara diagonal pada kotak berikut.
3. Lanjutkan dengan cara yang sama, sampai semua permintaan dan penawaran terpenuhi.

Contoh 6.1

Suatu perusahaan akan mendistribusikan pupuk dari 3 pabrik ke 3 pasar. Tentukan biaya transportasi dan kombinasi alokasi distribusinya, jika kapasitas *supply* pabrik dan jumlah *demand* pasar, serta biaya transport per unit adalah sebagai berikut:

		Ke			Supply
		Pasar			
Dari		1	2	3	
Pabrik	1	8	5	6	120
	2	15	10	12	80
	3	3	9	10	80
Demand		150	70	60	280

Penyelesaian :

1. Alokasikan sebanyak mungkin dari pabrik 1 ke pasar 1, $x_{11} = \min\{S_1, D_1\} = \min\{120, 150\} = 120$. Artinya pupuk di pabrik 1 sudah habis didistribusikan, $S_1 = 0$, tidak bisa lagi mengirim dari pabrik 1 (hilangkan baris 1). Sisa permintaan di pasar 1, $D_1 = 150 - 120 = 30$.

		Ke			Supply
		Pasar			
Dari		1	2	3	
Pabrik	1	8 120	5	6	0{120}
	2	15	10	12	80
	3	3	9	10	80
Demand		30{150}	70	60	280

2. Alokasikan sebanyak mungkin dari pabrik 2 ke pasar 1, $x_{21} = \min\{S_2, D_1\} = \min\{80, 30\} = 30$. Artinya permintaan dari pasar 1 sudah terpenuhi, $D_1 = 0$, tidak bisa lagi mengirim ke pasar 1 (hilangkan kolom 1). Sisa pupuk di pabrik 2, $S_1 = 80 - 30 = 50$.

Dari		Ke			Supply
		Pasar			
		1	2	3	
Pabrik	1	8 120	5	6	0{120}
	2	15 30	10	12	50{80}
	3	3	9	10	80
Demand		0{150}	70	60	280

3. Alokasikan sebanyak mungkin dari pabrik 2 ke pasar 2, $x_{22} = \min\{S_2, D_2\} = \min\{50, 70\} = 50$. Artinya pupuk di pabrik 2 sudah habis didistribusikan, $S_2 = 0$, tidak bisa lagi mengirim dari pabrik 2 (hilangkan baris 2). Sisa permintaan di pasar 2, $D_2 = 70 - 50 = 20$.

Dari		Ke			Supply
		Pasar			
		1	2	3	
Pabrik	1	8 120	5	6	0{120}
	2	15 30	10 50	12	0{80}
	3	3	9	10	80
Demand		0{150}	20{70}	60	280

4. Alokasikan sebanyak mungkin dari pabrik 3 ke pasar 2, $x_{32} = \min\{S_3, D_2\} = \min\{80, 20\} = 20$. Artinya permintaan dari pasar 2 sudah terpenuhi, $D_2 = 0$, tidak bisa lagi mengirim ke pasar 2 (hilangkan kolom 2). Sisa pupuk di pabrik 3, $S_3 = 80 - 20 = 60$.

Dari		Ke			Supply
		1	2	3	
Pabrik	1	8 120	5 -----	6 -----	0{120}
	2	15 30	10 50	12 -----	0{80}
	3	3 	9 20	10 	60{80}
Demand		0{150}	00{70}	60	280

5. Alokasi terakhir dari pabrik 3 ke pasar 3 dengan jumlah penawaran dan permintaan sama (setimbang), $x_{33} = \min\{S_3, D_3\} = \min\{60, 60\} = 60$. Artinya pupuk di pabrik 3 sudah habis didistribusikan dan permintaan dari pasar 3 sudah terpenuhi. Solusi awal sudah diperoleh.

Dari		Ke			Supply
		1	2	3	
Pabrik	1	8 120	5 -----	6 -----	120
	2	15 30	10 50	12 -----	80
	3	3 	9 20	10 60	80
Demand		150	70	60	280

- Supply dari pabrik 1 ke pasar 1 = $x_{11} = 120$
- Supply dari pabrik 2 ke pasar 1 = $x_{21} = 30$
- Supply dari pabrik 2 ke pasar 2 = $x_{22} = 50$
- Supply dari pabrik 3 ke pasar 2 = $x_{32} = 20$
- Supply dari pabrik 3 ke pasar 3 = $x_{33} = 60$

Dengan biaya transportasi

- $x_{11} = 120$ $120 (8) = 960$
- $x_{21} = 30$ $30 (15) = 450$
- $x_{22} = 50$ $50 (10) = 500$

- $x_{32} = 20$ $20 (9) = 180$
- $x_{33} = 60$ $60 (10) = 600$

Maka total biaya transportasi = 2690

Catatan : $x_{ij} > 0$ \longrightarrow Variabel Basis (Kotak terisi)
 $x_{ij} = 0$ \longrightarrow Variabel Non Basis (Kotak kosong)

Contoh 6.2

Jika Pertamina memiliki 3 daerah penambangan minyak di pulau Jawa yaitu di Cepu, Cilacap, dan Cirebon dengan kapasitas produksi masing-masing sebesar 600.000 galon, 500.000 galon, 800.000 galon setiap harinya. Dari tempat-tempat tersebut, minyak kemudian diangkut ke daerah-daerah pemasaran yang terpusat di Semarang, Jakarta, dan Bandung, dengan daya tampung masing-masing sebanyak 400.000 galon, 800.000 galon, dan 700.000 galon per hari. Ongkos pengangkutan per hari per 100.000 galon adalah :

- Dari Cepu ke Semarang, Jakarta, dan Bandung masing-masing sebesar Rp 120.000, Rp 250.000, dan Rp 50.000.
- Dari Cilacap ke Semarang, Jakarta, dan Bandung masing-masing sebesar Rp 300.000, Rp 100.000, dan Rp 80.000.
- Dari Cirebon ke Semarang, Jakarta, dan Bandung masing-masing sebesar Rp 200.000, Rp 250.000, dan Rp 120.000.

Tentukan solusi awal fisibel dengan metode *north west corner* untuk menentukan biaya transportasi dan kombinasi alokasi distribusinya.

Penyelesaian

Rasio perbandingan angka-angkanya adalah sebagai berikut :

Untuk jumlah galon 1 : 100.000 , karena biaya terhitung per 100.000 galon.

Untuk biaya transportasi 1 : 10.000 , untuk mempermudah penulisan dan perhitungan.

Selanjutnya kita cari solusi fisibel awal dengan menggunakan metode *North West Corner*.

Tabel transportasinya :

		ke			Supply
		Tujuan			
dari		Semarang	Jakarta	Bandung	
		S u m b e r	Cepu	12	
Cilacap	30		10	8	5
Cirebon	20		25	12	8
Demand		4	8	7	19

Dengan menggunakan metode *north west corner*, diperoleh:

		ke			Supply
		Tujuan			
dari		Semarang	Jakarta	Bandung	
		S u m b e r	Cepu	4 12	
Cilacap	- 30		5 10	- 8	5
Cirebon	- 20		1 25	7 12	8
Demand		4	8	7	19

Jadi alokasi dan biaya transportasi :

$$x_{11} = 4, 4(12) = 48$$

$$x_{12} = 2, 2(25) = 50$$

$$x_{22} = 5, 5(10) = 50$$

$$x_{32} = 1, 1(25) = 25$$

$$x_{33} = 7, 7(12) = 84$$

$$257$$

$$\text{Total} = 257 \times 10.000 \text{ (rasio perbandingan)}$$

$$= \text{Rp } 2.570.000$$

6.2.2. Metode *Least-Cost*

Langkah-langkah :

1. Pilih x_{ij} (kotak) dengan c_{ij} terkecil dan alokasikan sebanyak mungkin, $x_{ij} = \min \{ S_i, D_j \}$. Hilangkan baris- i /kolom- j yang telah dipenuhi.
2. Dari x_{ij} (kotak) sisa yang layak, pilih nilai c_{ij} terkecil dan alokasikan sebanyak mungkin.
3. Lakukan proses ini sampai semua permintaan/ penawaran dipenuhi

Contoh 6.3 :

Tentukan biaya transportasi dan kombinasi alokasi distribusinya pada masalah contoh 6.1.

Penyelesaian :

1. Biaya paling murah adalah pabrik 3 ke pasar 1, $c_{31} = 3$. Alokasikan sebanyak mungkin dari pabrik 3 ke pasar 1, $x_{31} = \min\{S_3, D_1\} = \min\{80,150\} = 80$. Artinya pupuk di pabrik 3 sudah habis didistribusikan, $S_3 = 0$, tidak bisa lagi mengirim dari pabrik 1 (hilangkan baris 3). Sisa permintaan di pasar 1, $D_1 = 150 - 80 = 70$.

Dari		Ke			Supply
		1	2	3	
Pabrik	1	8	5	6	120
	2	15	10	12	80
	3	3	9	10	0{80}
Demand		70{150}	70	60	280

2. Biaya paling murah selanjutnya yang mungkin adalah pabrik 1 ke pasar 2, $c_{12} = 5$. Alokasikan sebanyak mungkin dari pabrik 1 ke pasar 2, $x_{12} = \min\{S_1, D_2\} = \min\{120,70\} = 70$. Artinya permintaan

pasar 2 sudah terpenuhi, $D_2 = 0$, tidak bisa lagi mengirim ke pasar 2 (hilangkan kolom 2). Sisa pupuk di pabrik 1, $S_1 = 120 - 70 = 50$.

Dari \ Ke		Pasar			Supply
		1	2	3	
Pabrik	1	8	5	6	50{120}
	2	15	10	12	80
	3	3	9	10	0{80}
Demand		70{150}	0{70}	60	280

3. Biaya paling murah selanjutnya yang mungkin adalah pabrik 1 ke pasar 3, $c_{13} = 6$. Alokasikan sebanyak mungkin dari pabrik 1 ke pasar 3, $x_{13} = \min\{S_1, D_3\} = \min\{50, 60\} = 50$. Artinya pupuk di pabrik 1 sudah habis terdistribusi, $S_1 = 0$, tidak bisa lagi mengirim dari pabrik 1 (hilangkan baris 1). Sisa permintaan di pasar 3, $S_3 = 60 - 50 = 10$.

Dari \ Ke		Pasar			Supply
		1	2	3	
Pabrik	1	8	5	6	0{120}
	2	15	10	12	80
	3	3	9	10	0{80}
Demand		70{150}	0{70}	10{60}	280

4. Biaya paling murah selanjutnya yang mungkin adalah pabrik 2 ke pasar 3, $c_{23} = 12$. Tidak dipilih pabrik 1 ke pasar 1, $c_{11} = 8$, pabrik 3 ke pasar 2, $c_{32} = 9$, atau pabrik 3 ke pasar 3, $c_{33} = 10$ (walaupun biayanya lebih kecil dari c_{23}) karena ketiganya sudah tidak mungkin lagi (sudah dihilangkan/hapus). Alokasikan sebanyak mungkin dari pabrik 2 ke pasar 3, $x_{23} = \min\{S_2, D_3\} = \min\{80, 10\} = 10$. Artinya permintaan pasar 3 sudah terpenuhi, $D_3 = 0$, tidak bisa lagi mengirim

ke pasar 2 (hilangkan kolom 3). Sisa pupuk di pabrik 2, $S_2 = 120 - 70 = 70$.

Dari		Ke			Supply
		1	2	3	
Pabrik	1	8	5	6	0{120}
			70	50	
	2	15	10	12	70{80}
		10			
3	3	9	10	0{80}	
		80			
Demand		70{150}	0{70}	0{60}	280

5. Alokasi terakhir yang mungkin dari pabrik 2 ke pasar 1 dengan jumlah penawaran dan permintaan sama (setimbang), $x_{21} = \min\{S_2, D_1\} = \min\{70, 70\} = 70$. Artinya pupuk di pabrik 2 sudah habis didistribusikan dan permintaan dari pasar 1 sudah terpenuhi. Solusi awal sudah diperoleh

Dari		Ke			Supply
		1	2	3	
Pabrik	1	8	5	6	120
			70	50	
	2	15	10	12	80
		70	10		
3	3	9	10	80	
		80			
Demand		150	70	60	280

- Supply dari pabrik 1 ke pasar 2 = $x_{12} = 70$
- Supply dari pabrik 1 ke pasar 3 = $x_{13} = 50$
- Supply dari pabrik 2 ke pasar 1 = $x_{21} = 70$
- Supply dari pabrik 2 ke pasar 3 = $x_{23} = 10$
- Supply dari pabrik 3 ke pasar 1 = $x_{31} = 80$

Dengan biaya transportasi

- $x_{12} = 70$ $70 (5) = 350$
- $x_{13} = 50$ $50 (6) = 300$
- $x_{21} = 70$ $70 (15) = 1050$
- $x_{23} = 10$ $10 (12) = 120$
- $x_{31} = 80$ $80 (3) = 240$

Maka total biaya = 2060.

Catatan : Jika ada c_{ij} kembar, pilih pengalokasian secara sembarang.

6.3. SOLUSI OPTIMAL MODEL TRANSPORTASI

Solusi optimal dianalisa berdasarkan atau diawali dengan solusi awal fisibel. Solusi optimal mula-mula dinalisa dengan menekan/menurunkan biaya transportasi unuk satu satuan barang dengan memasukkan variabel nonbasis (kotak kosong) ke dalam solusi dengan tujuan terjadi perbaikan solusi.

6.3.1. Metode *Stepping Stone* (*Stepping Stone Method*)

Beberapa hal yang harus diperhatikan dalam metode *stepping stone* :

- Pemilihan *entering variable*

Pemilihan x_{ij} sebagai *entering variable* memperhatikan C_{ij} yang disebut biaya relatif (*relative cost*) atau perubahan biaya alokasi 1 unit untuk x_{ij} . C_{ij} ditentukan dengan memperhatikan jalur tertutup dalam table transportasi awal fisibel. *Entering variable* (x_{ij}) yang dipilih adalah C_{ij} negatif terbesar.

- Pembuatan Jalur Tertutup (*Closing Path*) yaitu :

1. Arah jalur sembarang
2. Hanya ada satu jalur tertutup untuk setiap variable non basis (kotak kosong).
3. Jalur harus hanya mengikuti kotak berisi (variable basis) kecuali kotak yang dievaluasi.

4. Kotak kosong atau terisi dapat dilewati dalam penyusunan jalur tertutup.
5. Jalur dapat melintasi (perpotongan) dengan dirinya sendiri.
6. Penambahan/pengurangan yang sama besar harus terlihat pada tiap baris atau kolom.

Langkah-langkah dalam Metode *Stepping Stone*:

1. Buat jalur tertutup untuk setiap x_{ij} (non basis) dan tentukan C_{ij} .
2. Jika C_{ij} semuanya non-negatif maka solusi telah optimal. Jika tidak, pilih C_{ij} negative terbesar dan tetapkan x_{ij} sebagai entering variabel.
3. Alokasikan sebanyak mungkin pada $x_{ij} = \min\{c_{ij}\}$ dengan c_{ij} bertanda negatif pada jalur tertutupnya, dan kotak yang lain dengan tidak melanggar permintaan/penawarannya.
4. Kembali ke langkah 1&2.

Contoh 6.4

Tentukan solusi optimal masalah contoh 6.1 berdasarkan solusi awal dengan metode *north west corner*.

Penyelesaian :

Variabel non-basis adalah : x_{12} , x_{13} , x_{23} , dan x_{31} . Buat jalur tertutup pada masing-masing variabel tersebut.

Jalur tertutup pada x_{12} : $x_{12} - x_{22} + x_{21} - x_{11} + x_{12}$

Dari		Ke			Supply (S_i)
		1	2	3	
Pabrik	1	- 8	+ 5	6	120
	2	+ 15	- 10	12	
	3	3	9	10	80
Demand (D_j)		150	70	60	280

$$C_{12} = c_{12} - c_{22} + c_{21} - c_{11}$$

$$= 5 - 10 + 15 - 8$$

$$= 2$$

Jalur tertutup pada x_{13} : $x_{13} - x_{33} + x_{32} - x_{22} + x_{21} - x_{11} + x_{13}$

Dari		Ke	Pasar			Supply (S_i)
			1	2	3	
Pabrik	1	-	8	5	6	120
	2	+	15	10	12	
	3		3	9	10	
Demand (D_j)			150	70	60	280

$$C_{13} = c_{13} - c_{33} + c_{32} - c_{22} + c_{21} - c_{11}$$

$$= 6 - 10 + 9 - 10 + 15 - 8$$

$$= 2$$

Jalur tertutup pada x_{23} : $x_{23} - x_{33} + x_{32} - x_{22} + x_{23}$

Dari		Ke	Pasar			Supply (S_i)
			1	2	3	
Pabrik	1		8	5	6	120
	2		15	10	12	
	3		3	9	10	
Demand (D_j)			150	70	60	280

$$C_{23} = c_{23} - c_{33} + c_{32} - c_{22}$$

$$= 3 - 15 + 10 - 10$$

$$= 1$$

Jalur tertutup pada x_{31} : $x_{31} - x_{21} + x_{22} - x_{32} + x_{31}$

Dari		Ke	Pasar			Supply (S_i)
			1	2	3	
Pabrik	1		8	5	6	120

	2	- 15	+ 10	12	80
		30	50		
	3	+ 3	- 9	10	80
			20	60	
Demand (D_j)		150	70	60	280

$$\begin{aligned}
 C_{31} &= c_{31} - c_{21} + c_{22} - c_{32} \\
 &= 12 - 10 + 9 - 10 \\
 &= -11
 \end{aligned}$$

Variabel Non-Basis	Jalur Tertutup	C_{ij}
x_{12}	$x_{12} - x_{22} + x_{21} - x_{11} + x_{12}$	2
x_{13}	$x_{13} - x_{33} + x_{32} - x_{22} + x_{21} - x_{11} + x_{13}$	2
x_{23}	$x_{23} - x_{33} + x_{32} - x_{22} + x_{23}$	1
x_{31}	$x_{31} - x_{21} + x_{22} - x_{32} + x_{31}$	-11

Karena ada C_{ij} negatif, pilih yang nominal terbesar.

Entering variable adalah x_{31}

Alokasikan sebanyak mungkin pada x_{31}

$$x_{31} = \min \{x_{21}, x_{32}\} = \min \{30, 20\} = 20.$$

sehingga $x_{21} = 30 - 20 = 10$, $x_{22} = 50 + 20 = 70$, dan $x_{32} = 20 - 20 = 0$.

- Catatan:*
- C_{ij} positif berarti penambahan biaya transportasi
 - C_{ij} negatif berarti penurunan biaya transportasi
 - Jika C_{ij} negatif terbesar ada yang sama, pilih sembarang x_{ij} sebagai *entering variable*.

Dari	Ke	Pasar			Supply (S_i)
		1	2	3	
Pabrik	1	8	5	6	120
		20			
	2	15	10	12	80
	10	70			
	3	3	9	10	80
		20		60	

Demand (D_i)	150	70	60	280
------------------	------------	-----------	-----------	------------

Dengan Biaya Transportasi

- $x_{11} = 120$ $120 (8) = 960$
 - $x_{21} = 10$ $10 (15) = 150$
 - $x_{22} = 70$ $70 (10) = 700$
 - $x_{31} = 20$ $20 (3) = 60$
 - $x_{33} = 60$ $60 (10) = 600$
- | | |
|-------|------|
| Total | 2470 |
|-------|------|

Solusi Awal (Pada Metode North-West Corner) = 2690
 Solusi Sekarang = 2470 -
 Pengurangan biaya transportasi 220

Perhatikan kembali variabel non-basisnya, buat jalur tertutup dan hitung C_{ij} -nya

Variabel Non-Basis	Jalur Tertutup	Biaya Relatif (C_{ij})
x_{12}	$x_{12} - x_{22} + x_{21} - x_{11} + x_{12}$	$C_{12} = 5 - 10 + 15 - 8 = 2$
x_{13}	$x_{13} - x_{33} + x_{31} - x_{11} + x_{13}$	$C_{13} = 6 - 10 + 3 - 8 = -9$
x_{23}	$x_{23} - x_{33} + x_{31} - x_{21} + x_{23}$	$C_{23} = 12 - 10 + 3 - 15 = -10$
x_{32}	$x_{32} - x_{31} + x_{21} - x_{22} + x_{32}$	$C_{32} = 9 - 3 + 15 - 10 = 11$

Karena C_{ij} masih ada yang negatif, maka pilih C_{ij} negatif terbesar yaitu $C_{23} = -10$.

Entering Variable adalah x_{23} .

Alokasikan sebanyak mungkin pada x_{23} .

$x_{23} = \min \{x_{21}, x_{33}\} = \min \{10, 60\} = 10$.

sehingga $x_{21} = 10 - 10 = 0$, $x_{31} = 20 + 10 = 30$, dan $x_{33} = 60 - 10 = 50$.

Dari		Ke	Pasar			Supply (S_i)
			1	2	3	
Pabrik	1	8	5	6	120	
	2	120	10	12		
		15			80	

			70	10	
	3	3	9	10	80
		30		50	
Demand (D_j)		150	70	60	280

Jadi Biaya Transportasi

- $x_{11} = 120$ $120 (8) = 960$
 - $x_{22} = 70$ $70 (10) = 700$
 - $x_{23} = 10$ $10 (12) = 120$
 - $x_{31} = 30$ $30 (3) = 90$
 - $x_{33} = 50$ $50 (10) = 500$
- Total 2370**

Solusi Sebelumnya = 2470

Solusi Sekarang = 2370 -

Pengurangan biaya transportasi 100

Perhatikan kembali variabel non-basisnya, buat jalur tertutup dan hitung C_{ij} -nya

Variabel Non-Basis	Jalur Tertutup	Biaya Relatif (C_{ij})
x_{12}	$x_{12} - x_{22} + x_{23} - x_{33} + x_{31} - x_{11} + x_{12}$	$C_{12} = 5 - 10 + 12 - 10 + 3 - 8 = -8$
x_{13}	$x_{13} - x_{33} + x_{31} - x_{11} + x_{13}$	$C_{13} = 6 - 10 + 3 - 8 = -9$
x_{21}	$x_{21} - x_{23} + x_{33} - x_{31} + x_{21}$	$C_{21} = 15 - 12 + 10 - 3 = 10$
x_{32}	$x_{32} - x_{22} + x_{23} - x_{33} + x_{32}$	$C_{32} = 9 - 10 + 12 - 10 = 1$

Karena C_{ij} masih ada yang negatif maka pilih C_{ij} negatif terbesar yaitu $C_{13} = -9$.

Entering variable adalah x_{13} .

Alokasikan sebanyak mungkin pada x_{13}

$x_{13} = \min \{x_{11}, x_{33}\} = \min \{120, 50\} = 50$.

sehingga $x_{11} = 120 - 50 = 70$, $x_{31} = 30 + 50 = 80$, dan $x_{33} = 50 - 50 = 0$.

		Ke	Pasar			Supply (S_i)
Dari			1	2	3	
Pabrik	1		8	5	6	120
			70		50	

	2	15	10	12	80
			70	10	
	3	3	9	10	80
		80			
Demand (D_j)		150	70	60	280

Jadi Biaya Transportasi

- $x_{11} = 70$ $70 (8) = 560$
 - $x_{13} = 50$ $50 (6) = 300$
 - $x_{22} = 70$ $70 (10) = 700$
 - $x_{23} = 10$ $10 (12) = 120$
 - $x_{31} = 80$ $80 (3) = 240$
- | | |
|-------|------|
| Total | 1920 |
|-------|------|

Solusi Sebelumnya = 2370

Solusi Sekarang = 1920 -

Pengurangan biaya transportasi 450

Variabel Non-Basis	Jalur Tertutup	Biaya Relatif (C_{ij})
x_{12}	$x_{12} - x_{13} + x_{23} - x_{22} + x_{12}$	$C_{12} = 5 - 6 + 12 - 10 = 1$
x_{21}	$x_{21} - x_{11} + x_{13} - x_{23} + x_{21}$	$C_{21} = 15 - 8 + 6 - 12 = 1$
x_{23}	$x_{32} - x_{31} + x_{11} - x_{13} + x_{33}$	$C_{32} = 9 - 3 + 8 - 6 + 12 - 10 = 10$
x_{33}	$x_{33} - x_{31} + x_{11} - x_{13} + x_{23} - x_{22} + x_{33}$	$C_{33} = 10 - 3 + 8 - 6 = 9$

Karena $C_{ij} \geq 0$ maka solusi telah optimal, dengan solusi:

$$x_{11} = 70 \qquad x_{22} = 70 \qquad x_{31} = 80$$

$$x_{13} = 50 \qquad x_{23} = 10$$

Biaya Transportasi = 1920.

Contoh 6.5

Tentukan alokasi terbaik dari distribusi minyak oleh Pertamina berdasarkan Contoh 6.2, dengan metode *stepping stone*.

Penyelesaian

Tabel transportasi solusi dasar fisibel Contoh 6.2 adalah :

ke dari		Tujuan			Supply
		Semarang	Jakarta	Bandung	
S u m b e r	Cepu	4 12	2 -25	- 5	6
	Cilacap	- 30	5 10	- 8	5
	Cirebon	- 20	1 25	7 12	8
Demand		4	8	7	19

Jalur tertutup dan biaya relatif-nya :

Variabel nonbasis	Jalur tertutup	Biaya relatif (C_{ij})
x_{13}	$x_{13} - x_{33} + x_{32} - x_{12} + x_{13}$	$5 - 12 + 25 - 25 = -7$
x_{21}	$x_{21} - x_{22} + x_{12} - x_{11} + x_{21}$	$30 - 10 + 25 - 12 = 33$
x_{23}	$x_{23} - x_{33} + x_{32} - x_{22} + x_{23}$	$8 - 12 + 25 - 10 = 11$
x_{31}	$x_{31} - x_{32} + x_{12} - x_{11} + x_{31}$	$20 - 25 + 25 - 12 = 8$

Karena x_{13} negatif maka tetapkan x_{13} sebagai *entering variable*. Alokasikan sebanyak mungkin pada x_{13} .

ke dari		Tujuan			Supply
		Semarang	Jakarta	Bandung	
S u m b e r	Cepu	4 12	- 25	2 5	6
	Cilacap	- 30	5 10	- 8	5
	Cirebon	- 20	3 25	5 12	8
Demand		4	8	7	19

Jadi biaya transportasi :

$$x_{11} = 4, \quad 4(12) = 48$$

$$x_{13} = 2, \quad 2(5) = 10$$

$$x_{22} = 5, \quad 5(10) = 50$$

$$x_{32} = 3, \quad 3(25) = 75$$

$$x_{33} = 5, \quad 5(12) = 60$$

$$243$$

$$\text{Total} = 243 \times 10.000 \text{ (rasio perbandingan)}$$

$$= \text{Rp } 2.430.000$$

Pengurangan biaya transportasi :

$$\text{Rp } 2.570.000 - \text{Rp } 2.430.000 = \text{Rp } 140.000$$

Variabel nonbasis	Jalur tertutup	Biaya relatif (C_{ij})
x_{12}	$x_{12} - x_{32} + x_{32} - x_{13} + x_{12}$	$25 - 25 + 12 - 5 = 7$
x_{21}	$x_{21} - x_{11} + x_{13} - x_{33} + x_{32} - x_{22} + x_{21}$	$30 - 12 + 5 - 12 + 25 - 10 = 26$
x_{23}	$x_{23} - x_{33} + x_{32} - x_{22} + x_{23}$	$8 - 12 + 25 - 10 = 11$
x_{31}	$x_{31} - x_{33} + x_{13} - x_{11} + x_{31}$	$20 - 12 + 5 - 12 = 1$

Karena $C_{ij} \geq 0$ maka solusi optimal dengan solusi :

$$x_{11} = 4 \quad x_{13} = 2 \quad x_{22} = 5 \quad x_{32} = 3 \quad x_{33} = 5 .$$

Dengan biaya transportasi = Rp 2.430.000

6.3.2. Metode Modified Distribution (MODI Method)

Metode MODI hanya memperhatikan jalur tertutup dari *entering variable* yang telah terpilih (tidak semuanya seperti metode *stepping stone*). Hanya saja untuk menentukan *entering variable* tetap memperhatikan biaya relatif (C_{ij}) pada semua variabel nonbasis dengan memperhatikan nilai untuk baris- i (U_i) dan nilai untuk kolom- j (V_j).

Langkah-langkah lengkapnya adalah :

1. Tentukan nilai U_i dan V_j dengan menggunakan rumus $c_{ij} = U_i + V_j$, pada setiap variabel basis, untuk semua baris dan kolom. Tetapkan $U_1 = 0$ untuk memulai.

2. Hitung biaya relatif (C_{ij}) untuk setiap variable non-basis dengan rumus $C_{ij} = c_{ij} - U_i - V_j$
3. Jika semua nilai $C_{ij} \geq 0$ maka solusi optimal. Jika tidak (ada C_{ij} negatif), pilih variable X_{ij} dengan nilai C_{ij} negatif terbesar sebagai *entering variable*.
4. Alokasikan sebanyak mungkin pada x_{ij} (tidak melanggar *demand & supply*). Kembali ke langkah 1.

Contoh 6.6 :

Tentukan solusi optimal masalah contoh 6.1 berdasar solusi awal dengan metode *north west corner*.

Penyelesaian :

Berdasarkan solusi awal *north west corner*,

Dari		Ke			Supply (S_i)
		1	2	3	
Pabrik	1	8 120	5	6	120
	2	15 30	10 50	12	80
	3	3	9 20	10 60	80
Demand (D_j)		150	70	60	280

Dimulai dari $U_1=0$

$$\begin{array}{lll}
 x_{11} & \longrightarrow & c_{11} = U_1 + V_1 = 8 \quad \longrightarrow \quad V_1 = 8 \\
 x_{21} & \longrightarrow & c_{21} = U_2 + V_1 = 15 \quad \longrightarrow \quad U_2 = 7 \\
 x_{22} & \longrightarrow & c_{22} = U_2 + V_2 = 10 \quad \longrightarrow \quad V_2 = 3 \\
 x_{32} & \longrightarrow & c_{32} = U_3 + V_2 = 9 \quad \longrightarrow \quad U_3 = 6 \\
 x_{33} & \longrightarrow & c_{33} = U_3 + V_3 = 10 \quad \longrightarrow \quad V_3 = 4
 \end{array}$$

Dari		Ke	Pasar			Supply	
			1	2	3		
$U_1=0$	Pabrik	1	8 120	5	6	120	
$U_2=7$		2	15 30	10 50	12		80
$U_3=6$		3	3	9 20	10 60		
Demand			150	70	60	280	

$V_1=8$ $V_2=3$ $V_3=4$

Biaya Relatif (C_{ij})

$$x_{12}: C_{12} = c_{12} - U_1 - V_2 = 5 - 0 - 3 = 2$$

$$x_{13}: C_{13} = c_{13} - U_1 - V_3 = 6 - 0 - 4 = 2$$

$$x_{23}: C_{23} = c_{23} - U_2 - V_3 = 12 - 7 - 4 = 1$$

$$x_{31}: C_{31} = c_{31} - U_3 - V_1 = 3 - 6 - 8 = -11$$

Karena C_{ij} masih ada yang negatif maka pilih C_{ij} negatif terbesar yaitu $C_{31} = -11$.

Entering variable adalah x_{31}

Alokasikan sebanyak mungkin pada x_{31}

$$x_{31} = \min \{x_{21}, x_{32}\} = \min \{30, 20\} = 20.$$

sehingga $x_{21} = 30 - 20 = 10$, $x_{22} = 50 + 20 = 70$, dan $x_{32} = 20 - 20 = 0$.

Dari		Ke	Pasar			Supply	
			1	2	3		
$U_1=0$	Pabrik	1	8 120	5	6	120	
$U_2=7$		2	15 10	10 70	12		80
$U_3=5$		3	3	9	10		

$V_1=8$ $V_2=3$ $V_3=15$

		20		60	
Demand		150	70	60	280

Dimulai dari $U_1=0$

$$\begin{aligned}
 x_{11} &\rightarrow c_{11} = U_1 + V_1 = 8 && \rightarrow V_1 = 8 \\
 x_{21} &\rightarrow c_{21} = U_2 + V_1 = 15 && \rightarrow U_2 = 7 \\
 x_{22} &\rightarrow c_{22} = U_2 + V_2 = 10 && \rightarrow V_2 = 3 \\
 x_{31} &\rightarrow c_{31} = U_3 + V_1 = 3 && \rightarrow U_3 = -5 \\
 x_{33} &\rightarrow c_{33} = U_3 + V_3 = 10 && \rightarrow V_3 = 15
 \end{aligned}$$

Biaya Relatif (C_{ij}).

$$\begin{aligned}
 x_{12}: C_{12} &= c_{12} - U_1 - V_2 = 5 - 0 - 3 = 2 \\
 x_{13}: C_{13} &= c_{13} - U_1 - V_3 = 6 - 0 - 15 = -9 \\
 x_{23}: C_{23} &= c_{23} - U_2 - V_3 = 12 - 7 - 15 = -10 \\
 x_{32}: C_{32} &= c_{32} - U_3 - V_2 = 9 - (-5) - 3 = 11
 \end{aligned}$$

Karena C_{ij} masih ada yang negatif maka pilih C_{ij} negatif terbesar yaitu $C_{23} = -10$.

Entering Variabel adalah x_{23} .

Alokasikan sebanyak mungkin pada x_{23} .

$$x_{23} = \min \{x_{21}, x_{33}\} = \min \{10, 60\} = 10.$$

sehingga $x_{21} = 10 - 10 = 0$, $x_{31} = 20 + 10 = 30$, dan $x_{33} = 60 - 10 = 50$.

			$V_1=8$ ↓	$V_2=13$ ↓	$V_3=15$ ↓	
	Ke	Pasar			Supply	
		1	2	3		
$U_1=0 \rightarrow$	1	8 120	5	6	120	
$U_2=-3 \rightarrow$	2	15	10 70	12 10	80	
$U_3=-5 \rightarrow$	3	3 30	9	10 50	80	
	Demand	150	70	60	280	

Dimulai dari $U_1=0$

$$\begin{aligned}
 x_{11} &\rightarrow c_{11} = U_1 + V_1 = 8 && \rightarrow V_1 = 8 \\
 &&& \rightarrow
 \end{aligned}$$

$$\begin{aligned}
 x_{22} &\rightarrow c_{22} = U_2 + V_2 = 10 && V_2 = 13 \\
 x_{23} &\rightarrow c_{23} = U_2 + V_3 = 12 &\rightarrow U_2 = -3 \\
 x_{31} &\rightarrow c_{31} = U_3 + V_1 = 3 &\rightarrow U_3 = -5 \\
 x_{33} &\rightarrow c_{33} = U_3 + V_3 = 10 &\rightarrow V_3 = 15
 \end{aligned}$$

Biaya Relatif (C_{ij}).

$$\begin{aligned}
 x_{12}: C_{12} &= c_{12} - U_1 - V_2 = 5 - 0 - 13 = -2 \\
 x_{13}: C_{13} &= c_{13} - U_1 - V_3 = 6 - 0 - 15 = -9 \\
 x_{21}: C_{21} &= c_{21} - U_2 - V_1 = 15 - (-3) - 8 = 10 \\
 x_{32}: C_{32} &= c_{32} - U_3 - V_2 = 9 - (-5) - 13 = 1
 \end{aligned}$$

Karena C_{ij} masih ada yang negatif maka pilih C_{ij} negatif terbesar yaitu $C_{13} = -9$.

Entering variable adalah x_{13} .

Alokasikan sebanyak mungkin pada x_{13}

$$x_{13} = \min \{x_{11}, x_{33}\} = \min \{120, 50\} = 50.$$

sehingga $x_{11} = 120 - 50 = 70$, $x_{31} = 30 + 50 = 80$, dan $x_{33} = 50 - 50 = 0$.

Dari		Ke	Pasar			Supply
			1	2	3	
Pabrik	1		8	5	6	120
	2		15	10	12	
	3		3	9	10	
Demand			150	70	60	280

$V_1=8$ $V_2=4$ $V_3=6$

$U_1=0 \rightarrow$
 $U_2=6 \rightarrow$
 $U_3=-5 \rightarrow$

Dimulai dari $U_1=0$

$$\begin{aligned}
 x_{11} &\rightarrow c_{11} = U_1 + V_1 = 8 &\rightarrow V_1 = 8 \\
 x_{13} &\rightarrow c_{13} = U_1 + V_3 = 6 &\rightarrow V_3 = 6 \\
 x_{22} &\rightarrow c_{22} = U_2 + V_2 = 10 &\rightarrow V_2 = 4 \\
 x_{23} &\rightarrow c_{23} = U_2 + V_3 = 12 &\rightarrow U_3 = 6 \\
 &\rightarrow
 \end{aligned}$$

$$x_{31} \quad c_{31} = U_3 + V_1 = 3 \quad \longrightarrow \quad V_3 = -5$$

Biaya Relatif (C_{ij}).

$$x_{12}: C_{12} = c_{12} - U_1 - V_2 = 5 - 0 - 4 = 1$$

$$x_{21}: C_{21} = c_{21} - U_2 - V_1 = 15 - 6 - 8 = 1$$

$$x_{32}: C_{32} = c_{32} - U_3 - V_2 = 9 - (-5) - 4 = 10$$

$$x_{33}: C_{33} = c_{33} - U_3 - V_3 = 10 - (-5) - 13 = 1$$

Karena semua $C_{ij} \geq 0$ maka solusi telah optimal, dengan solusi:

$$x_{11} = 70 \quad x_{22} = 70 \quad x_{31} = 80$$

$$x_{13} = 50 \quad x_{23} = 10$$

$$\begin{aligned} \text{Biaya Transportasi} &: 70(8) + 50(6) + 70(10) + 10(12) + 80(3) \\ &= 560 + 300 + 700 + 120 + 240 = 1920 \end{aligned}$$

6.4. MODEL PENUGASAN

- Model khusus dari model transportasi tetapi

$S_i = 1, i = 1, \dots, m$	→	pekerja
$D_j = 1, j = 1, \dots, m$	→	pekerjaan
- Satu pekerja menangani 1 pekerjaan
- Biaya transportasi / gaji dari alokasi tiap pekerja untuk menangani masing-masing pekerjaan
- Tujuannya mencari biaya transportasi / gaji minimum yang harus dikeluarkan.

Langkah-langkah (Algoritma Hungarian)

1. Buat *opportunity cost table* dengan cara:
 - a. Kurangi elemen pada tiap baris dengan elemen terkecil pada baris tersebut.
 - b. Kurangi elemen pada tiap kolom dengan elemen terkecil pada tiap kolom tersebut.
2. Tutup semua angka nol dengan membuat garis (vertical / horizontal) dengan jumlah garis paling sedikit (efisien) pada table tersebut.

3. Jika jumlah garis \geq jumlah kolom / barisnya ($\geq m$) maka solusi optimal. Alokasikan penugasan pada sel bernilai nol, secara proporsional.
 Jika jumlah garis $< m$, kurangi semua angka yang tidak tertutup garis dengan angka terkecil dari angka-angka tersebut, dan tambahkan pada angka yang menempati posisi perpotongan 2 garis. Angka yang lainnya tetap.
4. Kembali ke langkah 2.

Contoh 6.7

Jika terdapat 3 tenaga ahli yang akan ditempatkan bekerja di 3 buah kota dengan permintaan gaji masing-masing pekerja untuk bekerja di 3 kota tersebut adalah sebagai berikut:

		Pekerjaan(Kota)		
		A	B	C
Pekerja	1	25	31	35
	2	15	20	24
	3	22	19	17

Penyelesaian :

Langkah 1.a

	A	B	C
1	0	6	10
2	0	5	9
3	5	2	0

Langkah 1.b & 2

	A	B	C
1	0	4	10
2	0	3	9
3	5	0	0

Langkah 3

Karena jumlah garis < 3 (jumlah baris/kolom) jadi solusi belum optimal. Kurangi semua angka yang tidak tertutup garis dengan angka terkecil (yaitu 3) dari angka-angka tersebut, dan tambahkan pada angka yang menempati posisi perpotongan 2 garis. Angka yang lainnya tetap.

Maka menjadi : (sekaligus kembali ke langkah 2)

	<i>A</i>	<i>B</i>	<i>C</i>
1	0	1	7
2	0	0	6
3	8	0	0

Dan dilanjutkan ke langkah 3

Jumlah garis ≥ 3 maka solusinya optimal, dengan solusi :

Pekerja	Pekerjaan	Gaji Minimum
1	<i>A</i>	25
2	<i>B</i>	20
3	<i>C</i>	17
Total gaji minimum		62

Contoh 6.8

Jika terdapat 4 pekerja (*A,B,C,D*) yang akan dialokasikan pada 4 pekerjaan. Tentukan alokasi penugasan dan biaya minimumnya, jika tabel biaya penugasan adalah :

		Pekerjaan			
		1	2	3	4
Pekerjaan	A	4	2	3	1
	B	3	1	1	2
	C	3	1	1	2
	D	2	1	2	2

Penyelesaian

Langkah 1a

	1	2	3	4
A	3	1	2	0
B	2	0	0	1
C	2	0	0	1
D	1	0	1	1

Langkah 1b dan 2

	1	2	3	4
A	2	1	2	0
B	1	0	0	1
C	2	0	0	1
D	0	0	1	1

Langkah

3.

Karena jumlah garis = 4 maka solusi optimal dengan solusi :

pekerja	pekerjaan	biaya
A	4	1
B	2	1
C	3	1
D	4	2
Total biaya		4

pekerja	pekerjaan	biaya
A	4	1
B	3	1
C	2	1
D	4	2
Total biaya		4

**6.5. MODEL TRANSPORTASI DENGAN
SOFTWARE QM for Windows**

Masalah Transportasi

Pada *QM for Win*, pilih menu *Module* dan klik pada *Transportation* kemudian pilih *New*. Langkah selanjutnya :

- Muncul *window* untuk menentukan kondisi awal masalah. Tentukan jumlah tujuan (*demand*) dan jumlah sumber (*supply*) pada *Number of sources* dan *number of destinations*. Klik pada *objective minimize* karena bentuk masalah transportasi umumnya adalah untuk

minimisasi biaya. Tentukan *title* jika diinginkan. Kemudian klik *Ok*. Untuk nama baris dan kolom dapat kita tentukan selanjutnya.

- Setelah itu akan muncul tabel masalah yang harus kita isi. Ganti setiap nama baris dan kolom dengan nama yang kita inginkan, misalnya nama pabrik supplier atau nama tujuan. Isi setiap sel atau nilai X_{ij} dengan nilai biaya yang sesuai dengan kondisi permasalahan. Isi juga pada sel *demand* dan *supply* dengan kondisi yang sesuai pada permasalahan.
- Setelah semua sel diisi maka selanjutnya menentukan solusi fisibel awal yang diinginkan, yaitu dengan memilih pada *Starting Method*. Pada *starting method* terdapat tiga solusi fisibel awal yaitu *NorthWest Corner method*, *Minimum Cost method*, dan *Vogel's Approx. Method*.
- Kemudian klik pada tombol *Solve*. Dan kemudian akan muncul tabel-tabel solusinya. Pada menu *Window* kita dapat memilih *cascade* jika kita ingin tabel-tabel solusi ditampilkan secara bersusun atau bertumpuk, *tile* jika kita ingin tabel-tabel solusi ditampilkan semuanya dengan skala yang sama besar, dan untuk kembali mengedit data kita dapat memilih *data (edit)* atau klik pada tombol *edit data*.
- Untuk melihat tabel hasil akhir dari solusi optimal, kita dapat melihat pada window *transportation shipments*. Bila kita ingin mengetahui hasil perhitungan dari solusi fisibel awal hingga solusi optimal, maka kita dapat melihat pada window *Iterations*.

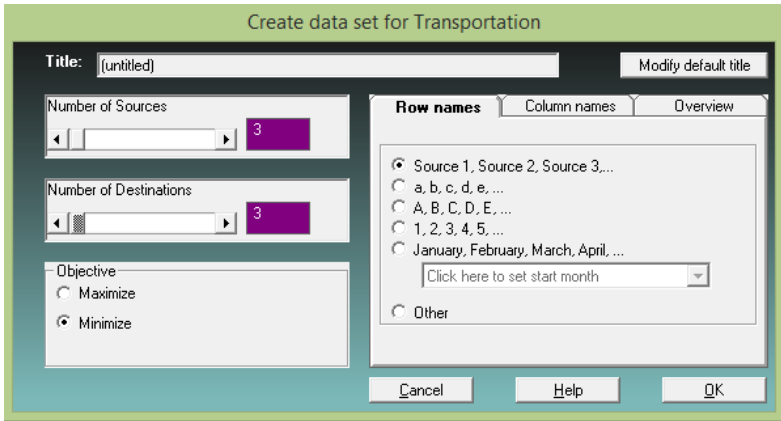
Contoh 6.9

Tentukan solusi optimal tabel transportasi berikut, dengan *QM for Win*.

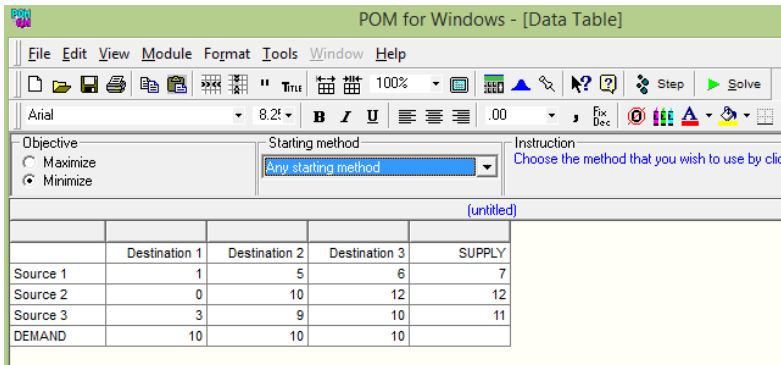
Dari		Ke	Tujuan			Supply (S_i)
			1	2	3	
Sumber	1	1	5	6	7	
	2	0	10	12	12	
	3	3	9	10	11	

Demand (D_j)	10	10	10	

Penyelesaian



Tentukan *number of source/sumber* = 3 dan *number of destination/tujuan* = 3, dan pilih *objective*-nya *Minimize*. Kemudian tekan OK.



Masukkan data biaya, jumlah permintaan dan penawaran di tabel transportasi. Pada *starting method* bisa memilih metode solusi awal fisibel. Kemudian tekan *solve*.

Selanjutnya pada *windows*, bisa dipilih *transportation shipments*, *final solution table*, *iterations*, dll.

The screenshot shows a window titled "Transportation Shipments" with a sub-header "(untitled) Solution". It displays a table with the following data:

	Destination 1	Destination 2	Destination 3
Optimal cost = \$164			
Source 1		7	
Source 2	10	2	
Source 3		1	10

The screenshot shows a window titled "Final Solution Table" with a sub-header "(untitled) Solution". It displays a table with the following data:

	Destination 1	Destination 2	Destination 3
Source 1	(6)	7	(0)
Source 2	10	2	(1)
Source 3	(4)	1	10

The screenshot shows a window titled "Iterations" with a sub-header "(untitled) Solution". It displays a table with the following data:

	Destination 1	Destination 2	Destination 3
Iteration 1			
Source 1	(6)	7	(0)
Source 2	10	2	(1)
Source 3	(4)	1	10



The screenshot shows a window titled "Shipping list" with a subtitle "(untitled) Solution". It contains a table with the following data:

From	To	Shipment	Cost per unit	Shipment cost
Source 1	Destination 2	7	5	35
Source 2	Destination 1	10	0	0
Source 2	Destination 2	2	10	20
Source 3	Destination 2	1	9	9

Masalah Penugasan

Pada *QM for Win*, pilih menu *Module* dan klik pada *Assignment* kemudian pilih *New*. Langkah selanjutnya :

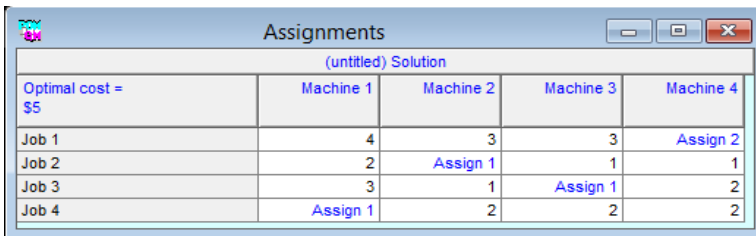
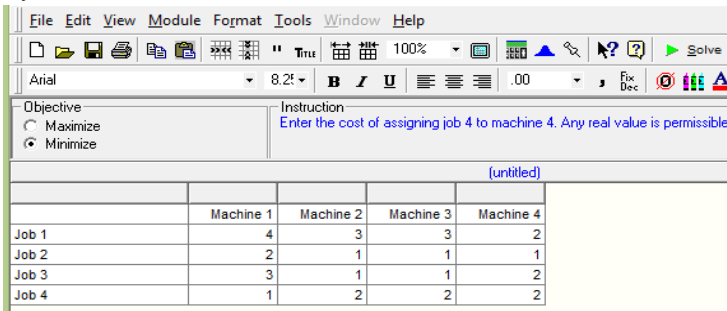
- Muncul *window* untuk menentukan kondisi awal masalah. Tentukan jumlah pekerjaan (*number of jobs*) dan jumlah pekerja (*number of machines*). Klik pada *objective minimize* karena bentuk masalah penugasan umumnya adalah untuk meminimasi biaya. Tentukan *title* jika diinginkan. Kemudian klik *Ok*. Untuk nama baris dan kolom dapat kita tentukan selanjutnya.
- Setelah itu akan muncul tabel masalah yang harus kita isi. Ganti setiap nama baris dan kolom dengan nama yang kita inginkan, misalnya nama pekerjaan dan nama pekerja. Isi setiap sel atau nilai x_{ij} dengan nilai biaya yang sesuai dengan kondisi permasalahan.
- Kemudian klik pada tombol *Solve*. Dan kemudian akan muncul tabel-tabel solusinya. Pada menu *Window* kita dapat memilih *cascade* jika kita ingin tabel-tabel solusi ditampilkan secara bersusun atau bertumpuk, *tile* jika kita ingin tabel-tabel solusi ditampilkan semuanya dengan skala yang sama besar, dan untuk kembali mengedit data kita dapat memilih *data (edit)* atau klik pada tombol *edit data*.
- Untuk melihat tabel hasil akhir dari solusi optimal, kita dapat melihat pada *window assignment* atau *assignment list*.

Contoh 6.10 (*masalah seperti contoh 6.8*)

Jika terdapat 4 pekerja (A,B,C,D) yang akan dialokasikan pada 4 pekerjaan. Tentukan alokasi penugasan dan biaya minimumnya, jika tabel biaya penugasan adalah :

		Pekerjaan			
		1	2	3	4
Pekerjaan	A	4	2	3	1
	B	3	1	1	2
	C	3	1	1	2
	D	2	1	2	2

Penyelesaian



(untitled) Solution				
	Machine 1	Machine 2	Machine 3	Machine 4
Job 1	0		0	
Job 2				1
Job 3	1	0		2
Job 4		2	2	3

(untitled) Solution		
JOB	Assigned to	Cost
Job 1	Machine 4	2
Job 2	Machine 2	1
Job 3	Machine 3	1
Job 4	Machine 1	1
Total		5

RANGKUMAN

Model transportasi adalah bagian dari model *linear programming* yang dianalisa secara khusus karena menggunakan metode yang berbeda dengan model LP biasa, karena cenderung akan memiliki variabel keputusan ditambah *artificial variable* yang lebih banyak. Analisa pada model transportasi diawali dengan membentuk tabel transportasi dan dicari solusi awal fisibel dengan metode *north-west corner* dan *least-cost* kemudian dilanjutkan dengan mencari solusi optimalnya dengan metode *stepping-stone* dan *modified distribution (MODI)*. Pada metode *stepping stone* harus memperhatikan semua jalur tertutup pada semua variabel nonbasis tapi pada metode MODI hanya pada variabel nonbasis yang telah terpilih sebagai *entering variable*. *Entering variable* ini diperoleh dengan memperhatikan biaya relatif pada tiap variabel nonbasis dengan nilai negatif terbesar.

Model penugasan adalah model khusus dari model transportasi dengan syarat tiap pekerja hanya menyelesaikan satu pekerjaan maupun sebaliknya. Penyelesaiannya dengan menggunakan algoritma hugarian.

PUSTAKA

1. Ravindran, A.R. 2008. *Operations Research and Management Science Handbook*. CRC Press Taylor & Francis Group.
2. Taha, H.A. 2007. *Operations Research: An Introduction, 8^{ed}*. Prentice Hall, New Jersey.
3. Taylor, B.W. 2013. *Introduction to Management Science, 11^{ed}*. Prentice Hall, New Jersey.
4. Winston, W.L. 2008. *Operations Research. Applications and Algorithms, 4^{ed}*. Brooks/Cole, New York.

SOAL LATIHAN

1. Direktur sebuah perusahaan penerbangan menerangkan bahwa untuk melayani penerbangan di Jawa Barat harus dibuka 4 bandar udara, yaitu di Jakarta, Bandung, Cirebon, dan Cilacap, sehingga pesawat dapat mengisi bahan bakar pada keempat lapangan terbang tersebut. Kebutuhan bahan bakar ini akan disuplai oleh tiga agen Pertamina, yaitu Pertamina I, II, dan III yang masing-masing dapat menyediakan sebanyak 275.000 galon, 550.000 galon, dan 660.000 galon. Adapun masing-masing lapangan terbang diperkirakan akan membutuhkan bahan bakar sebanyak :
 - Jakarta : 440.000 galon
 - Bandung : 330.000 galon
 - Cirebon : 220.000 galon
 - Cilacap : 110.000 galon

Harga bahan bakar per galon yang dijual pada masing-masing bandar udara oleh agen I, II, dan III adalah seperti pada tabel berikut :

Bandara Agen	Jakarta	Bandung	Cirebon	Cilacap
I	11	9	10	10
II	13	12	11	7
III	9	4	14	8

Tentukan solusi awal fisibel dengan metode *north west corner* untuk menentukan biaya transportasi dan kombinasi alokasi distribusinya.

2. Tentukan solusi awal fisibel dengan metode *least cost* untuk menentukan biaya transportasi dan kombinasi alokasi distribusinya pada masalah no.1.
3. Berdasar soal dan jawaban no. 1, tentukan solusi optimalnya dengan metode *stepping stone*.
4. Berdasar soal dan jawaban no. 1, tentukan solusi optimalnya dengan metode MODI.
5. Berdasar soal no.1 dan jawaban soal no. 2, tentukan solusi optimalnya dengan metode *stepping stone*.
6. Berdasar soal no.1 dan jawaban soal no. 2, tentukan solusi optimalnya dengan metode MODI.
7. Tiga pembangkit listrik dengan kapasitas 25, 40, dan 30 juta kWh memasok listrik ke tiga kota yang mempunyai permintaan maksimum adalah 30, 35 dan 30 juta kWh. Biaya distribusi per juta kWh adalah:

		Kota		
		1	2	3
Pabrik	A	600	700	400
	B	320	300	350
	C	500	480	450

Tentukan solusi awal fisibel dengan metode *north west corner* dan solusi optimalnya dengan metode MODI untuk menentukan biaya transportasi dan kombinasi alokasi distribusi optimalnya.

8. Berdasar soal no. 7, tentukan solusi awal fisibel dengan metode *least cost* dan solusi optimalnya dengan metode *stepping stone* untuk menentukan biaya transportasi dan kombinasi alokasi distribusi optimalnya .
9. Tentukan solusi optimal dari tabel penugasan berikut :

		Pekerjaan				
		1	2	3	4	5
Pekerja	1	3	8	2	10	3
	2	8	7	2	9	7
	3	6	4	2	7	5
	4	8	4	2	3	5
	5	9	10	6	9	10

10. Tentukan solusi optimal dari tabel penugasan berikut :

		Pekerjaan			
		1	2	3	4
Pekerja	1	5	5	-	2
	2	7	4	2	3
	3	9	3	5	-
	4	7	2	6	7

Pemrograman Bilangan Bulat



Salah satu asumsi teknik LP adalah *divisibility* atau *fractionality*. Dengan kata lain, setiap variabel model dapat terjadi pada semua nilai nonnegatif, suatu nilai solusi yang kontinu. Dalam situasi keputusan tertentu, asumsi ini tidak realistis dan tak dapat diterima. Misalnya, suatu solusi yang memerlukan 2,29 kapal selam dalam suatu sistem pertahanan adalah tidak mempunyai makna praktis. Dalam kasus ini, 2 atau 3 kapal selam harus disediakan (bukan 2,29). Masih banyak masalah lain dalam bidang industri dan bisnis yang memerlukan nilai bulat untuk variabel modelnya. Pemrograman Bilangan Bulat (*Integer programming*) adalah suatu LP dengan tambahan persyaratan bahwa semua atau beberapa variabel bernilai bulat nonnegatif, tetapi tidak perlu bahwa parameter model juga bernilai bulat.

Ada banyak kasus dalam masalah *integer programming* yang membatasi variabel model bernilai nol atau satu. Dalam kasus demikian, pengambil keputusan hanya memiliki dua pilihan yaitu menerima atau menolak suatu usulan kegiatan. Penerimaan atau penolakan yang sifatnya parsial tak diperbolehkan. Jika variabel keputusan bernilai satu, kegiatan diterima, dan jika variabel bernilai nol, kegiatan ditolak.

Dalam masalah *integer programming*, jika model mengharapkan semua variabel basis bernilai *integer* (bulat positif atau nol), dinamakan *pure (all) integer programming*. Jika model hanya mengharapkan variabel-variabel tertentu bernilai *integer*, dinamakan *mixed integer programming*. Dan jika model hanya mengharapkan nilai nol atau satu untuk variabelnya, dinamakan *zero one integer programming*.

Tampaknya cukup untuk mendapatkan solusi bulat dan masalah LP, dengan menggunakan metode simpleks biasa dan kemudian membulatkan nilai-nilai pecahan solusi optimum. Bukan tugas mudah untuk membulatkan nilai-nilai pecahan variabel basis yang menjamin tetap memenuhi semua kendala dan tidak menyimpang cukup jauh dan solusi bulat yang *tepat*. Karena itu perlu prosedur yang sistematis untuk mendapatkan solusi bulat optimum terhadap masalah itu. Ada beberapa pendekatan solusi terhadap masalah *integer programming* yang akan dibicarakan dalam bab ini, yaitu pendekatan pembulatan, metode grafik, *cutting plane* serta *branch and bound*.

7.1. PENDEKATAN PEMBULATAN

Suatu pendekatan yang sederhana dan kadang-kadang praktis untuk menyelesaikan masalah *integer programming* adalah dengan membulatkan nilai-nilai variabel keputusan yang diperoleh melalui LP. Pendekatan ini mudah dan praktis dalam hal usaha, waktu, dan biaya yang diperlukan untuk memperoleh suatu solusi. Bahkan, pendekatan pembulatan dapat merupakan cara yang sangat efektif untuk masalah *integer programming* yang besar di mana biaya perhitungan sangat tinggi atau untuk masalah di mana nilai-nilai solusi variabel keputusan sangat besar. Contohnya, pembulatan nilai-nilai solusi jumlah pensil yang harus diproduksi dan 14.250,2 menjadi 14,250,0 semestinya dapat diterima. Namun demikian, sebab utama kegagalan pendekatan ini adalah bahwa solusi yang diperoleh melalui metode ini mungkin bukan solusi *integer* optimum yang sesungguhnya. Dengan kata lain, solusi pembulatan dapat lebih jelek dibanding solusi *integer* optimum yang sesungguhnya atau mungkin merupakan solusi tak layak. Ini membawa konsekuensi besar jika jumlah produk-produk seperti pesawat angkut komersial atau kapal perang yang harus diproduksi dibulatkan ke bilangan bulat terdekat.

Tiga masalah berikut disajikan untuk mengilustrasikan prosedur pembulatan.

Masalah 1:

$$\begin{aligned} \text{Max } Z &= 100 X_1 + 90 X_2 \\ \text{s.t. } 10 X_1 + 7 X_2 &\leq 70 \\ 5 X_1 + 10 X_2 &\leq 50 \\ X_1, X_2 &\geq 0 \end{aligned}$$

Masalah 2:

$$\begin{aligned} \text{Min } Z &= 200 X_1 + 400 X_2 \\ \text{s.t. } 10 X_1 + 25 X_2 &\geq 100 \\ 3 X_1 + 2 X_2 &\geq 12 \\ X_1, X_2 &\geq 0 \end{aligned}$$

Masalah 3:

$$\begin{aligned} \text{Max } Z &= 80 X_1 + 100 X_2 \\ \text{s.t. } 4 X_1 + 2 X_2 &\leq 12 \\ X_1 + 5 X_2 &\leq 15 \\ X_1, X_2 &\geq 0 \end{aligned}$$

Perbandingan antara solusi dengan metode simpleks tanpa pembatasan bilangan bulat, pembulatan ke bilangan bulat terdekat dan solusi integer optimum yang sesungguhnya untuk ketiga masalah di atas ditunjukkan pada tabel berikut

Masalah	Solusi dengan metode simpleks	Solusi pembulatan ke bilangan bulat terdekat	Solusi bulat optimum yang sesungguhnya
1	$X_1 = 5,38$ $X_2 = 2,31$ $Z = 746,15$	$X_1 = 5$ $X_2 = 2$ $Z = 680$	$X_1 = 7$ $X_2 = 0$ $Z = 700$

2	$X_1=1,82$ $X_2=3,27$ $Z= 1672,73$	$X_1 =2$ $X_2= 4$ tak layak	$X_1=3, X_2=3$ atau $X_1=5, X_2=2$ $Z=1800$
3	$X_1=1,66$ $X_2=2,66$ $Z=400$	$X_1=2$ $X_2=3$ tak layak	$X_1 =2$ $X_2=2$ $Z=360$

Masalah pertama adalah masalah maksimasi, di mana solusi pembulatan menghasilkan keuntungan 680, hanya lebih kecil 20 dibanding yang dihasilkan solusi bulat optimum, 700. Masalah kedua adalah masalah minimisasi di mana solusi pembulatan adalah tak layak. ini menunjukkan bahwa meskipun peningkatan pembulatan adalah sederhana, ia kadang-kadang menyebabkan solusi tak layak. Untuk mencegah ketidaklayakan, nilai-nilai solusi simpleks dalam masalah minimisasi harus dibulatkan ke atas. Contohnya, pada masalah kedua, jika solusi dibulatkan ke atas diperoleh $X_1=2$ dan $X_2=4$ dan merupakan solusi layak. Sebaliknya, pada masalah maksimisasi inilah solusi simpleks semestinya dibulatkan ke bawah. Masalah ketiga menunjukkan kasus ini.

Pada masalah ketiga, solusi pembulatan juga tak layak. Namun, seperti ditunjukkan dalam masalah minimisasi, jika nilai-nilai solusi simpleks masalah ketiga $X_1=1,66$ dan $X_2=2,66$ dibulatkan menjadi $X_1=2$ dan $X_2=3$, solusi ini menjadi layak. Ini dapat dibuktikan dengan meneliti masing-masing kendala model dengan nilai-nilai variabel keputusan yang telah dibulatkan ke bawah.

Nilai-nilai *fungsi* tujuan melalui metode simpleks tanpa pembatasan bilangan bulat akan selalu lebih baik dibanding solusi *integer* optimum karena ia terletak pada titik pojok dan batas ruang solusi layak.

Suatu metode yang serupa dengan pendekatan pembulatan adalah *prosedur coba-coba*. Dengan menggunakan cara ini, pengambil keputusan mengamati solusi integer dan memilih solusi yang

mengoptimumkan nilai-nilai fungsi tujuan. Metode ini sangat tidak efektif jika masalahnya melibatkan sejumlah besar kendala dan variabel. Lebih lagi, memeriksa kelayakan setiap solusi yang dibulatkan banyak memakan waktu.

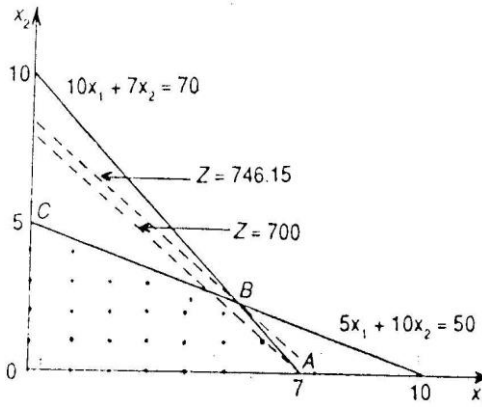
7.2. METODE GRAFIK

Masalah *integer programming* yang melibatkan hanya dua variabel dapat diselesaikan secara grafik. Pendekatan ini identik dengan metode grafik LP dalam semua aspek kecuali bahwa solusi optimum harus memenuhi persyaratan bilangan bulat. Mungkin pendekatan yang termudah untuk menyelesaikan masalah *integer programming* dua dimensi adalah dengan menggunakan kertas grafik dan menggambarkan sekumpulan titik-titik *integer* dalam ruang ilusi layak. Masalah berikut akan diselesaikan dengan pendekatan grafik.

$$\begin{aligned} \text{Max } Z &= 100 X_1 + 90X_2 \\ \text{s.t.} \quad & 10X_1 + 7X_2 \leq 70 \\ & 5X_1 + 10 X_2 \leq 50 \\ & X_1, X_2 \text{ nonnegatif integer} \end{aligned}$$

Model ini serupa dengan model LP biasa. Perbedaannya hanya pada kendala akhir yang mengharapakan bahwa variabel terjadi pada nilai-nilai nonnegatif integer.

Solusi grafik masalah ini ditunjukkan pada gambar dibawah ini. Ruang solusi layak adalah $OABC$. Solusi optimum masalah LP dtunjukkan titik B , dengan $X_1=5,38$, $X_2=2,31$ dan $Z= 746,15$. Untuk mencari solusi *integer* optimum masalah ini, garis Z (slope = $-9/10$) digeser secara sejajar dan titik B menuju titik asal. Solusi *integer* optimum adalah titik integer pertama yang bersinggungan dengan garis Z . Titik itu adalah A , dengan $X_1=7$, $X_2=0$ dan $Z=700$.



7.3. METODE GOMORY (*Cutting Plane Algorithm*)

Suatu prosedur sistematis untuk memperoleh solusi integer optimum terhadap *pure integer programming* pertama kali dikemukakan oleh R. E. Gomory pada tahun 1958. Ia kemudian memperluas prosedur ini untuk menangani kasus yang lebih sulit, yaitu *mixed integer programming*.

Langkah-langkah prosedur Gomory diringkas seperti berikut:

1. Selesaikan masalah *integer programming* dengan menggunakan metode simpleks. Jika masalahnya sederhana, ia dapat diselesaikan dengan pendekatan grafik, sehingga pendekatan Gomory kurang efisien.
2. Periksa solusi optimum. Jika semua variabel basis memiliki nilai-nilai *integer*, solusi optimum *integer* telah diperoleh dan proses solusi berakhir. Jika satu atau lebih variabel basis memiliki nilai-nilai pecahan, teruskan ke langkah 3.
3. Buatlah suatu kendala Gomory (suatu bidang pemotong atau *cutting-plane*) dan cari solusi optimum melalui prosedur *dual simplex*. Kembali ke langkah 2.

Pembentukan kendala Gomory adalah begitu penting sehingga memerlukan perhatian khusus.

Misalkan tabel optimum masalah LP yang disajikan berikut merupakan solusi optimum kontinu.

	X_1	...	X_m	W_1	...	W_n	Solusi
Z	0	...	0	c_1	...	c_n	b_0
X_1	1	...	0	a_{11}	...	a_{1n}	b_1
.
.
.
X_m	0		1	a_{m1}		a_{mn}	b_m

Variabel X_i ($i=1, \dots, m$) menunjukkan variabel basis dan variabel W_j ($j=1, \dots, n$) adalah variabel nonbasis.

Perhatikan persamaan ke i di mana variabel X_i diasumsikan bernilai-nilai *non integer*.

$$X_i = b_i - \sum a_{ij} W_j \quad \text{dengan } b_i \text{ non-integer,}$$

Kemudian pisahkan b_i dan a_{ij} menjadi bagian yang bulat (integer) yaitu \bar{b}_i dan \bar{a}_{ij} , dan bagian pecahan non negatif yaitu f_i dan f_{ij} seperti berikut:

$$b_i = \bar{b}_i + f_i, \quad \text{dengan } f_i = b_i - \bar{b}_i \text{ dan } 0 < f_i < 1$$

$$a_{ij} = \bar{a}_{ij} + f_{ij}, \quad \text{dengan } f_{ij} = a_{ij} - \bar{a}_{ij} \text{ dan } 0 \leq f_{ij} < 1$$

Misalkan

b_i	\bar{b}_i	f_i	a_{ij}	\bar{a}_{ij}	f_{ij}
3/2	1	1/2	-7/3	-3	2/3
7/8	0	7/8	-1	-1	0
7/3	2	1/3	-2/5	-1	3/5

Kendala Gomory yang diinginkan adalah:

$S_g - \sum f_{ij} W_j = -f_i$ dengan S_g adalah variabel *slack* Gomory ke-g.

Pada umumnya, persamaan kendala yang berhubungan dengan solusi pecahan dipilih untuk menghasilkan suatu kendala Gomory, tapi yang dipilih adalah persamaan yang memiliki f_i maksimum.

Tabel baru setelah penambahan kendala Gomory menjadi:

	X_1 ... X_m	W_1 ... W_n	S_g	Solusi	
Z	0	0	c_1 ... c_n	0	b_0
X_1	1	0	a_{11} ... a_{1n}	0	b_1
.
.
X_m	0	1	a_{m1} ... a_{mn}	0	b_m
S_g	0	0	$-f_{i1}$... $-f_{in}$	1	$-f_i$

Karena diperoleh solusi *primal optimum* tetapi tak layak maka digunakan metode *dual simplex*. Proses pembentukan kendala Gomory berakhir jika solusi baru semua berupa bilangan bulat. Jika tidak, suatu kendala Gomory baru dibuat lagi dan tabel yang dihasilkan dan metode *dual simplex* digunakan lagi untuk mengatasi ketidaklayakan. Jika pada setiap iterasi metode *dual simplex* menunjukkan bahwa tak ada solusi layak, berarti masalah itu tidak memiliki solusi *integer* yang layak.

Contoh 7.1

Misalkan terdapat persoalan *integer linear programming* seperti berikut:

$$\begin{aligned} \text{Max } Z &= 7X_1 + 9X_2 \\ \text{s.t.: } & -X_1 + 3X_2 \leq 6 \\ & 7X_1 + X_2 \leq 35 \\ & X_1, X_2 \text{ non negatif integer.} \end{aligned}$$

Tentukan solusi optimal integernya.

Penyelesaian

Dengan metode simpleks, diperoleh solusi kontinu optimumnya diberikan seperti tabel berikut:

	X_1	X_2	S_1	S_2	rhs
Z	0	0	28/11	15/11	63
X_2	0	1	7/22	1/22	7/2
X_1	1	0	-1/22	3/22	9/2

Karena solusi tidak bulat, suatu kendala Gomory ditambahkan pada tabel itu. Kedua persamaan (X_1 dan X_2) pada masalah ini memiliki nilai yang sama, yaitu $f_1 = f_2 = 1/2$, sehingga salah satu dapat digunakan.

Misalkan digunakan persamaan X_2 , ini menghasilkan:

$$X_2 + 7/22 S_1 + 1/22 S_2 = 7/2 \text{ atau}$$

$$X_2 + (0 + 7/22) S_1 + (0 + 1/22) S_2 = (3 + 1/2)$$

sehingga kendala Gomorynya adalah:

$$S_{g1} - 7/22 S_1 - 1/22 S_2 = -1/2$$

dan table baru setelah penambahan kendala Gomory menjadi:

	X_1	X_2	S_1	S_2	S_{g1}	rhs
Z	0	0	28/11	15/11	0	63
X_2	0	1	7/22	1/22	0	7/2
X_1	1	0	-1/22	3/22	0	9/2
S_{g1}	0	0	-7/22	-1/22	1	-1/2

dengan metode *dual simplex* dihasilkan:

	X_1	X_2	S_1	S_2	S_{g1}	rhs
Z	0	0	0	1	8	59
X_2	0	1	0	0	1	3
X_1	1	0	0	1/7	-1/7	32/7
S_1	0	0	1	1/7	-22/7	11/7

Karena solusi baru masih pecahanan, suatu kendala persamaan X_1 memiliki f_1 terbesar ($f_1 = 4/7$), kemudian ia dituliskan dalam bentuk

$$X_1 + (0 + 1/7) S_2 + (-1 + 6/7) S_{g1} = (4 + 4/7)$$

yang menghasilkan kendala Gomory kedua:

$$S_{g2} - 1/7 S_2 - 6/7S_{g1} = -4/7$$

Dan tambahkan kendala ini pada tabel di atas, sehingga diperoleh:

	X_1	X_2	S_1	S_2	S_{g1}	S_{g2}	rhs
Z	0	0	0	1	8	0	59
X_2	0	1	0	0	1	0	3
X_1	1	0	0	1/7	-1/7	0	32/7
S_1	0	0	1	1/7	-22/7	0	11/7
S_{g2}	0	0	0	-1/7	-6/7	1	-4/7

Kemudian digunakan metode *dual simpleX* dan diperoleh

	X_1	X_2	S_1	S_2	S_{g1}	S_{g2}	Rhs
Z	0	0	0	0	2	7	55
X_2	0	1	0	0	1	0	3
X_1	1	0	0	0	-1	1	4
S_1	0	0	1	0	-4	1	1
S_2	0	0	0	1	6	-7	4

yang menghasilkan solusi bulat optimum $X_1 = 4$, $X_2 = 3$ dan $Z = 55$.

7.4. METODE *BRANCH AND BOUND*

Metode Branch dan Bound telah menjadi kode komputer standar untuk *integer programming*, dan penerapan-penerapan dalam praktek tampaknya menyarankan bahwa metode ini lebih efisien dibanding pendekatan Gomory. Metode *Branch* dan *Bound* pertama kali diperkenalkan oleh Land dan Doig, dan dikembangkan lebih lanjut oleh Little dan peneliti-peneliti lain. Teknik ini dapat diterapkan baik untuk masalah *pure* maupun *mixed integer programming* . Langkah - langkah metode *Branch* dan *Bnund* untuk masalah maksimisasi dapat diringkas seperti berikut:

1. Selesaikan masalah LP dengan metode simpleks biasa tanpa pembatasan bilangan bulat.
2. Teliti solusi optimumnya. Jika variabel basis yang diharapkan bulat adalah bulat, solusi optimum bulat telah tercapai. Jika satu atau lebih variabel basis yang diharapkan bulat ternyata tidak bulat, lanjutkan ke langkah 3.
3. Nilai-nilai solusi pecahan yang layak dicabangkan ke dalam sub-sub masalah. Tujuannya adalah untuk menghilangkan solusi kontinu yang tidak memenuhi persyaratan bulat dan masalah itu. Pencabangan itu dilakukan melalui kendala-kendala *mutually exclusive* yang perlu untuk memenuhi persyaratan bulat dengan jaminan tak ada solusi bulat layak yang tak diikutsertakan.
4. Untuk setiap submasalah, nilai-nilai solusi optimum kontinu fungsi tujuan ditetapkan sebagai batas atas. Solusi bulat terbaik menjadi batas bawah (pada awalnya, ini adalah solusi kontinu yang dibulatkan ke bawah). Sub- sub masalah yang memiliki batas atas kurang dan batas bawah yang ada tak diikutsertakan pada analisis selanjutnya. Suatu solusi bulat layak adalah sama baik atau lebih baik dan batas atas untuk setiap submasalah yang dicari. Jika solusi demikian ada, suatu submasalah dengan batas atas terbaik dipilih untuk dicabangkan. Kembali ke langkah 3.

Untuk memperjelas metode *Branch* dan *Bound*, ikuti contoh masalah berikut ini.

Contoh 7.2

Jika masalah integer programming sebagai berikut:

$$\begin{aligned} \text{Max } Z &= 3X_1 + 5X_2 \\ \text{s.t. } 2X_1 + 4X_2 &\leq 25 \\ X_1 &\leq 8 \\ 2X_2 &\leq 10 \\ X_1, X_2 &\text{ nonnegatif integer} \end{aligned}$$

Tentukan solusi optimal integernya.

Penyelesaian

Solusi optimum kontinu masalah ini adalah $X_1 = 8$, $X_2 = 2,25$ dan $Z = 35,25$. Solusi ini menunjukkan batas atas awal. Batas bawah adalah solusi yang dibulatkan ke bawah $X_1 = 8$, $X_2 = 2$ dan $Z = 34$. Dalam metode *Branch and Bound*, masalah itu dibagi ke dalam dua bagian untuk mencari nilai-nilai solusi bulat yang mungkin bagi X_1 dan X_2 . Untuk melakukan ini variabel dengan nilai-nilai solusi pecahan yang memiliki bagian pecahan terbesar dipilih. Karena pada solusi ini hanya X_2 yang punya bagian pecahan, ia dipilih. Untuk menghilangkan bagian pecahan dan nilai-nilai $X_2 = 2,25$, dua kendala baru diciptakan. Kendala-kendala ini mewakili dua bagian baru dari masalah itu. Dalam hal ini, dua nilai-nilai bulat terdekat terhadap 2,25 adalah 2 dan 3. Sehingga diperoleh dua masalah baru melalui dua kendala *mutually exclusive*, $X_2 \leq 2$ dan $X_2 \geq 3$, yang akan diuraikan berikut ini sebagai bagian A dan B. Kendala-kendala ini secara efektif menghilangkan semua nilai-nilai pecahan yang mungkin bagi X_2 , antara 2 dan 3. Pengaruhnya mereka mengurangi ruang solusi layak sedemikian hingga angka solusi bulat yang dievaluasi pada masalah ini makin sedikit.

Bagian A:

$$\begin{aligned} \text{Max } Z &= 3X_1 + 5X_2 \\ \text{s.t. } 2X_1 + 4X_2 &\leq 25 \\ X_1 &\leq 8 \\ 2X_2 &\leq 10 \text{ (berlebih)} \\ X_2 &\leq 2 \\ X_1, X_2 &\geq 0 \end{aligned}$$

Bagian B:

$$\begin{aligned} \text{Max } Z &= 3X_1 + 5X_2 \\ \text{s.t. } 2X_1 + 4X_2 &\leq 25 \\ X_1 &\leq 8 \\ 2X_2 &\leq 10 \\ X_2 &\geq 3 \\ X_1, X_2 &\geq 0 \end{aligned}$$

Bagian A dan B tanpa pembatasan bilangan bulat dengan metode simpleks. Solusi simpleksnya adalah:

Bagian A : $X_1 = 8$, $X_2 = 2$ dan $Z = 34$

Bagian B : $X_1 = 6,5$, $X_2 = 3$ dan $Z = 34,5$

Bagian A menghasilkan suatu solusi yang semuanya bulat. Untuk bagian A batas atas dan bawah adalah $Z = 34$. solusi pecahan bagian B membenarkan pencarian lebih lanjut karena menghasilkan nilai fungsi tujuan yang lebih besar daripada batas atas bagian A. Sangat mungkin bahwa pencarian lebih lanjut dapat menghasilkan suatu solusi yang semuanya bulat dengan nilai fungsi tujuan melebihi batas bagian A.

Bagian B dicabangkan kedalam dua subbagian, B1 dan B2, pertama dengan kendala $X_1 \leq 6$ dan yang lain dengan $X_1 \geq 7$. kedua submasalah dinyatakan seperti berikut:

Sub bagian B1:

$$\begin{aligned} \text{Max } Z &= 3X_1 + 5X_2 \\ \text{s.t. } 2X_1 + 4X_2 &\leq 25 \\ X_1 &\leq 8 \text{ (berlebih)} \\ 2X_2 &\leq 10 \\ X_2 &\geq 3 \\ X_1 &\leq 6 \\ X_1, X_2 &\geq 0 \end{aligned}$$

Sub bagian B2:

$$\begin{aligned} \text{Max } Z &= 3X_1 + 5X_2 \\ \text{s.t. } 2X_1 + 4X_2 &\leq 25 \\ X_1 &\leq 8 \\ 2X_2 &\leq 10 \\ X_2 &\geq 3 \\ X_1 &\geq 7 \\ X_1, X_2 &\geq 0 \end{aligned}$$

Solusi simpleksnya adalah :

Subbagian B1 : $X_1 = 6$, $X_2 = 3,25$, dan $Z = 34, 25$

Subbagian B2 : tak layak

Karena subbagian B1 menghasilkan nilai-nilai fungsi tujuan yang lebih besar daripada 34 (batas atas bagian A), ia harus dicabangkan lagi ke dalam dua submasalah, dengan kendala $X_2 \leq 3$ dan $X_2 \geq 4$. Kedua submasalah diberi nama bagian B1a dan B1b.

Bagian B1a:

$$\begin{aligned} \text{Max } Z &= 3X_1 + 5X_2 \\ \text{s.t. } 2X_1 + 4X_2 &\leq 25 \\ 2X_2 &\leq 10 \text{ (berlebih)} \\ X_2 &\geq 3 \\ X_1 &\leq 6 \\ X_2 &\leq 3 \\ X_1, X_2 &\geq 0 \end{aligned}$$

Bagian B1b:

$$\begin{aligned} \text{Max } Z &= 3X_1 + 5X_2 \\ \text{s.t. } 2X_1 + 4X_2 &\leq 25 \\ 2X_2 &\leq 10 \\ X_2 &\geq 3 \text{ (berlebih)} \\ X_1 &\leq 6 \\ X_2 &\geq 4 \\ X_1, X_2 &\geq 0 \end{aligned}$$

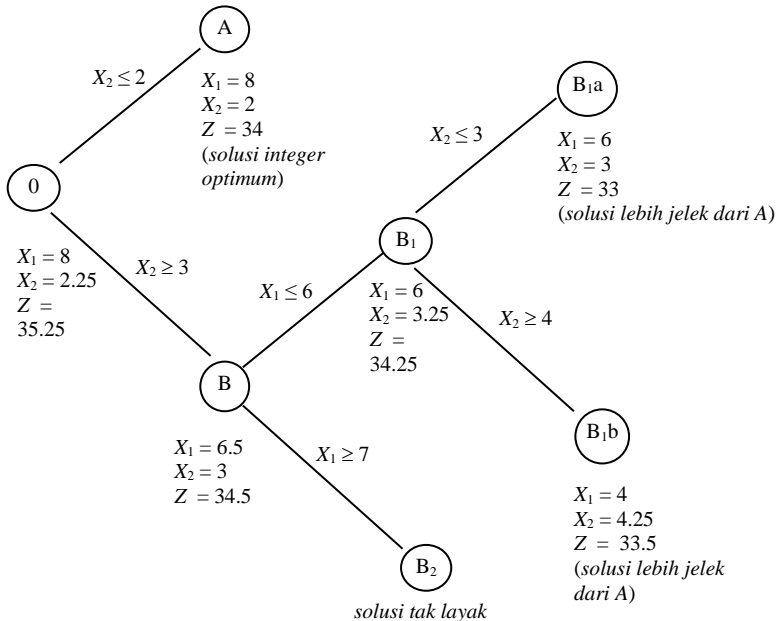
Solusi optimum dengan metode simpleks adalah:

bagian B1a : $X_1 = 6$, $X_2 = 3$, dan $Z = 33$

bagian B1b : $X_1 = 4,25$, $X_2 = 4$, dan $Z = 33,5$

Kedua solusi itu memiliki batas atas ($Z = 33$ dan $Z = 33,5$) yang lebih jelek dibanding solusi yang dihasilkan oleh bagian A. Karena itu, solusi bulat optimum adalah $X_1 = 8$, $X_2 = 2$, dan $Z = 34$ yang dihasilkan oleh bagian A.

Jika pencarian telah dirampungkan, solusi bulat dengan nilai-nilai fungsi tujuan tertinggi (dalam masalah maksimisasi) dipilih sebagai solusi optimum. Perhatikan gambar berikut :



Suatu kelemahan dasar dan metode ini adalah bahwa diperlukan pemecahan masalah LP untuk setiap percabangan. Dalam masalah yang besar, dapat memakan banyak waktu. Karena itu dalam prosedur percabangan dan pencarian, analisis selanjutnya dihentikan jika:

- Hasil dari submasalah lebih jelek dibanding dengan batas atas yang sudah diidentifikasi.
- Percabangan selanjutnya menghasilkan solusi tak layak.

7.5. PEMROGRAMAN BILANGAN BULAT DENGAN

SOTWARE QM for Windows

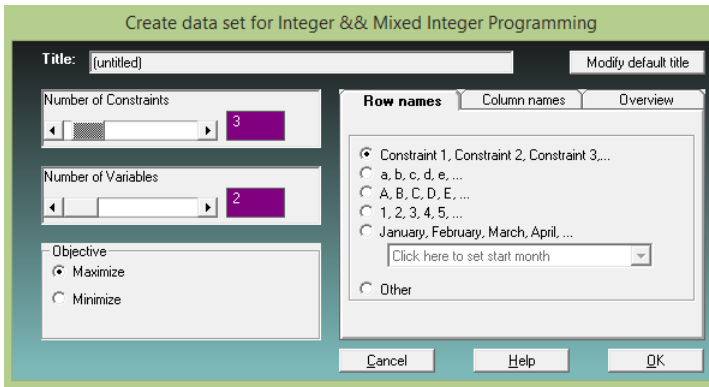
Pada *QM for Win*, pilih menu *Module* dan klik pada *Integer & Mixed Integer Programming* kemudian pilih *New*. Langkah selanjutnya, muncul *window* untuk menentukan jumlah kendala dan jumlah variabel sama seperti pada *linear programming*.

Contoh 7.3

Seperti pada contoh 7.2 diselesaikan dengan *QM for Windows*.

Penyelesaian

Jumlah kendalanya : 3 dan jumlah variabelnya: 2



Masukkan data masalahnya di tabel :

The screenshot shows the LINDO software interface. The menu bar includes File, Edit, View, Module, Format, Tools, Window, and Help. The toolbar contains various icons for file operations and solving. The status bar shows the font is Arial, size 8.25, and the cursor is at column 0.00. The objective is set to Maximize, with a maximum number of iterations of 1000 and a maximum level (depth) of 50. An instruction box says: "Enter the value for maximize for x2. For example, if the inequality is $x_1 + 2x_2 \leq 3$ ".

	X1	X2	RHS	Equation form
Maximize	3	5		Max $3X_1 - 5X_2$
Constraint 1	2	4	25	$2X_1 + 4X_2 \leq 25$
Constraint 2	1	0	8	$X_1 \leq 8$
Constraint 3	0	2	10	$2X_2 \leq 10$
Variable type	Integer	Integer		

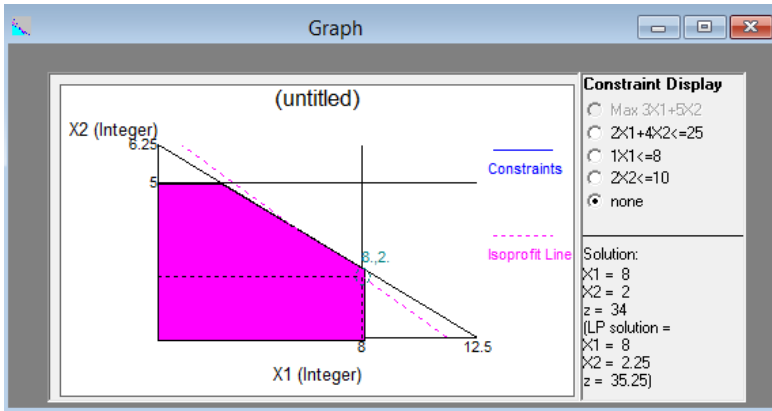
Solusinya: $x_1 = 8$, $x_2 = 2$ dan $Z = 34$

The screenshot shows the "Integer & Mixed Integer Progr..." dialog box. It displays the optimal solution for the problem.

Variable	Type	Value
X1	Integer	8
X2	Integer	2
Solution value		34

The screenshot shows the "Iteration Results" dialog box, which provides a detailed log of the solution process.

Iteration	Level	Added constraint	Solution type	Solution Value	X1	X2
			Optimal	34	8	2
1	0		NONinteger	35.25	8	2.25
2	1	$X_2 \leq 2$	INTEGER	34	8	2
3	1	$X_2 \geq 3$	NONinteger	34.5	6.5	3
4	2	$X_1 \leq 6$	NONinteger	34.25	6	3.25
5	3	$X_2 \leq 3$	Suboptimal	33	6	3
6	3	$X_2 \geq 4$	Suboptimal	33.5	4.5	4
7	2	$X_1 \geq 7$	Infeasible			



RANGKUMAN

Pemrograman Bilangan Bulat (*integer programming*) adalah teknik mencari solusi optimal model LP yang mengharuskan solusinya berupa bilangan bulat. Ini karena ada produk yang tidak dapat diproduksi dalam ukuran bukan bilangan bulat. Metode sederhana adalah dengan menggunakan teknik pembulatan biasa setelah diperoleh solusi optimal dengan metode simpleks. Tetapi metode ini belum tentu memperoleh solusi optimal, bisa memperoleh solusi yang fisibel (tapi tidak optimal) atau bahkan memberikan solusi yang buakn fisibel. Metode selanjutnya adalah metode Gomory yang mengharuskan membentuk kendala gomory dan diselesaikan dengan metode dual simpleks. Metode yang lain adalah metode *branch and bound*. Pada metode ini akan ditambahkan kendala untuk menghindari solusi bukan integer hasil dari metode simpleks dengan membuatnya menjadi dua masalah baru. Kemudian diselesaikan dengan metode simpleks dan dilakukan berulang sampai solusinya sudah integer atau solusinya tidak lebih baik dari solusi integer yang terlebih dahulu ditemukan.

PUSTAKA

1. Luenberger, D.G. and Y. Ye. 2016. *Linear and Nonlinear Programming*, 4^{ed}. Springer Int. Pub. Switzerland.
2. Taha, H.A. 2007. *Operations Research: An Introduction*, 8^{ed}. Prentice Hall, New Jersey.
3. Taylor, B.W. 2013. *Introduction to Management Science*, 11^{ed}. Prentice Hall, New Jersey.
4. Winston, W.L. 2008. *Operations Research. Applications and Algorithms*, 4^{ed}. Brooks/Cole, New York.

SOAL LATIHAN

1. Tentukan solusi optimal integer masalah berikut dengan metode grafik.

$$\begin{aligned} \text{Max } Z &= 3x_1 + 2x_2 \\ \text{s.t } 2x_1 + 2x_2 &\leq 9 \\ 3x_1 + 3x_2 &\leq 18 \\ x_1, x_2 &\geq 0 \text{ dan integer.} \end{aligned}$$

2. Tentukan solusi optimal integer masalah berikut dengan metode grafik.

$$\begin{aligned} \text{Max } Z &= 5x_1 + 7x_2 \\ \text{s.t } 2x_1 + x_2 &\leq 13 \\ 5x_1 + 9x_2 &\leq 41 \\ x_1, x_2 &\geq 0 \text{ dan integer.} \end{aligned}$$

3. Tunjukkan secara grafis bahwa masalah berikut tidak memiliki solusi optimal integer yang mungkin.

$$\begin{aligned} \text{Max } Z &= 2x_1 + x_2 \\ \text{s.t } 10x_1 + 10x_2 &\leq 9 \end{aligned}$$

$$10x_1 + 5x_2 \geq 18$$

$x_1, x_2 \geq 0$ dan integer.

4. Tentukan solusi optimal integer masalah pada soal latihan no.1, dengan metode gomory.
5. Tentukan solusi optimal integer masalah pada soal latihan no.2, dengan metode gomory.
6. Tentukan solusi optimal integer masalah pada soal latihan no.1, dengan metode *branch and bound*.
7. Tentukan solusi optimal integer masalah pada soal latihan no.2, dengan metode *branch and bound*.
8. Verifikasi solusi soal latihan no.3, dengan metode *branch and bound*.
9. Tentukan solusi optimal integer masalah berikut dengan metode gomory.

$$\text{Max } Z = 4x_1 + 6x_2 + 2x_3$$

$$\text{s.t } \begin{aligned} 4x_1 - 4x_2 &\leq 5 \\ -x_1 + 6x_2 &\leq 5 \\ -x_1 + x_2 + x_3 &\leq 5 \\ x_1, x_2 &\geq 0 \text{ dan integer.} \end{aligned}$$
10. Tentukan solusi optimal integer masalah pada soal latihan no.9, dengan metode *branch and bound*.

Altien J. Rindengan (altien@unsrat.ac.id)

Lahir di Tinoor (Tomohon), tanggal 27 April 1974. Pada tahun 1999, memperoleh gelar Sarjana Matematika (S.Si) di Departemen Matematika, Fakultas Matematika dan Ilmu Pengetahuan Alam, Institut Pertanian Bogor. Gelar Magister Ilmu Komputer (M.Kom) diperoleh dari Departemen Ilmu Komputer, Institut Pertanian Bogor, pada tahun 2012. Menjadi dosen di Departemen Matematika, Fakultas Matematika dan Ilmu Pengetahuan Alam, Universitas Sam Ratulangi Manado sejak tahun 2001 sampai sekarang. Mengajar mata kuliah Program Linear sejak tahun 2004. Fokus penelitian-penelitian yang dilakukan adalah riset operasi, sistem pendukung keputusan, sistem *fuzzy* dan *image proceesing*.



Yohanes A.R. Langi (yarlangi@unsrat.ac.id)

Pada tahun 1994, memperoleh gelar Sarjana Matematika (S.Si) di Departemen Matematika, Fakultas Matematika dan Ilmu Pengetahuan Alam, Universitas Kristen Tomohon. Gelar Magister (M.Si) bidang Biometrika Hutan diperoleh dari Departemen Biometrika, Institut Pertanian Bogor pada tahun 2007. Menjadi dosen di Departemen Matematika, Fakultas Matematika dan Ilmu Pengetahuan Alam, Universitas Sam Ratulangi Manado, sejak tahun 2001 sampai sekarang. Mengajar mata kuliah Program Linear sejak tahun 2008. Fokus penelitian-penelitian yang dilakukan adalah rantai markov dan proses stokastik



ISBN 978-602-6529-48-0



Penerbit
**CV. PATRA MEDIA GRAFINDO
BANDUNG**

Jl. Jend. Sudirman No. 110 - Bandung
Telp/Fax: 022-25050001 s.d. 022-25050004
Email: patramedia@grafindo.com
Website: www.patramedia.com